

التدريبات والامتحانات

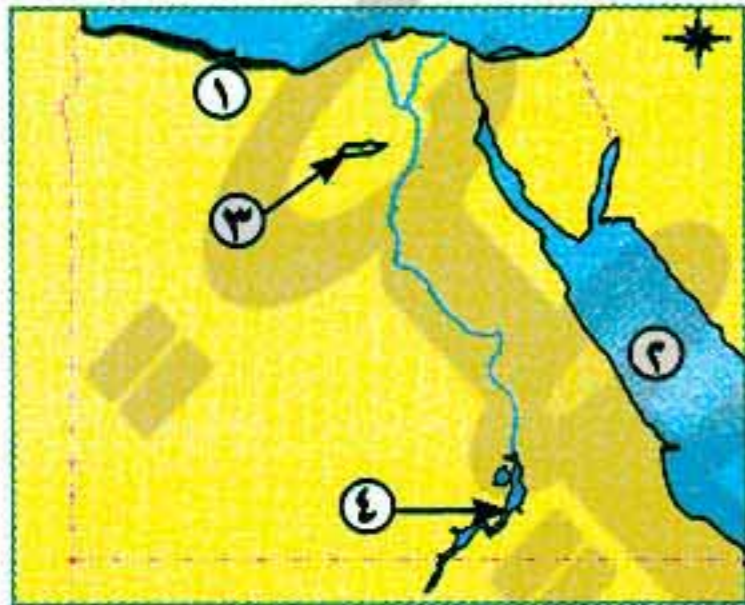
الاختبارات الشهرية (للفصل الدراسي الأول)



اختبار شهري سبتمبر واکتوبر

مجاب عنه ص ٢٧١

أولاً الجغرافيا



١ (١) أمامك خريطة صماء لمصر، اكتب ما تدل عليه الأرقام الموضحة:

- ١- بيئة
٢- البحر
٣- منخفض
٤- بحيرة

(ب) اذكر تفسيرًا واحدًا لكل مما يلي:

- ١- البيئات المصرية تتكامل مع بعضها البعض.
٢- ندرة النبات الطبيعي في البيئة الزراعية.

٣- هجرة سكان النوبة من أماكنهم.

٢ (١) اكتب كلمة (صواب) أمام العبارة الصحيحة وكلمة (خطأ) أمام العبارة غير الصحيحة فيما يلي:

- ١- توجد حدود فاصلة بين البيئات المصرية. ()
٢- تعتمد الزراعة المروية على مياه الأمطار الشتوية بالساحل الشمالي. ()
٣- يتميز مناخ مصر بالاعتدال مع ارتفاع درجة الحرارة صيفًا. ()
٤- يتركز السكان في مصر بالمناطق القريبة من مجرى نهر النيل وفرعيه. ()

(ب) أعط تعريفًا لكل المفاهيم الآتية:

- ١- البيئة. ٢- البطالة. ٣- السد. ٤- السهل الفيضي.

ثانياً التاريخ

٣ (١) اختر الإجابة الصحيحة مما بين الأقواس:

- ١- يدور طريق رأس الرجاء الصالح حول القارة الإفريقية من جهتي
(الغرب والشمال - الغرب والشرق - الغرب والجنوب - الشمال والجنوب)
٢- قام السلطان سليم الأول بترحيل أمهر إلى الآستانة.
(العلماء - القضاة - التجار - الصناع)
٣- كان يتم جلبهم بواسطة التجار ويشترتهم السلاطين. (العثمانيون - المماليك - الملتزمون - الإقطاعيون)
٤- كان من مهام الوالي العثماني في مصر.
(تنفيذ قرارات السلطان - دعوة الديوان للانعقاد - الحفاظ على الأمن - جميع ما سبق)

(ب) اكتب ما تشير إليه العبارات الآتية:

- ١- قبائل رعوية من آسيا الصغرى استطاعت التوسع في الشرق العربي.
٢- فرق عسكرية تعد من هيئات الحكم العثماني ومهمتها الدفاع عن البلاد.
٣- مدينة استطاع العثمانيون فتحها عام ١٤٥٣م واتخذوها عاصمة لهم.

٤ (١) صوب ما فوق الخط في العبارتين الآتيتين:

- ١- كانت مهمة الحامية العثمانية مراقبة الوالي.
٢- اقتصر التعليم في القلعة على حفظ القرآن الكريم ودروس الفقه.

٢٠٦



هذا العمل حصري على موقع ذاكرولى التعليمي ولا يسمح بنشره في أى مواقع أخرى
لمزيد من أعمالنا تفضل بزيارة موقعنا على الانترنت <https://www.zakrooly.com>

(ب) ما النتائج التي ترتبت على...؟

١- الحكم العثماني لمصر. ٢- اكتشاف البرتغاليين طريق رأس الرجاء الصالح عام ١٤٩٨م.

(ج) قارن بين كل من معركة مرج دابق ومعركة الريدانية من حيث:

(أطراف المعركة - مكان المعركة - نتائج المعركة)



اختبار شهر نوفمبر

مجاب عنه ص ٢٧١

أولاً الجغرافيا

١ (١) أكمل العبارات الآتية بكلمات مناسبة:

- ١- من أهم المحاصيل المنتجة للسكر..... و.....
- ٢- من العوامل الطبيعية لقيام الصناعة..... و..... و.....
- ٣- يجب مراعاة اتجاهات..... عند إقامة المصانع.
- ٤- تضم محافظة الفيوم معالم سياحية متعددة مثل بحيرة.....

(ب) اذكر نتيجة واحدة مترتبة على ما يلي:

- ١- توافر رأس المال في الصناعة.
- ٢- تجريف التربة.
- ٣- التوسع في استخدام المزارع السمكية.

٢ (١) اختر الإجابة الصحيحة مما بين الأقواس:

- ١- عين السيليين من المعالم السياحية في محافظة..... (المنيا - أسيوط - الفيوم - القاهرة)
- ٢- من العوامل البشرية لقيام الصناعة..... (المناخ - المواد الخام - رأس المال - مصادر الطاقة)
- ٣- استخدام الأسمدة الكيماوية في تسميد التربة يؤدي إلى التلوث..... (المائي - البيئي - السمعي - الهوائي)
- ٤- من مصادر الطاقة النظيفة غير الملوثة للبيئة..... (الفحم - الرياح - البترول - الغاز الطبيعي)

(ب) اكتب ما تشير إليه العبارات الآتية:

- ١- قناه يتم حفرها عند منسوب أقل من منسوب الترع والأراضي الزراعية لصرف المياه الزائدة عن التربة.
- ٢- تحويل المادة الخام إلى سلع ومنتجات لسد احتياجات السكان.
- ٣- استخدام الإنسان للموارد المتاحة لسد احتياجاته من مأكلاً ومشرباً وملبساً ومسكناً.
- ٤- المناطق التي تقوم فيها الصناعة ويعمل معظم سكانها بالصناعة.

ثانياً التاريخ

٣ (١) اكتب كلمة (صواب) أمام العبارات الصحيحة، وكلمة (خطأ) أمام العبارات غير الصحيحة فيما يلي مع التصويب:

- ١- تم تدمير الأسطول الإنجليزي في معركة أبي قير البحرية. ()
- ٢- فشلت حملة نابليون على الشام لعدم قدرتها على فتح عكا. ()
- ٣- اعتبرت الحكومة الفرنسية أمر الحملة الفرنسية على مصر سراً. ()
- ٤- حققت الحملة الفرنسية على مصر أهدافها من الناحية الحربية. ()

(ب) أعط تعريفاً صحيحاً لكل المفاهيم الآتية:

- ١- احتلال.
- ٢- ثورة.
- ٣- مستعمرة.

٤ (١) لمن تنسب الأعمال الآتية...؟

- ١- حاكم مدينة الإسكندرية وتزعم مقاومة أهل المدينة ضد الاحتلال الفرنسي لمصر.
- ٢- تولى قيادة الحملة الفرنسية بعد كليبر وخرج بالحملة من مصر عام ١٨٠١م.
- ٣- زعيم مصرى وطنى تزعم ثورة القاهرة الثانية فى مارس ١٨٠٠م.
- ٤- قائد الحملة الفرنسية على مصر عام ١٧٩٨م.

(ب) بم تفسر...؟

- ١- استيلاء الحملة الفرنسية على جزيرة كريت.
- ٢- أثار نابليون الشعور الدينى لدى المصريين.
- ٣- فشل اتفاقية العريش ١٨٠٠م.
- ٤- رغبة حكومة فرنسا فى إقامة مستعمرة فرنسية فى مصر.



اختبار شهرى ديسمبر ويناير

مجاب عنه ص ٢٧٢

أولاً الجغرافيا

١ (١) اختب كلمة (صواب) أمام العبارة الصحيحة وكلمة (خطأ) أمام العبارة غير الصحيحة فيما يلى:

- ١- تعد صناعة الأسمدة من الصناعات الغذائية. ()
- ٢- المساحة الخضراء وسيلة لعلاج مشكلات البيئة الصناعية. ()
- ٣- الاهتمام بالتعليم الفنى يهدف إلى عمالة غير مدربة. ()

(ب) ما المقصود بالمصطلحات الآتية...؟

- ١- صناعات حرفية.
- ٢- الاستنزاف.
- ٣- صناعات حديثة.
- ٤- صناعات بسيطة.

٢ (١) «أنشئت العديد من المناطق الصناعية بمصر لإعداد قاعدة صناعية تزداد بوقفا بعد يوم». فى ضوء هذه العبارة أجب عما يأتى:

- ١- ما هى أهداف الدولة من إنشاء المناطق الصناعية؟
- ٢- اذكر ثلاث صناعات ازدهرت فى مصر فى عهد محمد على باشا.
- ٣- وضع إحدى مشكلات البيئة الصناعية ووسائل علاجها.
- (ب) برهن على صحة العبارة الآتية: - عرفت مصر الصناعة منذ عهد قدماء المصريين.
- (ج) وضع أهمية وزارة البيئة بالنسبة للصناعة.

ثانياً التاريخ

٣ (١) اختر من القائمة (ب) ما يناسب القائمة (أ):

(ب)	(أ)
عمر مكرم	١- أعطى امتياز حفر قناة السويس بعد أن تولى حكم مصر
محمد سعيد باشا	٢- تولى القيادة العامة لحملة الحجاز
توفيق	٣- ابن محمد على وتولى حكم مصر عدة أشهر وتوفى عام ١٨٤٨م
إبراهيم باشا	٤- عزله محمد على من منصبه رغم جهوده فى تولية حكم مصر
عبد الله الشرقاوى	٥- تولى حكم مصر بعد عزل أبيه الخديو إسماعيل
طوسون باشا	

(ب) ماذا كان يحدث إذا...؟ نجح فريزر في حملته على مصر عام ١٨٠٧م.

٤ (أ) بم تفسر...؟

١- لم يتمكن المماليك من الوصول إلى حكم مصر بعد جلاء الحملة الفرنسية.

٢- اهتمام محمد علي بالسياسة الاقتصادية لمصر.

(ب) ما النتائج التي ترتبت على...؟

٢- تخلص محمد علي من المماليك.

١- اهتمام محمد علي بالتعليم والثقافة.

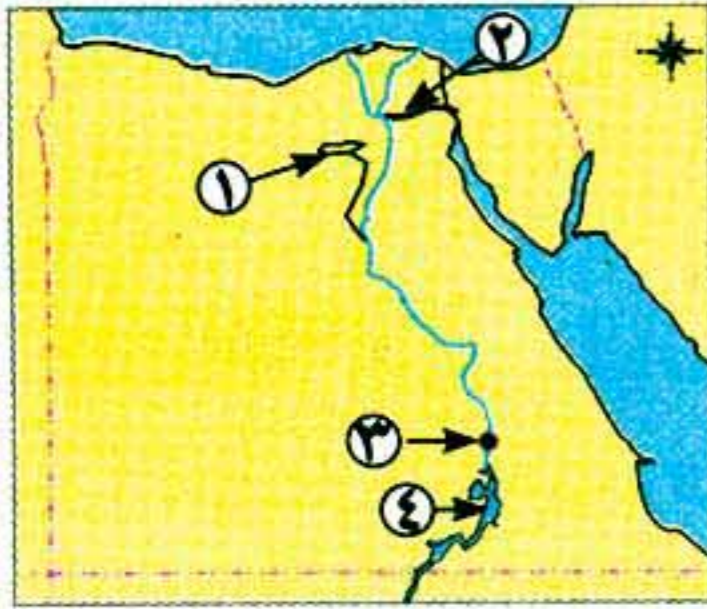
اختبارات الأضواء (منتصف الفصل الدراسي الأول)



الاختبار الأول

مجاب عنه ص ٢٧٢

أولاً الجغرافيا



١ (أ) أمامك خريطة صماء لمصر، اكتب ما تدل عليه الأرقام الموضحة:

١- منخفض بالصحراء تربته خصبة.....

٢- ترعة شرق الدلتا.

٣- من مشروعات الري في مصر.....

٤- بحيرة.....

(ب) أكمل العبارات الآتية:

١- بيئات مصر..... بسبب اتساع مساحتها.

٢- يتصل منخفض الفيوم بالوادي عن طريق ترعة.....

٣- توجد ترعة..... غرب الدلتا.

٤- من العادات الإيجابية لسكان البيئة الزراعية احترام..... وعدم التفريط في.....

٢ (أ) اكتب كلمة (صواب) أمام العبارة الصحيحة وكلمة (خطأ) أمام العبارة غير الصحيحة فيما يلي:

١- ترتفع نسبة الأمية في البيئة الزراعية. ()

٢- يظهر السطح في منخفض الفيوم على شكل مدرجات. ()

٣- يعتمد نشاط صيد الأسماك في البيئة الزراعية على نهر النيل فقط. ()

٤- البيئات في مصر متداخلة ومتكاملة ومتنوعة. ()

(ب) بم تفسر...؟

١- تناقص مساحة الأراضي الزراعية في البيئة الزراعية. ٢- قيام نشاط السياحة في محافظة الفيوم.

(ج) ما النتائج المترتبة على...؟

١- بناء السد العالي. ٢- تجريف التربة.

ثانياً التاريخ

٣ (أ) اختر الإجابة الصحيحة مما بين القوسين:

١- فتحت القسطنطينية عاصمة الدولة البيزنطية في عهد السلطان.....

(سليم الأول - محمد الفاتح - بايزيد الثاني - طومان باي)

٢- امتدت الدولة المملوكية متضمنة بلاد.....

(النوبة - الخليج العربي - الشام - الرافدين)

- ٣- أصبحت مصر ولاية عثمانية بعد معركة (مرج دابق - ديو البحرية - الريدانية - جالديران)
- ٤- كانت القلعة مقر وعليه أن يشرف وينفذ قرارات السلطان العثماني. (الديوان - الحامية - الوالي - القاضي)
- (ب) ما النتائج المترتبة على ...؟
- ١- معركة مرج دابق ١٥١٦م.
- ٢- اكتشاف البرتغاليين طريق رأس الرجاء الصالح.
- (ج) مم تتكون هيئات الحكم المحلية في مصر تحت حكم العثمانيين؟
- ٤ (١) اذكر سببًا واحدًا لكل من:

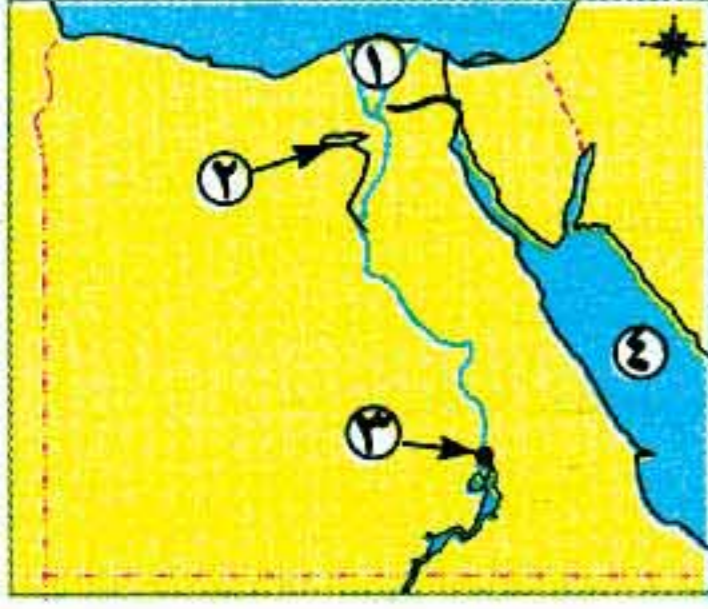
- ١- هزيمة المماليك أمام العثمانيين.
- ٢- ازدهار دولة المماليك في بداية حكمها لمصر.
- (ب) «تدهورت مصر بشكل كبير أثناء الحكم العثماني». في ضوء العبارة وضع:
- ١- أسباب تدهور الحياة العلمية والثقافية.
- ٢- تدهور الحياة الاجتماعية في مصر العثمانية (أيد صحة العبارة).
- (ج) من أكون ...؟
- ١- قمت بتأسيس الدولة العثمانية.
- ٢- أنا دولة كبيرة قامت في مصر والشام عقب سقوط الدولة الأيوبية.



الاختبار الثاني

(يجب عنه التلميذ)

أولاً الجغرافيا



١ (١) على خريطة مصر الصماء التي أمامك اكتب مدلول الأرقام الآتية:

- ١- منطقة زراعية فيضية
- ٢- منخفض
- ٣- بحيرة
- ٤- البحر

(ب) اكتب كلمة (صواب) أمام العبارة الصحيحة وكلمة (خطأ) أمام العبارة غير الصحيحة:

- ١- تبدو الدلتا على شكل مستطيل. ()
- ٢- البنجر من المحاصيل المنتجة للسكر. ()
- ٣- لا تؤثر الأسمدة الكيماوية على التربة. ()
- ٤- تقوم الزراعة في الواحات على مياه الأمطار. ()

٢ (١) قارن بين العادات الإيجابية والعادات السلبية لسكان البيئة الزراعية.

عادات سلبية	عادات إيجابية
.....
.....
.....

(ب) بم تفسر...؟

- ١- انخفاض نسبة الأمية في البيئة الزراعية في السنوات الأخيرة.
- ٢- قيام الزراعة في الساحل الشمالي.

(ج) ما النتائج المترتبة على...؟

١- استواء السطح في الوادى والدلتا. ٢- هجرة سكان الريف إلى المدن.

ثانياً التاريخ

٣ (١) أكمل العبارات الآتية:

- ١- تراوحت مدة حكم فى مصر العثمانية بين عام وثلاثة أعوام.
- ٢- استطاع محمد الثانى فتح القسطنطينية عاصمة الدولة
- ٣- انتصر سليم الأول على قائد المماليك فى مصر فى معركة الريدانية.
- ٤- تنتسب الدولة العثمانية إلى مؤسسها

(ب) اختر الإجابة الصحيحة مما بين القوسين:

- ١- قامت دولة المماليك عقب سقوط الدولة (الأموية - العباسية - الأيوبية - الطولونية)
- ٢- يعتبر نائب السلطان العثمانى فى مصر. (الحامية - الديوان - الوالى - المماليك)
- ٣- تدهورت الحياة العلمية فى مصر العثمانية واقتصرت فى الأزهر على (حفظ القرآن - الفقه - التشريع - كل ما سبق)
- ٤- تكونت هيئات الحكم فى مصر العثمانية من (الوالى - الحامية العثمانية - الديوان - كل ما سبق)

٤ (١) بم تفسر...؟

- ١- هزيمة المماليك أمام العثمانيين. ٢- أهمية الحامية العسكرية التى تركها العثمانيون فى مصر.
- (ب) قارن بين: معركة الريدانية - مرج دابق من حيث: (الأطراف - النتائج).

(ج) ماذا كان يحدث إذا...؟

- ١- نالت مشاريع الري والزراعة الاهتمام المنشود من حكام الدولة العثمانية فى مصر.
- ٢- اهتمت الدولة العثمانية بالعلوم العقلية والرياضيات والطبيعة.

مصاب من
بعضها
ص ٢٧٢

تدريبات الموقع الرسمى لوزارة التربية والتعليم على الفصل الدراسي الأول



١ اكتب كلمة (صواب) أمام العبارة الصحيحة وكلمة (خطأ) أمام العبارة غير الصحيحة فيما يلي:

- ١ - من النتائج المترتبة على كثافة النشاط الزراعى كثرة النباتات الطبيعية. ()
- ٢ - يعد انخفاض الفيوم بيئة زراعية رغم وقوعه فى الصحراء الغربية. ()
- ٣ - تتميز أراضي الدلتا بوجود تضاريس مرتفعة. ()
- ٤ - تعد صناعة الفخار أحد أنواع الصناعة الحديثة. ()
- ٥ - تعد محافظة شمال سيناء إحدى محافظات وادى النيل. ()
- ٦ - تقل الزراعة فى الأطراف الشمالية للدلتا. ()
- ٧ - تبدو الدلتا على شكل مثلث رأسه شمال القاهرة وقاعدته على ساحل البحر المتوسط. ()
- ٨ - احترام الكبير والتعاون من العادات الإيجابية فى البيئة الزراعية. ()
- ٩ - يقل استخدام مصادر الطاقة فى مجال الصناعة. ()

- ١٠- تساهم الصناعة في ارتفاع مستوى المعيشة. ()
- ١١- الزواج المبكر من العادات السيئة في البيئة الزراعية. ()
- ١٢- تنخفض نسبة الأمية في الريف مقارنة بالمدن. ()
- ١٣- تدهورت أحوال الممالك الاقتصادية بعد اكتشاف طريق رأس الرجاء الصالح. ()
- ١٤- حُرِمَ المصريون من خيارات بلادهم. ()
- ١٥- يتكون الديوان من كبار الضباط وكبار الموظفين. ()
- ١٦- استخدم نابليون الشدة في قمع الثوار في ثورة القاهرة الأولى. ()
- ١٧- أرسل (محمد على) ابنه إبراهيم باشا في حملة إلى بلاد الحجاز. ()
- ١٨- تخلص (محمد على) من المماليك في مذبح القلعة ١٨١١م. ()

٢ أكمل العبارات الآتية بما يناسبها من كلمات:

- ١ - توجد البيئة الزراعية في و و
- ٢ - أدى تنوع البيئات في مصر إلى و
- ٣ - توجد ترعة الإسماعيلية في شرق
- ٤ - يتصل منخفض الفيوم بالنيل عن طريق
- ٥ - من المواد الخام المعدنية اللازمة للصناعة و
- ٦ - يهاجر سكان الوجه القبلى إلى مدن و
- ٧ - تناقص نسبة العاملين بالنشاط الزراعى بسبب
- ٨ - أنشأت الدولة وزارة لإصدار القوانين لحماية البيئة.
- ٩ - تنقسم المواد الخام اللازمة للصناعة إلى و
- ١٠ - من الأنشطة المرتبطة بالنشاط الزراعى و
- ١١ - من محاصيل المنسوجات في مصر و
- ١٢ - من أسباب التلوث البيئى في مصر و
- ١٣ - تألفت هيئات الحكم العثمانى في مصر من الحامية العثمانية والوالى و
- ١٤ - فرقت الحياة الاجتماعية في مصر العثمانية بين و
- ١٥ - نشأت الدولة أواخر القرن الثالث عشر الميلادى.
- ١٦ - هُزمت القوات المملوكية أمام العثمانيين في معركة ١٥١٦م.
- ١٧ - كان ل..... سلطة مراقبة الوالى.
- ١٨ - أصبحت ولاية عثمانية عام ١٥١٧م.
- ١٩ - قام محمد الفاتح عام ١٤٥٣م بفتح مدينة
- ٢٠ - أمر السلطان العثمانى بترحيل أمهر الصناع والحرفيين إلى
- ٢١ - من هيئات الحكم المحلية في مصر أثناء الحكم العثمانى و
- ٢٢ - يعد الوالى نائبًا للسلطان في الولاية ومقره
- ٢٣ - كانت مدة حكم الوالى تتراوح بين و أعوام.
- ٢٤ - تصدى أهالى الإسكندرية بقيادة للحملة الفرنسية.

- ٢٥ - فرالماليك إلى الصعيد بعد هزيمتهم في معركة و.....
- ٢٦ - اتخذ المصريون من مركزاً لمقاومة الفرنسيين أثناء ثورة القاهرة الأولى.
- ٢٧ - اندلعت ثورة القاهرة الثانية أثناء قيادة للحملة الفرنسية.
- ٢٨ - اهتم (محمد على) بالزراعة فأدخل محاصيل جديدة مثل
- ٢٩ - اقتصر التعليم في الأزهر على حفظ ودروس و.....
- ٣٠ - أبحرت الحملة الفرنسية من ميناء طولون ومنه إلى جزيرة عام ١٧٩٨م.
- ٣١ - اهتم (محمد على) بالصناعة فأقام مصانع و.....
- ٣٢ - أرسلت إنجلترا وفرنسا حملة بقيادة إلى مصر عام ١٨٠٧م.
- ٣٣ - تخلص (محمد على) من الزعامة الشعبية بنفى إلى
- ٣٤ - أنشأ (محمد على) العديد من القصور مثل قصر
- ٣٥ - أنشأ (محمد على) ترسانة لصناعة السفن في
- ٣٦ - فرضت إنجلترا وفرنسا معاهدة على (محمد على) عام ١٨٤٠م.

٣ تخير الإجابة الصحيحة مما بين الأقواس وأكمل بها الفراغات الآتية:

- ١ - تعتبر صناعة الألومنيوم أحد أنواع الصناعات (الهندسية والكهربائية - الكيميائية - المعدنية - الغذائية)
- ٢ - توجد البيئة الزراعية الفيضية في الدلتا ووادي النيل و.....
(واحة سيوة - شبه جزيرة سيناء - الصحراء الشرقية - منخفض الفيوم)
- ٣ - توفر البيئة الزراعية للبيئة الصناعية
(الآلات الزراعية - المواد الخام - المنتجات الغذائية المصنعة - الأجهزة الكهربائية)
- ٤ - من العادات السلبية في البيئة الزراعية (التعاون - احترام الكبير - التزاور فيما بينهم - زيادة الإنجاب)
- ٥ - من العوامل البشرية لقيام الصناعة (الموقع الجغرافي - المناخ - رأس المال - المواد الخام)
- ٦ - تقوم الزراعة في الواحات اعتماداً على مياه (النيل - الأمطار - الآبار والعيون - الري)
- ٧ - تمدنا البيئة بالمعادن المختلفة. (الزراعية - الصناعية - الصحراوية - الساحلية)
- ٨ - تقع السنة الزراعية في
(الوادي والدلتا ومنخفض الفيوم - الوادي وشبه جزيرة سيناء - الدلتا وشبه جزيرة سيناء - الوادي والدلتا وشبه جزيرة سيناء)
- ٩ - تقوم الزراعة على مياه الأمطار في مصر. (شرق - غرب - جنوب - شمال)
- ١٠ - يختلف منخفض الفيوم عن المنخفضات الصحراوية ب
(وجود الكثير من الآبار - اتصاله بنهر النيل - اتصاله بمنخفض القطارة - بعده عن المرتفعات)
- ١١ - يقل عدد السكان في الوجه البحري كلما اتجهنا نحو الشمال بسبب
(انخفاض خصوبة التربة - قلة مياه الري - تنوع الأنشطة البشرية - نمو النبات الطبيعي)
- ١٢ - من العوامل الطبيعية اللازمة لقيام الصناعة (المناخ - رأس المال - النقل - السوق)
- ١٣ - من العوامل البشرية اللازمة لقيام الصناعة (الموقع الجغرافي - المناخ - المواد الخام - رأس المال)
- ١٤ - من خصائص سكان البيئة الصناعية
(ارتفاع نسبة البطالة - مشاركة المرأة في العمل - ارتفاع نسبة الأمية - انخفاض مستوى الدخل)
- ١٥ - هُزم السلطان المملوكي طومان باي في موقعة (مرج دابق - إمبابة - الريدانية - شبراخيت)

- ١٦ - أنشأ (محمد على) مصانع السكر في
(الوجه البحرى - الوجه القبلى - الوادى الجديد - شبه جزيرة سيناء)
١٧ - نجح الفرنسيون في احتلال الإسكندرية بعد مقاومة حاكمها
(محمد كريم - عمر مكرم - الشيخ السادات - عبد الله الشرقاوى)

٤ اختر من القائمة (ب) ما يناسبها من القائمة (أ) فيما يلى:

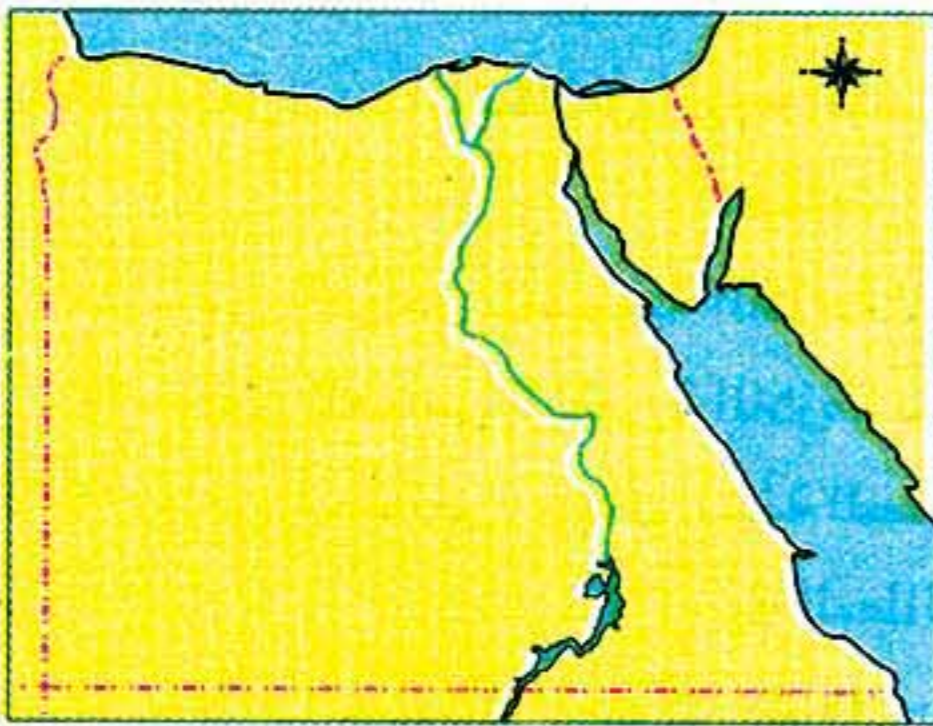
(ب)	(أ)
١ - قناة لصرف المياه الزائدة.	١- الترعة
ب - بناء هندسى على مجرى النهر لحجز المياه الزائدة.	٢- القنطرة
ج - قناة لتوصيل المياه للأراضى الزراعية.	٣- السد
د - حاجز مائى أنشئ بغرض رفع منسوب المياه لنقلها إلى الأراضى مرتفعة المنسوب.	

٥ اكتب ما تشير إليه العبارات الآتية:

- ١ - البيئة التى نشأت فى السهول الفيضية الخصبة.
- ٢ - سهل يتكون من التربة الطينية التى يأتى بها نهر النيل من منابعه.
- ٣ - إزالة الطبقة السطحية الخصبة من التربة مما يؤدي لتدهور الأرض الزراعية.
- ٤ - هجرة الأشخاص من مكان إلى مكان داخل أو خارج حدود الدولة.
- ٥ - مناطق بنيت بدون تخطيط من الدولة وعادة تظهر حول أطراف المدن.
- ٦ - استهلاك واستغلال الموارد الطبيعية بشكل غير منتظم مما يؤدي لضياعها أو انقراضها.
- ٧ - المناطق التى يعمل معظم سكانها بالصناعة والوظائف الخدمية.
- ٨ - تجهيز الجيش وتوجيهه لأهداف حربية.
- ٩ - استيلاء دولة على دولة أخرى قهراً.
- ١٠ - إقليم يحكمه أجنبي يتوطنه ويكتفى باستغلاله اقتصادياً أو عسكرياً.
- ١١ - غلمان تم جلبهم بواسطة التجار واشتراهم السلاطين والأمراء وألحقوهم بمدارس خاصة.
- ١٢ - حركة شعبية شاملة تهدف إلى التغيير الجذرى الشامل والمنظم للأوضاع السياسية والاقتصادية والاجتماعية فى المجتمع.
- ١٣ - إحدى هيئات الحكم العثمانى، مهمتها حماية البلاد والدفاع عنها.

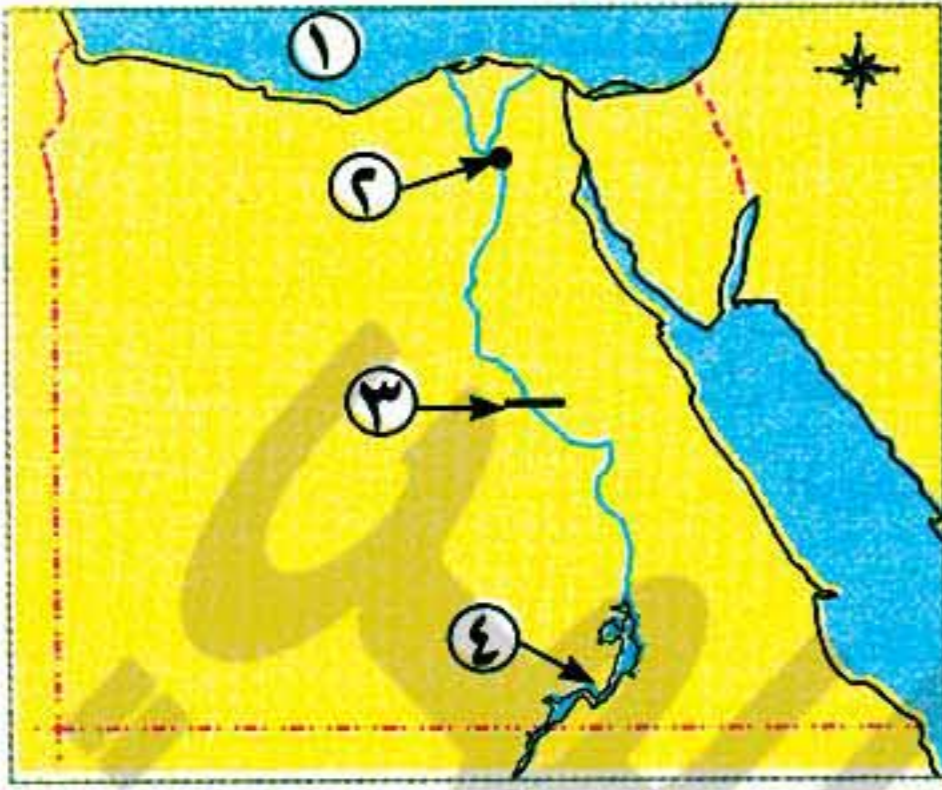
٦ قامت الدولة بسن القوانين التى تجرم تجريف التربة نظراً لأضرارها الكبيرة فى الحاضر والمستقبل. فى ضوء هذه العبارة وضح:

- ١- أسباب تجريف التربة.
- ٢- النتائج المترتبة على استمرار تجريف التربة.



٧ حدد على خريطة مصر الصماء مناطق البيئة

الزراعية ثم قم بتلوينها باللون المناسب.



٨ أمامك خريطة صماء لمصر، اكتب مدلول الأرقام الموقعة عليها:

- ١- البحر
- ٢- مدينة
- ٣- قناطر
- ٤- بحيرة

٩ ما النتائج المترتبة على...؟

- ١- الهجرة من الريف إلى المدن.
- ٢- تنوع الموارد الطبيعية والبشرية في البيئة الزراعية.
- ٣- انتشار المناطق السياحية في البيئة الزراعية.
- ٤- زيادة المشكلات الاقتصادية التي يعانيها السكان في البيئة الزراعية.
- ٥- تنوع البيئات المصرية.
- ٦- الزواج المبكر للإناث.
- ٧- نظام الحكم والإدارة العثمانية لمصر.
- ٨- نفى (محمد على) السيد عمر مكرم.
- ٩- تصدى أهالي رشيد لحملة فريزر ١٨٠٧م.
- ١٠- موقعة أبي قير البحرية ١٧٩٨م.
- ١١- الحملة الفرنسية على مصر من الناحية العلمية والثقافية.

١٠ بم تفسر...؟

- ١ - اهتمام الدولة بالتعليم الفنى الصناعى.
- ٢ - تنوع البيئات المصرية.
- ٣ - تدهور الحياة الفنية أثناء الحكم العثمانى.
- ٤ - قيام ثورة القاهرة الأولى.
- ٥ - قيام (محمد على) بمذبحة القلعة.
- ٦ - إنشاء (محمد على) القناطر الخيرية.
- ٧ - ضعف وانهار الدولة المملوكية.
- ٨ - فشل حملة نابليون على الشام.
- ٩ - قيام ثورة القاهرة الثانية.
- ١٠ - اهتمام (محمد على) بزراعة أشجار التوت.
- ١١ - فشل اتفاقية العريش بين كليبر والعثمانيين.

١١ تخيل أنك رئيس لإحدى المدن الصناعية:

- ١- ما الجهود التي ستقوم بها لحماية البيئة من المخلفات الصناعية؟
- ٢- ما المنتجات الصناعية التي يحتاجها سكان البيئة الزراعية من البيئة الصناعية؟

١٢ (أ) «اعتبرت الحكومة الفرنسية أمر حملة نابليون على مصر سراً لا يعلمه غيره».

- ١- ما اسم الميناء الذي أبحرت منه الحملة؟
- ٢- ما الأسباب المعلنة لمجىء الحملة؟
- (ب) «يتميز سكان البيئة الزراعية ببعض الخصائص التي تميزهم».
- ١- ما العادات السلبية لدى سكان البيئة الزراعية؟
- ٢- ما جهود الدولة لحل مشكلة البطالة لسكان البيئة الزراعية؟

(ج) «تواجه البيئة الصناعية العديد من المشكلات وتسعى الدولة جاهدة من أجل حلها».

١- ما المشكلات التي تواجهها البيئة الصناعية؟ ٢- ما جهود الدولة من أجل حلها؟

١٣ عبر عن رأيك في:

- ١- «الوجه القبيح للاحتلال الفرنسي».
٢- شخصية عمر مكرم.
٣- زيادة أعداد المدارس في الريف المصري.
٤- بناء المصانع على الأراضي الزراعية.

١٤ ماذا كان يحدث إذا...؟

- ١- استطاعت الحملة الفرنسية جعل مصر قاعدة للمستعمرة الفرنسية في الشرق.
٢- اهتم العثمانيون بالتعليم والثقافة في مصر.

١٥ قارن بين:

- ١- أطماع العثمانيين والمماليك والإنجليز وسعيهم لحكم مصر.
٢- موقعة أبي قير البحرية وموقعة أبي قير البرية من حيث: الأسباب والنتائج.

١٦ دلل تاريخيًا على صدق العبارتين التاليتين:

- ١- اهتم (محمد علي) بالزراعة في مصر.
٢- كان للحملة الفرنسية بعض الآثار الإيجابية.

١٧ «كان لضعف الدولة العثمانية أثره الواضح على أوضاع مصر السياسية والاجتماعية والاقتصادية». في ضوء هذه العبارة أجب:

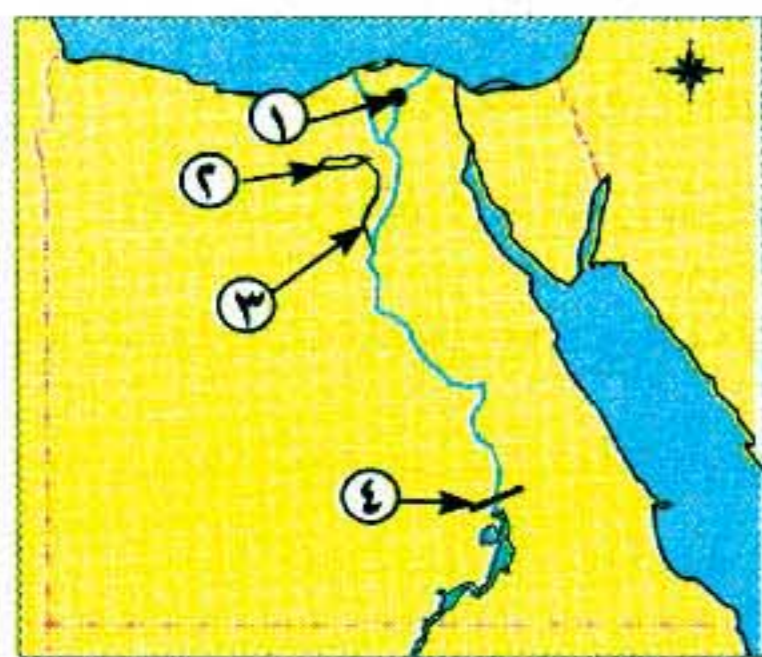
- ١- ما مظاهر الحكم العثماني في مصر؟
٢- ما الآثار المترتبة على الحكم العثماني في مصر؟
٣- ما رأيك في ترحيل السلطان سليم الأول لأمهرا الصناع إلى الآستانة؟

اختبارات الموقع الرسمي لوزارة التربية والتعليم على الفصل الدراسي الأول



اختبار (١)

مجاب عنه ص ٢٧٣



أجب عن الأسئلة الآتية:

أولاً الجغرافيا

١ (١) أمامك خريطة صماء لمصر. اكتب مدلول الأرقام الموقعة عليها:

- ١- فرع
٢- منخفض
٣- ترعة
٤- السد

(ب) أعط تعريفًا صحيحًا لكل من المفاهيم التالية:

- ١- العشوائيات. ٢- السهل الفيضي. ٣- الهجرة.

٢ (١) اكتب كلمة (صواب) أمام العبارة الصحيحة، وكلمة (خطأ) أمام العبارة غير الصحيحة مع التصويب:

- ١- أدى تنوع البيئات المصرية إلى تنوع الثروات الطبيعية بها. ()
٢- تعتمد الزراعة في الساحل الشمالي على مياه النيل. ()

- ٣- صناعة الألومنيوم من الصناعات الهندسية .
٤- تضم محافظة الفيوم بعض المعالم السياحية مثل بحيرة قارون .
(ب) ما النتائج المترتبة على ...?
١- هجرة السكان من الريف إلى المدن .
٢- تجريف التربة الزراعية .

ثانياً التاريخ

- ٣ (١) تخير الإجابة الصحيحة مما بين الأقواس وأكمل بها الفراغات التالية:
١- تنتسب الدولة العثمانية لمؤسسها (محمد الفاتح - بايزيد الثاني - سليم الأول - عثمان بن أرطغرل)
٢- انتصر العثمانيون على المماليك في معركة ١٥١٦م. (الريدانية - مرج دابق - ديوالبحرية - شبراخيت)
٣- تم عقد اتفاقية العريش عام ١٨٠٠م بين العثمانيين والقائد (مينو - نابليون - كليبر - نلسون)
٤- انطلقت ثورة القاهرة الثانية من حي (بولاق - الأزهر - عين شمس - المطرية)
٥- قام السلطان بترحيل أمهر الصناعات والحرفيين إلى الآستانة .
(محمد الفاتح - سليم الأول - عثمان بن أرطغرل - سليمان خان)

(ب) ماذا كان يحدث إذا ...?

- ١- لم يقف زعماء الشعب بجانب (محمد على) في بداية حكمه .
٢- نجحت حملة فريزر في تحقيق أهدافها .

٤ (١) بم تفسر ...?

- ١- قيام ثورة القاهرة الأولى .
٢- قيام (محمد على) بمذبحة القلعة .
٣- ضعف وانهيار الدولة المملوكية .
٤- تدهور الحياة الفنية أثناء الحكم العثماني .
(ب) اكتب ما تشير إليه العبارتان الآتيتان:

- ١- فرق عسكرية من هيئات الحكم العثماني في مصر من مهامها الدفاع عن البلاد .
٢- استيلاء دولة على بلد آخر قهراً .



اختبار (٢)

مجاب عنه ص ٢٧٤

أجب عن الأسئلة الآتية:

أولاً الجغرافيا

- ١ (١) أمامك خريطة صماء لمصر. وضع مدلول الأرقام الموقعة عليها:

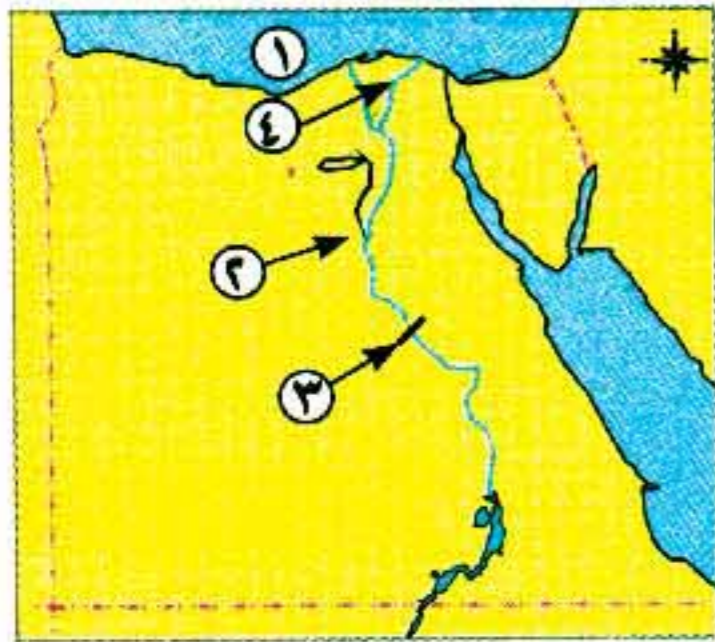
- ١- البحر
٢- ترعة
٣- قناطر
٤- فرع

(ب) أعط تعريفاً صحيحاً لكل من المفاهيم التالية:

- ١- ترعة .
٢- الصناعات البسيطة .
٣- مصرف .

٢ (١) بم تفسر ...?

- ١- ندرة النباتات الطبيعية في البيئة الزراعية .
٢- تنوع البيئات المصرية .
٣- اهتمام الدولة بإنشاء وزارة للشئون البيئية .



(ب) اكتب كلمة (صواب) أمام العبارة الصحيحة وكلمة (خطأ) أمام العبارة غير الصحيحة فيما يلي مع التصويب:

- ١- يتصل منخفض الفيوم بنهر النيل عن طريق ترعة السلام. ()
- ٢- شجعت الدولة استخدام الأسمدة الكيماوية في تسميد التربة. ()
- ٣- يراعى عند بناء المصانع اتجاهات الرياح. ()
- ٤- تتركز صناعة الألومنيوم في الوجه البحري. ()

ثانياً التاريخ

٣ (١) أكمل العبارات الآتية بكلمات مناسبة:

- ١- تألفت هيئات الحكم المحلية في مصر أثناء الحكم العثماني من قوى.
- ٢- تدهورت الحالة الاقتصادية لمصر بعد اكتشاف طريق
- ٣- أبحرت الحملة الفرنسية من ميناء جنوب فرنسا عام ١٧٩٨م.
- ٤- زرع (محمد علي) أشجار لتربية دودة القز.
- ٥- استثنى الشيخ من أحكام الإعدام التي صدرت ضد بعض مشايخ الأزهر.

(ب) رتب الأحداث التاريخية الآتية من القديم إلى الحديث:

«نهاية حكم (محمد علي) - اتفاقية العريش - موقعة أبي قير البرية - الحملة الفرنسية على مصر- مذبحه القلعة».

٤ (١) اكتب ما تشير إليه العبارات الآتية:

- ١- إشراف الدولة على مصادر الاقتصاد المصري.
- ٢- قوات عثمانية تركها السلطان العثماني سليم الأول في مصر.
- ٣- حركة شعبية شاملة تهدف إلى التغيير الجذري الشامل والمنظم لأوضاع المجتمع.
- ٤- غلمان كان يتم جلبهم بواسطة التجار وتولوا حكم مصر عقب انهيار الدولة الأيوبية.
- ٥- تجهيز الجيش وتوجيهه لأهداف حربية.

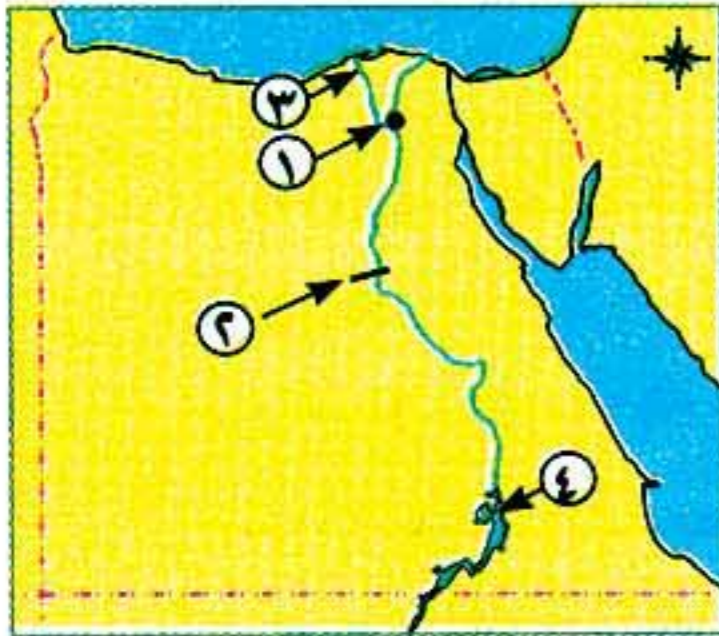
(ب) تخير الإجابة الصحيحة مما بين الأقواس:

- ١- أبحرت الحملة الفرنسية سراً إلى مصر من ميناء (مرسيليا - طولون - جنوة - ليون)
- ٢- تولى قيادة الحملة الإنجليزية على رشيد عام ١٨٠٧م القائد (مينو - كليبر - فريزر - نلسون)
- ٣- أصبحت مصر ولاية عثمانية بعد موقعة عام ١٥١٧م. (شبراخيت - مرج دابق - الريدانية - أبي قير)
- ٤- قام (محمد علي) بنفى نقيب الأشراف السيد (محمد كريم - عمر مكرم - عبد الله الشرقاوي - مراد بك)
- ٥- تولى حكم مصر عام ١٨٠٥م. (خورشيد باشا - محمد علي - خسرو باشا - إبراهيم باشا)



اختبار (٣)

مجاب عنه ص ٢٧٤



أولاً الجغرافيا

١ (١) أمامك خريطة صماء لمصر. اكتب مدلول الأرقام الموقعة عليها:

- ١- مدينة
- ٢- قناطر
- ٣- فرع
- ٤- بحيرة

(ب) إليك مجموعة من عوامل قيام الصناعة الطبيعية والبشرية. صنفها في الجدول التالي:
(الخبرة الفنية - الموقع الجغرافي - المواد الخام - رأس المال)

عوامل طبيعية	عوامل بشرية
.....
.....

(ج) أكمل العبارتين الآتيتين بكلمات مناسبة:

١- يقصد بالأمية عدم معرفة و.....
٢- تعتمد الزراعة في الواحات على مياه

٢ (١) اكتب المصطلح المناسب أمام العبارات الآتية:

- ١- تقليل الاستهلاك والاستخدام الأمثل للموارد^(*).
- ٢- يقصد بها عدد الأشخاص في سن العمل والذين لا يعملون.
- ٣- بناء هندسى على مجرى النهر لتجنب أخطار الفيضانات.
- ٤- مساحة من الأرض تضم مجموعة من المصانع مزودة بالخدمات والمرافق اللازمة^(*).

(ب) بم تفسر...؟

- ١- إنشاء الدولة لوزارة البيئة.
- ٢- يعد منخفض الفيوم بيئة زراعية رغم وقوعه في الصحراء الغربية.
- ٣- كثرة المشكلات الصحية التي تعاني منها البيئة الزراعية.

ثانياً التاريخ

٣ (١) اختر الإجابة الصحيحة مما بين الأقواس:

- ١- تولى المماليك حكم مصر عقب انهيار الدولة (العثمانية - الأيوبية - الفاطمية - الصفوية)
- ٢- قام الشاب السوري سليمان الحلبي بقتل القائد الفرنسى (نابليون - كليبر - مينو - نلسون)
- ٣- تم فتح مدينة القسطنطينية عام ١٤٥٣م فى عهد السلطان (سليم الأول - محمد الثانى - بايزيد الثانى - عثمان بن أرطغرل)
- ٤- أصبحت مصر ولاية عثمانية بعد موقعة عام ١٥١٧م. (مرج دابق - أبى قير - شبراخيت - الريدانية)
- ٥- انفرد (محمد على) بحكم مصر وبدأ يتفرغ لتنفيذ سياسته بعد تخلصه من (الزعامة الشعبية - المماليك - العثمانيين - الفرنسيين)
- ٦- أرسل (محمد على) حملة لبلاد الحجاز بقيادة ابنه (إبراهيم - مراد بك - طوسون - عمر مكرم)

(ب) ماذا كان يحدث إذا...؟

- ١- لم يتم اكتشاف طريق رأس الرجاء الصالح عام ١٤٩٨م.
- ٢- اهتمت الدولة العثمانية بالعلوم العقلية والرياضية والطبيعية.

٤ (١) اكتب كلمة (صواب) أمام العبارة الصحيحة وكلمة (خطأ) أمام العبارة غير الصحيحة مع التصويب:

- ١- ظلت الأوضاع الاقتصادية بمصر أثناء الحكم العثمانى فى تدهور حتى مجيء الحملة الفرنسية. ()
- ٢- بعد مذبحة القلعة فر الباقون من المماليك إلى ليبيا. ()

(*) تم حذف المعلومة من الشرح فى الكتاب المدرسى.

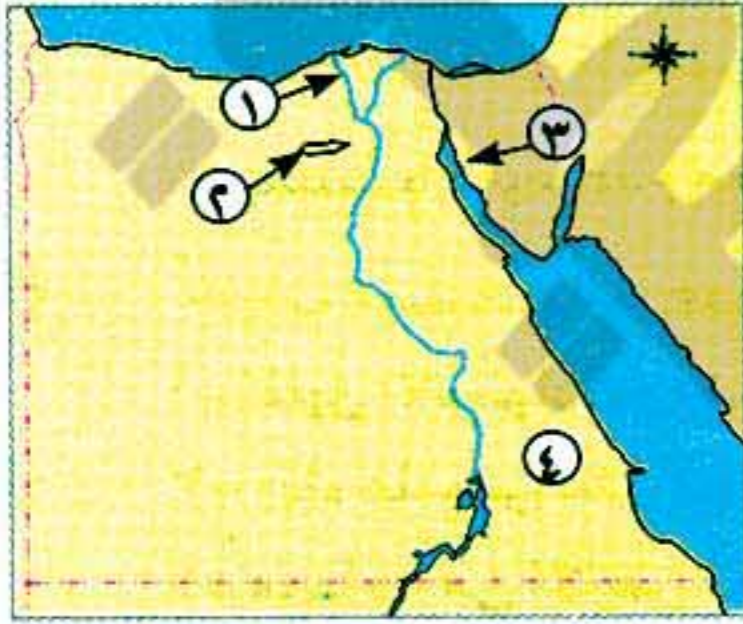
- ٣- تألفت هيئات الحكم العثماني بمصر أثناء الحكم العثماني من خمس قوى .
٤- يعد إلغاء ديوان القاهرة وإنشاء ديوان آخر من نتائج ثورة القاهرة الثانية .
(ب) بم تفسر...؟

- ١- تُعد النتائج العلمية والثقافية للحملة الفرنسية من أبرز وأعظم النتائج .
٢- ازدهار دولة المماليك في مصر والشام .
٣- فشل الحملة الإنجليزية على مصر عام ١٨٠٧م .



اختبار (٤)

مجاب عنه ص ٢٧٤



أولاً الجغرافيا

١ (١) أمامك خريطة صماء لمصر. اكتب مدلول الأرقام الموقعة عليها:

- ١- فرع
٢- منطقة زراعية فيضية
٣- خليج
٤- الصحراء

(ب) بم تفسر...؟

- ١- تركز صناعة الغزل والنسيج في الدلتا بمصر (*).
٢- تناقص مساحة الأرض الزراعية في السنوات الأخيرة بمصر.
٣- اهتمام الدولة بالتعليم الفني الصناعي.

٢ (١) اكتب كلمة (صواب) أمام العبارة الصحيحة وكلمة (خطأ) أمام العبارة غير الصحيحة مع التصويب:

- ١- أنشأت الدولة المناطق الصناعية لزيادة الصادرات المصرية .
٢- التكلفة الزائدة لمصادر الطاقة من مشكلات البيئة الصناعية .
٣- يقل سكان البيئة الزراعية في المحافظات القريبة من نهر النيل .
٤- من أهم الحبوب الغذائية في مصر القمح والقطن والأرز .
٥- حفر الخشب والسجاد من الصناعات الكيماوية .
٦- رأس المال من العوامل البشرية في قيام الصناعة .

(ب) قارن بين: سكان البيئة الزراعية وسكان البيئة الصناعية من حيث: العادات والتقاليد الإيجابية.

العادات الإيجابية لسكان البيئة الصناعية

العادات الإيجابية لسكان البيئة الزراعية

.....
.....
.....

.....
.....
.....

ثانياً التاريخ

٣ (١) اختر الإجابة الصحيحة مما بين الأقواس:

- ١- كان نظام الحكم العثماني في مصر قائماً على النظام (الحزبي - الاستبدادي - الديمقراطي - الطبقي)

(*) تم حذف المعلومة من الشرح في الكتاب المدرسي.

- ٢- نجح الفرنسيون في احتلال الإسكندرية بعد مقاومة حاكمها
- (محمد كريم - عمر مكرم - الشيخ السادات - عبدالله الشرقاوى)
- ٣- تصارع الإنجليز والعثمانيون والمماليك على السلطة بعد جلاء الحملة الفرنسية عن مصر وتناشوا قوة
- (الشعب المصري - محمد علي - السلطان العثماني - علي بك الكبير)
- ٤- كان يتم جلب بواسطة التجار ويشتريهم السلاطين. (السناجق - الحرفيين - المماليك - الملتزمين)
- (ب) صوب ما فوق الخط:

- ١- قام السلطان العثماني محمد الثاني بنقل أمهر الصناعات إلى الأستانة.
- ٢- كانت معركة مرج دابق هي الحد الفاصل لنهاية دولة المماليك.
- ٣- أدخل الخديو إسماعيل محاصيل زراعية جديدة في مصر.

٤ (١) اكتب المفهوم الذي تشير إليه العبارات الآتية:

- ١- استيلاء دولة على دولة أخرى قهراً. ٢- فرض دولة سيادتها على دولة أخرى واستغلالها.
- ٣- حركة شعبية تهدف إلى التغيير الجذري الشامل والمنظم للأوضاع في المجتمع.
- ٤- غلمان تم جلبهم بواسطة التجار وتولوا حكم مصر عقب انهيار الدولة الأيوبية.

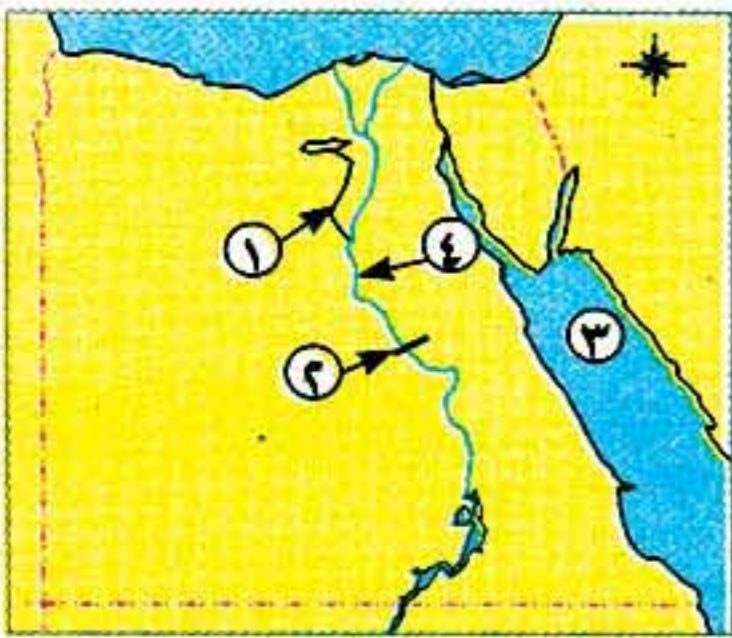
(ب) قارن بين: ثورة القاهرة الأولى وثورة القاهرة الثانية من خلال الجدول التالي:

ثورة القاهرة الثانية	ثورة القاهرة الأولى	
..... - -	القائد الفرنسي
..... - -	مركز الثورة
..... - -	النتائج



اختبار (٥)

مجاب عنه ص ٢٧٤



أولاً الجغرافيا

١ (١) أمامك خريطة صماء لمصر. اكتب مدلول الأرقام الموقعة عليها:

- ١- ترعة ٢- قناطر
- ٣- البحر ٤- نهر

(ب) اكتب المفهوم الجغرافي: (البطالة - البيئة الصناعية - النشاط الزراعي).

٢ (١) اختر الإجابة الصحيحة مما بين الأقواس:

- ١- تمدنا البيئة بالمعادن.
- ٢- من الخصائص الاقتصادية لسكان البيئة الزراعية
- (الزراعية - الصناعية - الصحراوية - الساحلية)
- ٣- من المواد الخام الحيوانية
- (الأمية - انخفاض مستوى دخل الفرد - التمسك بالأرض الزراعية - التعاون)
- ٤- من الصناعات الكيماوية صناعة
- (القطن - الجلود - الحديد - الرخام)
- (الحديد والصلب - السيارات - الأدوية - الثلجات)

(ب) ما النتائج المترتبة على...؟

- ١- تنوع الأنشطة الاقتصادية في البيئة الصناعية.
- ٢- هجرة سكان الريف إلى البيئة الصناعية.
- ٣- إزالة الطبقة السطحية الخصبة للتربة.

ثانياً التاريخ

٣ (١) اختر من العمود (ب) ما يناسب العمود (١):

(ب)	(١)
١- عمر مكرم.	١- تم تحطيم الأسطول الفرنسي في موقعة أبي قير البحرية على يد القائد الإنجليزي
٢- المماليك.	٢- دعم تولية (محمد على) حكم مصر عام ١٨٠٥م المشايخ وعلماء مصر بزعامة
٣- محمد كريم.	٣- تم فتح القسطنطينية عاصمة الدولة البيزنطية عام ١٤٥٣م على يد السلطان
٤- محمد الفاتح.	٤- دبر (محمد على) في مارس عام ١٨١١م مكيدة للقضاء على
٥- نلسون.	
٦- نابليون.	

(ب) بم تفسر...؟

- ١- إرسال فرنسا حملتها على مصر في ١٧٩٨م.
- ٢- قيام ثورة القاهرة الثانية مارس ١٨٠٠م.
- ٣- ازدهار دولة المماليك وتمتعها بالثراء الاقتصادي.

٤ (١) اكتب كلمة (صواب) أمام العبارة الصحيحة وكلمة (خطأ) أمام العبارة غير الصحيحة مع التصويب:

- ١- تولى الجنرال مينو قيادة الحملة بعد مقتل كليبر. ()
- ٢- تدهورت الحياة الفنية من عمارة وفنون وآثار في عصر سلاطين المماليك. ()
- ٣- أصبحت مصر ولاية عثمانية في عام ١٥١٧م. ()
- ٤- حكم (نابليون) على ستة من مشايخ الأزهر بالإعدام، كان منهم الشيخ السادات. ()

(ب) ما النتائج المترتبة على...؟

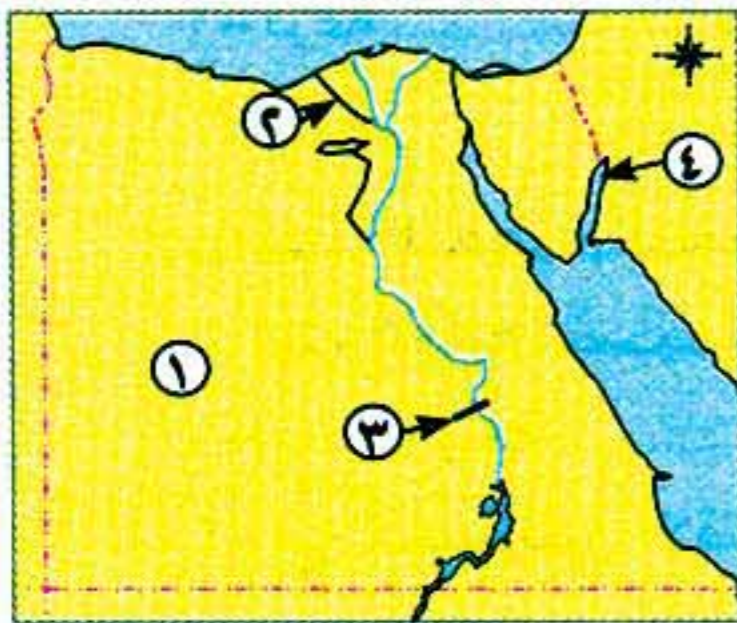
- ١- الحملة الفرنسية على مصر من الناحية السياسية.
- ٢- اهتمام (محمد على) بالتنظيم الإداري لمصر.
- ٣- سياسة (محمد على) الخارجية التوسعية.



اختبار (٦)

مجاب عليه ص ٢٧٤

أولاً الجغرافيا



١ (١) أمامك خريطة صماء لمصر. اكتب مدلول الأرقام الموقعة عليها:

- ١- الصحراء
- ٢- ترعة غرب الدلتا
- ٣- قناطر
- ٤- خليج

(ب) ماذا يحدث إذا لم...؟

- ١- يتم إلقاء مخلفات المصانع السائلة في المجارى المائية ونهر النيل.
- ٢- تنوع البيئات المصرية.

(ج) أعط تعريفاً صحيحاً للمفهومين التاليين: (سد - بيئة صناعية).

٢ (١) أكمل العبارات الآتية بكلمات مناسبة:

- ١- تعتمد الزراعة في على مياه الأمطار الشتوية.
- ٢- ترتفع نسبة في تربة وادي النيل والدلتا.
- ٣- انتشار المناطق العشوائية يسهم في ارتفاع
- ٤- من العوامل البشرية لقيام الصناعة

(ب) ما النتائج المترتبة على...؟

- ١- الزواج المبكر للإناث.
- ٢- انتشار المناطق السياحية في البيئة الزراعية.
- ٣- توسع الدولة في إنشاء المناطق الصناعية.

ثانياً التاريخ

٣ (١) أكمل العبارات الآتية بكلمات مناسبة:

- ١- أصبحت مصر ولاية منذ عام ١٥١٧ م.
- ٢- كان من مهام الوالي العثماني إرسال المفروضة على البلاد.
- ٣- دخل الفرنسيون مدينة القاهرة بعد معركة
- ٤- عقد مينو مع ممثل الجيش الإنجليزي اتفاقية لخروج الجيش من مصر.

(ب) اكتب ما تشير إليه العبارات الآتية:

- ١- حركة شعبية شاملة تهدف إلى التغيير الجذري الشامل والمنظم لأوضاع المجتمع.
- ٢- إقليم يحكمه أجنبي يتوطنه أو يكتفى باستغلاله عسكرياً أو اقتصادياً.
- ٣- تجهيز الجيش وتوجيهه لأهداف حربية.

٤ (١) ما النتائج المترتبة على...؟

- ١- الحملة الفرنسية على مصر من الناحية السياسية.
- ٢- إدخال (محمد علي) أنواعاً جديدة من القطن في مصر.
- ٣- ازدهار الزراعة والصناعة في عهد (محمد علي).

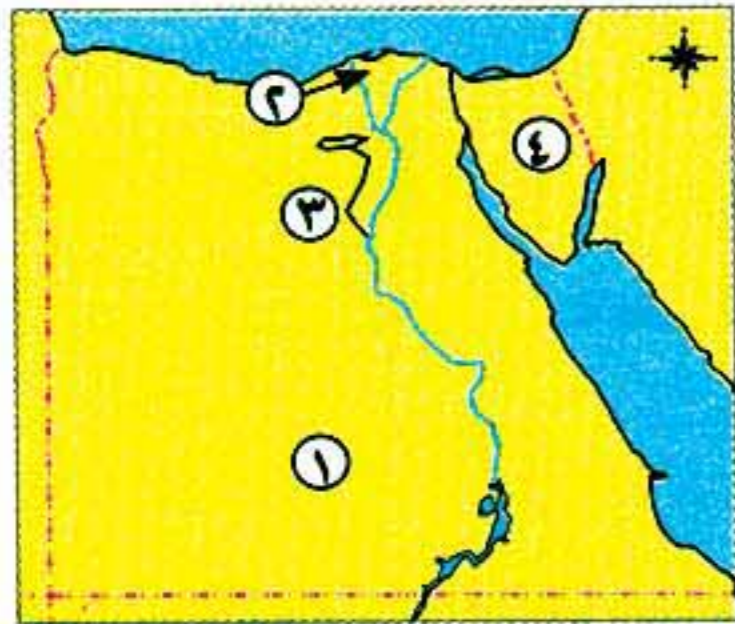
(ب) ما رأيك في...؟

- ١- دخول نابليون وجنوده الجامع الأزهر وهم يركبون خيولهم.
- ٢- الأسباب المعلنة للحملة الفرنسية على مصر.



اختبار (٧)

مجاب عليه ص ٢٧٥



أولاً الجغرافيا

١ (١) أمامك خريطة صماء لمصر. اكتب مدلول الأرقام الموقعة عليها:

- ١- الصحراء
- ٢- منطقة زراعية
- ٣- ترعة
- ٤- شبه جزيرة

(ب) «تعانى البيئة الصناعية في مصر العديد من المشكلات».. على ضوء العبارة أجب:

- ١- ما أهم مشكلات البيئة الصناعية؟
- ٢- ما جهود الدولة لحل هذه المشكلات؟
- ٣- ما رأيك في جهود الدولة لحل هذه المشكلات؟

٢ (١) اختر من العمود (١) ما يناسب العمود (ب):

(ب)	(١)
() صناعات حديثة.	١- انتقال الأفراد من مكان إلى آخر.
() تجريف التربة.	٢- صناعات تعتمد على الآلات الحديثة ويقل فيها الاعتماد على الأيدي العاملة.
() بيئة زراعية فيضية.	٣- سهل يتكون من ترسيب التربة الطينية التي ينقلها نهر النيل من منابعه.
() هجرة.	٤- إزالة الطبقة السطحية من تربة الأراضي الزراعية.
() سهل فيضى.	
() صناعات بسيطة.	

(ب) بم تفسر...؟

- ١- إقامة الدولة العديد من مشروعات الري على مجرى نهر النيل.
- ٢- قيام صناعة الفخار في البيئة الزراعية.
- ٣- أهمية رأس المال في البيئة الصناعية.

ثانياً التاريخ

٣ (١) صوب ما فوق الخط:

- ١- قام (محمد على) بنفى عمر مكرم إلى الإسكندرية.
- ٢- تنسب الدولة العثمانية إلى مؤسسها سليم الأول.
- ٣- عقد كليبر مع الإنجليز معاهدة العريش عام ١٨٠٠م.
- ٤- تولى المماليك حكم مصر وبلاد الشام عقب انهيار الدولة الفاطمية.

(ب) أكمل العبارتين التاليتين:

- ١- استثنى الشيخ من أحكام الإعدام التي صدرت ضد بعض مشايخ الأزهر.
- ٢- جاء الكفاح والجهاد ضد الحملة الإنجليزية عام ١٨٠٧م على يد أبناء مدينة
- (ج) ما رأيك فيما يأتي...؟ - أحوال مصر الداخلية أثناء حكم (محمد على).

٤ بم تفسر...؟

- ١- تخلص (محمد على) من المماليك في مذبحه القلعة عام ١٨١١م.
- ٢- قيام ثورة القاهرة الثانية.
- ٣- ازدهار دولة المماليك.
- ٤- تطلع المماليك إلى الاستئثار بحكم مصر بعد جلاء الحملة الفرنسية.
- ٥- اهتمام (محمد على) بالصناعة.



اختبار (٨)

مجاب عنه ص ٢٧٥

أولاً الجغرافيا

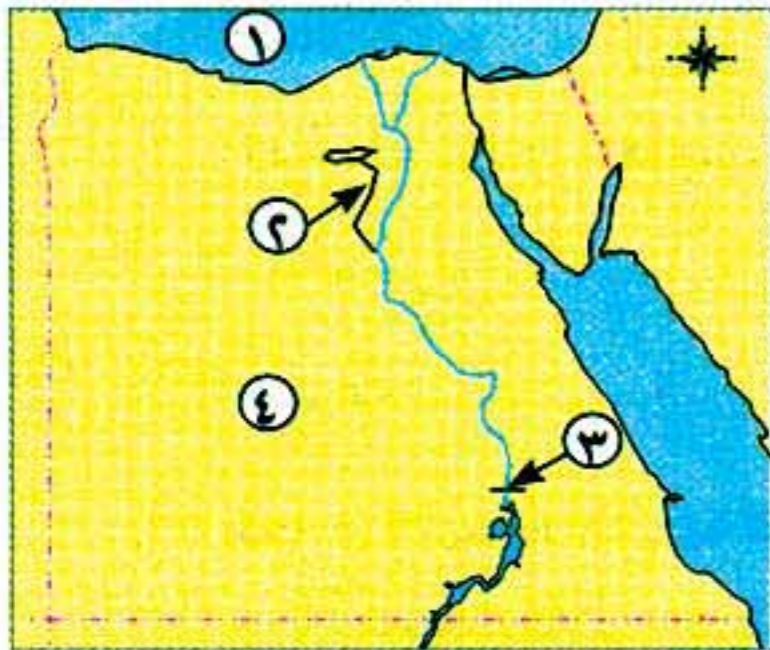
١ (١) أمامك خريطة صماء لمصر. اكتب مدلول الأرقام الموقعة عليها:

- ١- البحر.....
- ٢- ترعة.....
- ٣- السد.....
- ٤- الصحراء.....

(ب) أكمل العبارات الآتية بكلمات مناسبة:

- ١- تسهم الصناعة في زيادة..... المصرى.

٢٢٤



- ٢- طلب السكان المحليين للمنتجات الصناعية المصرية يقصد به السوق
- ٣- يزدهر النشاط السياحي في البيئة الزراعية ومنها منطقة آثار..... بالشرقية.
- ٤- تتميز البيئة الزراعية ب..... سطحها في الوادى و.....
- ٥- يجب بناء المصانع بعيدًا عن المناطق
- ٦- يعاني سكان البيئة الزراعية من بعض المشكلات مثل الأمية و.....

٢ (أ) صوب ما فوق الخط:

- ١- مصادر الطاقة من العوامل البشرية في قيام الصناعة.
 - ٢- يتجه عدد كبير من المهاجرين نحو الدول العربية الزراعية.
 - ٣- تتميز تربة الوادى والدلتا بأنها تربة رملية.
 - ٤- يعمل في مجال الصناعة في مصر أكثر من ٣,٥ مليون نسمة (*).
- (ب) بم تفسر...؟
- ١- اهتمام الدولة بالتوسع في إنشاء المزارع السمكية.
 - ٢- أهمية وسائل النقل في البيئة الصناعية.
 - ٣- تلوث الماء في المجارى المائية في نهر النيل.

ثانياً التاريخ

٣ (أ) اختر الإجابة الصحيحة مما بين الأقواس:

- ١- اهتم (محمد على) بإرسال البعثات إلى الخارج وخاصة إلى
 - ٢- تحطم الأسطول الفرنسى فى موقعة أبى قير البحرية على يد قائد الأسطول الإنجليزى
 - ٣- تخلص (محمد على) من
 - ٤- أصدر السلطان العثمانى فرماناً بضم حكم
- (ب) بم تفسر...؟
- ١- اهتمام (محمد على) بالجيش.
 - ٢- تكتمت الحكومة الفرنسية أخبار حملتها على مصر عام ١٧٩٨م.
- (ج) ماذا كان يحدث إذا...؟ لم تفقد فرنسا مستعمراتها فى حروبها مع إنجلترا.

٤ (أ) اكتب المفهوم الذى تشير إليه العبارات الآتية:

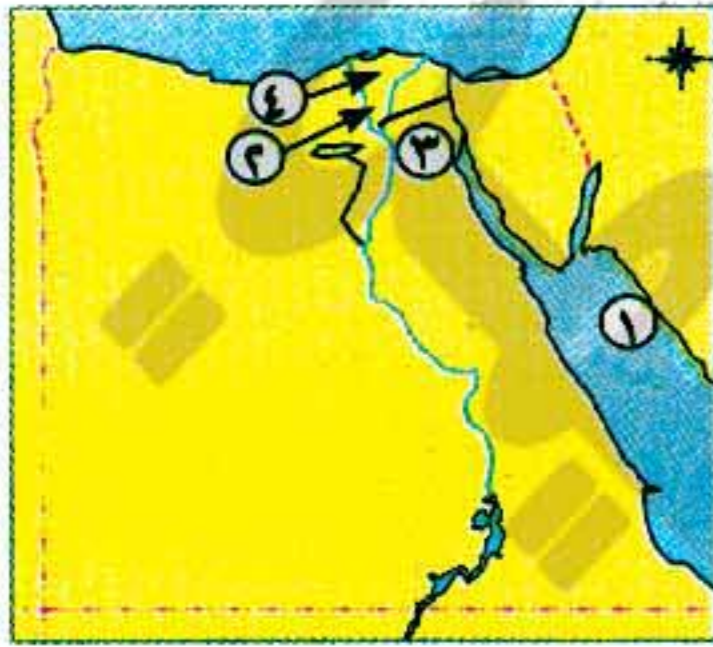
- ١- طريق بحرى يدور حول قارة إفريقيا من جهتى الغرب والجنوب.
- ٢- نائب السلطان العثمانى فى الولاية ومقره القلعة.
- ٣- استيلاء دولة على دولة أخرى قهراً.
- ٤- حركة شعبية شاملة تهدف إلى التغيير الجذرى الشامل والمنظم للأوضاع السياسية والاقتصادية والاجتماعية السائدة فى المجتمع.

(* تم حذف المعلومة من الشرح فى الكتاب المدرسى.

(ب) برهن على صحة العبارتين الآتيتين تاريخيًا،

- ١- كانت مصر مسرحًا للقوى المتصارعة على الحكم بعد جلاء الحملة الفرنسية.
- ٢- اهتم (محمد علي) بالزراعة والصناعة.

(ج) قارن بين موقف الفرنسيين من ثورتى القاهرة الأولى والثانية.



اختبار (٩)

مجاب عنه ص ٢٧٥

أولاً الجغرافيا

(١) أمامك خريطة صماء لمصر. اكتب مدلول الأرقام الموقعة عليها:

- ١- البحر.....
- ٢- قناطر.....
- ٣- ترعة.....
- ٤- منطقة زراعية.....

(ب) اكتب كلمة (صواب) أمام العبارة الصحيحة وكلمة (خطأ) أمام العبارة غير الصحيحة مع التصويب:

- ١- يقل سكان البيئة الزراعية في المحافظات القريبة من نهر النيل. ()
- ٢- الحديد والمنجنيز من المواد الخام المعدنية. ()
- ٣- حفر الخشب والسجاد اليدوى من الصناعات الكيماوية. ()
- ٤- تتركز صناعة السكر في محافظات أسيوط وسوهاج وقنا. ()

(ج) ماذا يحدث إذا...؟ - توسعت الدولة في إنشاء المزارع السمكية.

(١) أكمل العبارات الآتية بكلمات مناسبة:

- ١- تعتمد الزراعة في على المياه الجوفية.
- ٢- ترتفع نسبة في تربة وادى النيل والدلتا.
- ٣- انتشار المناطق العشوائية يسهم في ارتفاع
- ٤- توفر لنا البيئة الساحلية

(ب) ما النتائج المترتبة على...؟

- ١- الزواج المبكر للإناث.
- ٢- انتشار المناطق السياحية في البيئة الزراعية.
- ٣- توسع الدولة في إنشاء المناطق الصناعية.

ثانياً التاريخ

(١) اختر الإجابة الصحيحة مما بين الأقواس:

- ١- تولى القيادة العامة لحملة الحجاز عام ١٨١١م (محمد علي - إبراهيم باشا - طوسون باشا - خورشيد باشا)
- ٢- بعد ثورة القاهرة الأولى ألغى نابليون الديوان (العام - القاهرة - الملكى - العمومى)
- ٣- اكتشاف حجر رشيد من أبرز النتائج للحملة الفرنسية. (العلمية - الحرية - السياسية - الاجتماعية)
- ٤- فتح العثمانيون مدينة القسطنطينية عاصمة الدولة عام ١٤٥٣م. (التركية - الرومانية - البريطانية - البيزنطية)
- ٥- نجح الأسطول الإنجليزي في هزيمة الأسطول الفرنسى في معركة ١٧٩٨م. (أبى قير البرية - الرحمانية - أبى قير البحرية - إمبابة)
- ٦- نشأت الدولة فى أواخر القرن الثالث عشر الميلادى. (المملوكية - العثمانية - البيزنطية - الآسيوية)

(ب) رتب الأحداث التاريخية الآتية من الأقدم إلى الأحدث:

ثورة القاهرة الأولى - نهاية حكم (محمد على) - الحملة الفرنسية على مصر - موقعة أبي قير البحرية.

٤ (١) أكمل العبارات الآتية بكلمات مناسبة:

- ١- أعاد (محمد على) بلاد الشام والجزيرة العربية إلى سيطرة السلطان العثماني بعد معاهدة
- ٢- أبحرت الحملة الفرنسية من ميناء طولون ومنه إلى جزيرة عام ١٧٩٨م.
- ٣- أنشأ (محمد على) ترسانة لصناعة السفن ب.....
- ٤- قاوم أهالي الإسكندرية الحملة الفرنسية بقيادة

(ب) ماذا كان يحدث إذا ...؟

- ١- رحبت الحكومة البريطانية بعقد اتفاقية العريش عام ١٨٠٠م.
- ٢- اهتم العثمانيون بالتعليم والثقافة.
- ٣- نجحت حملة فريزر على مصر ١٨٠٧م.



اختبار (١٠)

مجاب عنه ص ٢٧٥

أولاً الجغرافيا

١ (١) أمامك خريطة صماء لمصر. اكتب مدلول الأرقام الموقعة عليها:

- ١- خليج
- ٢- مدينة
- ٣- ترعة
- ٤- قناطر

(ب) اكتب نصيحة إلى:

- ١- فلاح يستخدم الأسمدة الكيماوية بكثرة في تسميد التربة.
- ٢- صياد يستخدم المواد السامة في صيد أسماك النيل.

(ج) ما المقصود بالمصطلحات الآتية...؟ منطقة صناعية^(*) - البطالة - القناطر - تجريف التربة.

٢ (١) أكمل العبارات الآتية بكلمات مناسبة:

- ١- من العادات الإيجابية لسكان البيئة الزراعية و.....
- ٢- يعد الرخام من المواد الخام اللازمة للصناعة.
- ٣- يترتب على الهجرة الداخلية ارتفاع نسبة بالمدن.
- ٤- يتصل منخفض الفيوم بنهر النيل عن طريق

(ب) ما رأيك في الموقفين التاليين...؟

- ١- استخدام الفلاح للآلات الحديثة في الزراعة.
- ٢- بناء مصنع في اتجاه الرياح.

(ج) ما النتائج المترتبة على الهجرة من الريف إلى المدن؟

ثانياً التاريخ

٣ (١) أكمل العبارات الآتية بكلمات مناسبة:

- ١- أنشأ (محمد على) مطبعة الأميرية في
- ٢- حدثت مواجهة بين الفرنسيين والمماليك عند بالجيزة.

(*) تم حذف المعلومة من الشرح في الكتاب المدرسي.

٣- تحطم الأسطول الفرنسي في موقعة عام ١٧٩٨م.

٤- عزل (محمد على) الشيخ من منصبه.

(ب) بم تفسر...؟ - ضعف وانهيار دولة المماليك.

(ج) قارن بين: - ثورتى القاهرة الأولى والثانية من حيث: الأسباب، والنتائج، وقائد الحملة الفرنسية التى وقعت فى عهده.

٤ (أ) لمن ينسب العملاق التاليين...؟

١- نجح فى إقامة إمبراطورية امتدت إلى مديرية خط الاستواء.

٢- قاد الحملة الإنجليزية على مصر عام ١٨٠٧م.

(ب) اكتب كلمة (صواب) أمام العبارة الصحيحة وكلمة (خطأ) أمام العبارة غير الصحيحة مع التصويب:

١- كان نظام الحكم العثماني عادلاً فى مصر. ()

٢- أعطى سعيد باشا امتياز حفر قناة السويس للمهندس البريطاني دليسيبس. ()

٣- تزعم عمر مكرم المقاومة المصرية ضد الحملة الفرنسية فى الإسكندرية. ()

٤- فر المماليك الباقون من مذبحه القلعة إلى السودان. ()

(ج) كانت مصر ولا تزال تمثل الصخرة التى تتحطم عليها آمال الطغاة وأحلام الطامعين). على ضوء العبارة السابقة أجب عما يأتى:

١- سياسة (محمد على) الخارجية التوسعية. ٢- برهن على فشل الحملة الفرنسية من الوجهة الحربية.

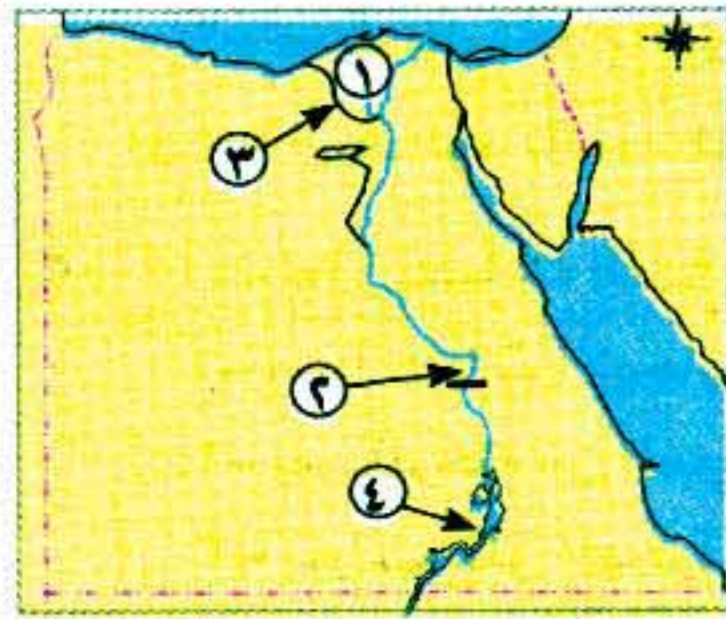
اختبارات الأضواء على الفصل الدراسي الأول



اختبار (١)

مجاب عنه ص ٢٧٦

أولاً الجغرافيا



١ (أ) أمامك خريطة صماء لمصر، اكتب ما تدل عليه الأرقام الموضحة عليها:

١- منطقة زراعية فيضية ٢- قناطر

٣- ترعة ٤- بحيرة

(ب) بم تفسر...؟

١- تنوع الأنشطة الاقتصادية فى البيئة الزراعية.

٢- أهمية رأس المال لقيام الصناعة. ٣- تعاني البيئة الصناعية العديد من المشكلات.

٢ (أ) اكتب كلمة (صواب) أمام العبارة الصحيحة، وكلمة (خطأ) أمام العبارة غير الصحيحة مع التصويب:

١- ارتفاع مستوى دخل الفرد من الخصائص الاقتصادية لسكان البيئة الزراعية. ()

٢- يعمل معظم سكان المحافظات الحضرية بالزراعة وتربية الحيوانات. ()

٣- يقل عدد السكان فى محافظات الدلتا نتيجة ضيق مساحة الأراضى الزراعية. ()

٤- من المعالم السياحية بمحافظة الفيوم بحيرة قارون. ()

٥- صناعة الألومنيوم من الصناعات المعدنية. ()

٦- تساهم الصناعة فى زيادة مستوى معيشة الأفراد. ()

٢- السدود.

١- الصناعة.

(ب) ما المقصود بكل مما يلى...؟

ثانياً التاريخ

٣ (١) اختر الإجابة الصحيحة مما بين الأقواس:

- ١- أصبحت مصر ولاية عثمانية بعد معركة (مرج دابق - الريدانية - إمبابة - شبراخيت)
٢- تخلص (محمد على) من الزعامة الشعبية بنفى نقيب الأشراف عمر مكرم إلى
(الإسكندرية - دمياط - رشيد - الصعيد)
٣- نجح الفرنسيون في احتلال مدينة الإسكندرية بعد مقاومة حاكمها
(محمد كريم - عمر مكرم - الشيخ السادات - عبدالله الشرقاوى)
٤- اهتم (محمد على) بتحقيق الاكتفاء الذاتى وطبق نظام (الالتزام - الاحتكار - الإصلاح - الدواوين)

(ب) ما النتائج المترتبة على ...؟

- ١- حملة فريزر على مصر ١٨٠٧م.
٢- اهتمام (محمد على) بمشروع الري.
٣- اكتشاف طريق رأس الرجاء الصالح ١٤٩٨م.

٤ (١) صوب ما تحته خط في العبارات التالية:

- ١- أنشأ (محمد على) ترسانة لصناعة السفن في السويس. ٢- تولى مينو قيادة الحملة بعد نابليون.
٣- نجح أبناء دمياط في التصدي للحملة الإنجليزية ١٨٠٧م. ٤- كان مركز ثورة القاهرة الثانية حى الأزهر.
(ب) اكتب ما تشير إليه العبارتان الآتيتان:
١- أحد أبناء (محمد على) قاد الحملة على الحجاز. ٢- نائب السلطان ومقر حكمه القلعة.
(ج) ماذا يحدث إذا ...؟

- ١- لم يتم اكتشاف طريق رأس الرجاء الصالح. ٢- لم يتحطم الأسطول الفرنسى فى معركة أبى قير البحرية.



اختبار (٢)

مجاب عنه ص ٢٧٦

أولاً الجغرافيا

١ (١) أمامك خريطة صماء لمصر، اكتب ما تدل عليه الأرقام الموضحة عليها:

- ١- منخفض
٢- قناطر
٣- السد
٤- فرع

(ب) بم تفسر...؟

- ١- اهتمام الدولة بإنشاء المناطق الصناعية.
٢- أهمية وسائل النقل والمواصلات فى البيئة الصناعية.
٣- انتشار المناطق العشوائية فى البيئة الصناعية.

٢ (١) تخير الإجابة الصحيحة مما بين الأقواس فيما يلى:

- ١- من أهم الصناعات الكيميائية فى مصر صناعة (السيارات - الأدوية - المنسوجات - الألومنيوم)
٢- يقصد بعدم معرفة الأفراد القراءة والكتابة (الأمية - البطالة - المستوى التعليمى - الثقافة)
٣- من مصادر الطاقة النظيفة (الفحم - البترول - الغاز الطبيعى - الرياح)
٤- من المعالم السياحية فى محافظة الشرقية (السواقى - عين السيليين - بحيرة ناصر - آثار حضارة تل بسطة)

(ب) ما النتائج المترتبة على...؟

- ١- تنوع البيئات المصرية.
- ٢- هجرة سكان البيئة الزراعية إلى المدن.
- ٣- الاستخدام السيئ للموارد الطبيعية.

ثانياً التاريخ

٣ (١) صوب ما تحته خط:

- ١- استطاع المماليك فتح القسطنطينية عاصمة الدولة البيزنطية عام ١٤٥٣م.
- ٢- اندلعت ثورة القاهرة الثانية من حي الأزهر.
- ٣- فشلت حملة فريزر التي أرسلتها فرنسا إلى مصر عام ١٨٠٧م.
- ٤- العثمانيون هم قبائل رعوية كانت تسكن في الجزيرة العربية.

(ب) اكتب ما تشير إليه العبارات التالية:

- ١- إشراف الدولة على مصادر الاقتصاد المصري.
- ٢- استيلاء دولة على بلد آخر قهراً.
- ٣- تغيير أساسى فى الأوضاع السياسية والاجتماعية يقوم به الشعب.

٤ (١) تخير الإجابة الصحيحة مما بين الأقواس فيما يلى:

- ١- تم فتح القسطنطينية عاصمة الدولة البيزنطية فى عهد السلطان
- (محمد الثانى - عثمان بن أرطغرل - سليم الأول - طومان باى)
- ٢- تم عقد اتفاقية العريش عام ١٨٠٠م بين العثمانيين والقائد الفرنسى
- (نابليون - شامبليون - كليبر - مينو)
- ٣- قائد الأسطول الإنجليزى فى معركة أبي قير البحرية
- (ويلسون - نلسون - فريزر - كرومر)
- ٤- فشل الفرنسيون أثناء حملتهم على الشام فى فتح
- (دمشق - عكا - بيروت - حمص)

(ب) بم تفسر...؟

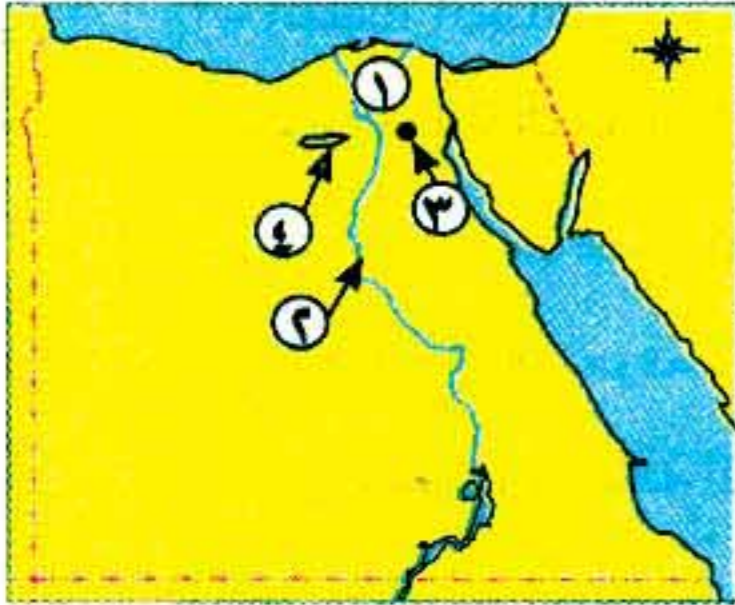
- ١- تدهور الأوضاع الاقتصادية لدولة المماليك.
- ٢- قيام ثورة القاهرة الأولى أكتوبر ١٧٩٨م.
- ٣- حملة نابليون بونابرت على الشام.



اختار (٣)

أولاً الجغرافيا

١ (١) أمامك خريطة صماء لمصر، اكتب ما تدل عليه الأرقام الموضحة عليها:



- ١- بيئة زراعية فيضية
- ٢- من مشروعات الري
- ٣- مدينة يتركز فيها صناعة الصلب
- ٤- منخفض

٢٣٠

(ب) ما النتائج المترتبة على ...؟

- ١- استخدام الأسمدة والمبيدات الحشرية بكثرة في تسميد التربة.
- ٢- تنوع البيئات المصرية.
- ٣- الهجرة من الريف للمدن.

(١) تخير الإجابة الصحيحة مما بين الأقواس:

- ١- توفر البيئة الزراعية للبيئة الصناعية
- ٢- تعتبر صناعة العطور من الصناعات
- ٣- من خصائص سكان البيئة الصناعية
- (البطالة - الأمية - انخفاض مستوى المعيشة - مشاركة المرأة في العمل)
- ٤- تمتد ترعة في شرق الدلتا.
- ٥- من الصناعات الحرفية
- (الإسماعيلية - النوبارية - المحمودية - الإبراهيمية)
- (الفخار - حلج القطن - حفظ الفاكهة - السيارات)

(ب) ما المقصود بالمفاهيم التالية ...؟

- السدود - الترع - العشوائيات.

(ج) ميز بين الصحيح وغير الصحيح من العبارتين التاليتين موضحاً السبب:

- ١- بناء المصانع في المناطق السكنية.
- ٢- إهمال التعليم الفني في البيئة الصناعية.

ثالثاً التاريخ

(١) صوب ما تحته خط في العبارات التالية:

- ١- تنسب الدولة العثمانية لمؤسسها الأمير سليم الأول.
- ٢- كانت مدة حكم السنجق في مصر تتراوح بين عام وثلاثة أعوام.
- ٣- فك رموز حجر رشيد من النتائج الاقتصادية للحملة الفرنسية.
- ٤- تخلص (محمد علي) من الزعامة الشعبية في مذبحه القلعة.

(ب) ماذا يحدث إذا ...؟

- ١- لم يقم (محمد علي) بتوسعاته الخارجية.
- ٢- وافقت إنجلترا على اتفاقية العريش ١٨٠٠ م.
- ٢- تم إعدام الشيخ السادات بعد ثورة القاهرة الأولى.

(١) اكتب ما تشير إليه العبارات التالية من شخصيات ومفاهيم:

- ١- نائب السلطان ومقره القلعة.
- ٢- أرسل أمهر الصناع والحرفيين إلى الآستانة.
- ٣- أحد أبناء (محمد علي) قاد الحملة على الحجاز.

(ب) بم تفسر ...؟

- ١- تقسيم مصر إلى مديريات في عصر (محمد علي).
- ٢- قيام ثورة القاهرة الأولى أكتوبر ١٧٩٨ م.

(ج) رتب الأحداث التاريخية التالية من الأقدم للأحدث ...؟

- معركة الريدانية - حملة فريزر - ثورة القاهرة الأولى - اتفاقية العريش - تولى (محمد علي) الحكم.

امتحانات بعض المدارس والإدارات للفصل الدراسي الأول لعام ٢٠١٨

(مجاب عن بعضها ص ٢٧٧)

• تم تعديل هذه الامتحانات وفقا لتعديلات الوزارة للعام الدراسي ٢٠١٨ / ٢٠١٩

١- محافظة القاهرة - ادارة شبرا التعليمية

(مجاب عنه ص ٢٧٧)

اولاً الجغرافيا



السؤال الأول: (١) أمامك خريطة لمصر وضع عليها الآتي:

- ١- منطقة تنتشر بها الزراعة المطرية
- ٢- الصحراء
- ٣- ترعة
- ٤- القناطر

(ب) اكتب كلمة (صواب) أمام العبارة الصحيحة وكلمة (خطأ) أمام العبارة غير الصحيحة:

- ١- تتنوع الصناعات بتنوع المواد الخام. ()
- ٢- نحصل على الأغذية المحفوظة من البيئة الزراعية. ()
- ٣- تظهر الأرض الزراعية بمنطقة الفيوم على شكل مدرجات. ()

(ج) بم تفسر...؟

- ١- تنوع البيئات المصرية.
- ٢- البيئة الزراعية منطقة جذب سياحي.
- ٣- رأس المال أساسى فى قيام الصناعة.

السؤال الثاني: (١) اكتب المصطلح المناسب لكل مما يلى:

- ١- قناة مائية يتم حفرها لتوصيل المياه من نهر النيل إلى الأرض الزراعية.
- ٢- يقصد بها الأفراد الذين فى سن العمل ولا يعملون.
- ٣- سوء استخدام الموارد الطبيعية بشكل يؤدي إلى نفادها.
- ٤- أرض مستوية تتكون على جانب النهر بسبب الرواسب الطينية التي ينقلها النيل من منابعه.

(ب) قارن بين مشكلات البيئة الزراعية ومشكلات البيئة الصناعية:

مشكلات البيئة الصناعية	مشكلات البيئة الزراعية
١-	١-
٢-	٢-

ثانياً التاريخ

السؤال الثالث: (١) لمن تنسب الأعمال الآتية...؟

- ١- كان من مهامها الدفاع عن البلاد فى ظل الحكم العثماني لمصر.
- ٢- أرسل رسالة إلى بونابرت تفيد بتحطم الأسطول الفرنسي عند أبي قير.
- ٣- تولى القيادة العامة للحجاز عام ١٨١١م.
- ٤- نجح فى إقامة إمبراطورية امتدت إلى مديريةية خط الاستواء.

(ب) كشف الاحتلال الفرنسي عن أطماعه الحقيقية مما أدى إلى إيقاظ الروح الوطنية في مصر. في ضوء هذه العبارة أجب:

- ١- ما المقصود بالاحتلال؟
- ٢- اذكر الأسباب الحقيقية للحملة الفرنسية على مصر.
- ٣- ما رأيك في دخول الفرنسيين الجامع الأزهر وهم يركبون الخيل؟

السؤال الرابع: (١) أعد كتابة العبارات الآتية بعد تصويب ما تحته خط:

- ١- أبحرت الحملة الفرنسية من ميناء مرسيليا بفرنسا. ٢- استولت حملة فريزر على مدينة رشيد سنة ١٨٠٧م.
- ٣- قام محمد على بنفى عبد الله الشرقاوي إلى دمياط. ٤- تولى المماليك حكم مصر عقب انهيار الدولة الصفوية.

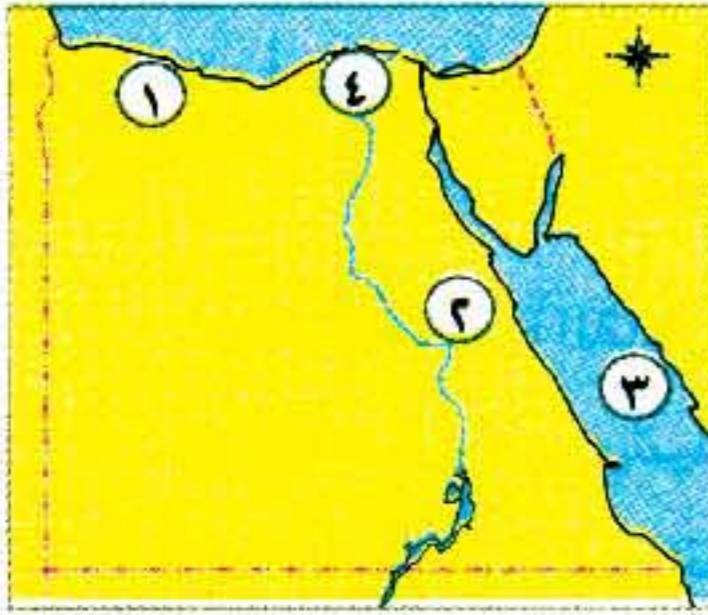
(ب) ما النتائج المترتبة على...؟

- ١- معركة مرج دابق ١٥١٦م.
- ٢- ثورة القاهرة الأولى.
- ٣- سياسة محمد على الخارجية التوسعية.

٢- محافظة الجيزة - إدارة جنوب الجيزة التعليمية

(مجاب عنه ص ٢٧٧)

أولاً الجغرافيا



السؤال الأول: (١) أمامك خريطة صماء لمصر، اكتب مدلول الأرقام الموقعة عليها:

- ١- نوع الزراعة
- ٢- الصحراء
- ٣- البحر
- ٤- منطقة تركيز سكاني

(ب) اكتب ما تشير إليه العبارات الآتية:

- ١- سهل يتكون على جانبي النهر نتيجة الرواسب الطينية.
- ٢- بناء هندسى يشيد على الأنهار لتجنب أخطار الفيضانات.
- ٣- المناطق التي بنيت بدون تخطيط من الدولة عن طريق وضع اليد.
- ٤- إزالة الطبقة السطحية من التربة مما يؤدي إلى تدهورها.

السؤال الثاني: (١) اختر الإجابة الصحيحة من بين الأقواس:

- ١- يتصل منخفض الفيوم بالنيل عن طريق ترعة (الإبراهيمية - الإسماعيلية - النوبارية - بحريوسف)
- ٢- توجد عادات سلبية في البيئة الزراعية منها (التعاون - احترام الكبير - زيادة الإنجاب - التزاور فيما بينهم)
- ٣- أنشأت الدولة قرى بديلة لسكان النوبة مثل (الإسكندرية - أبو سمبل - مطروح - القاهرة)
- ٤- أهم محاصيل الحبوب الغذائية في مصر محصول (القمح - القطن - قصب السكر - الكتان)
- ٥- توفر البيئة الصناعية للبيئة الزراعية (الأيدي العاملة - المواد الخام - الأسمدة - الغذاء)
- ٦- تعد صناعة العطور من الصناعات (الكيميائية - الكهربائية - المعدنية - الغذائية)

(ب) بم تفسر...؟

- ١ - تندر النباتات الطبيعية في البيئة الزراعية . ٢- تعاني البيئة الصناعية من مشكلات التلوث البيئي .

ثانياً التاريخ

السؤال الثالث: (١) اكتب كلمة (صواب) أمام العبارة الصحيحة وكلمة (خطأ) أمام العبارة غير الصحيحة:

- ١- استطاع سليم الأول هزيمة المماليك في مصر والشام. ()
٢- ازدهرت النواحي العلمية والثقافية في ظل الحكم العثماني. ()
٣- جاءت الحملة الفرنسية على مصر بحجة تأديب العثمانيين. ()
٤- دبر محمد علي في مارس ١٨١١م مكيده للقضاء على المماليك. ()

(ب) لمن تنسب الأعمال الآتية...؟

- ١- قام بتحطيم الأسطول الفرنسي في موقعة أبي قير البحرية
٢- أمر جنوده بدخول الأزهر الشريف بخيولهم وفرض الضرائب.
٣- أعطى امتياز حفر قناة السويس لدليسبس.

السؤال الرابع: (١) أعد كتابة العبارات الآتية بعد تصويب ما تحته خط:

- ١- اندلعت ثورة القاهرة الثانية في مارس ١٨٠٠م بزعامه محمد كريم.
٢- اكتشاف حجر رشيد من أبرز النتائج الحربية للحملة الفرنسية.
٣- اجتمع نقيب الطوائف بدار المحكمة في عام ١٨٠٥م وقرروا عزل خسرو باشا.
٤- تولى القيادة العامة لحملة الحجاز إبراهيم باشا.
٥- أنشأ محمد علي ترسانة لبناء السفن في مدينة السويس.

(ب) ما النتائج المترتبة على...؟

- هزيمة القوات المملوكية في موقعة الريدانية عام ١٥١٧م.

٢- محافظة الإسكندرية - ادارة العجمى التعليمية

(مجاب عنه ص ٢٧٧)

أولاً الجغرافيا

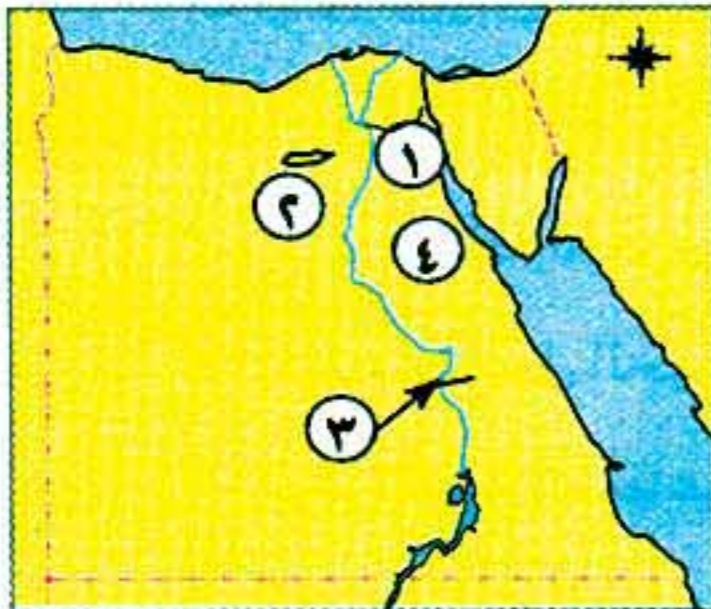
السؤال الأول: (١) أمامك خريطة صماء لمصر، اكتب مدلول الأرقام الموقعة عليها:

- ١- ترعة
٢- منخفض
٣- قناطر
٤- خليج

(ب) بم تفسر...؟

- ١- لا توجد الزراعة في الأطراف الشمالية للدلتا.
٢- اهتمام الدولة بالتعليم الفني والصناعي.

٢٣٤



السؤال الثاني: (١) اختر الإجابة الصحيحة من بين الأقواس:

- ١- من المعالم السياحية في محافظة الشرقية (بحيرة قارون - آثار تل بسطة - عين السيليين - السواقي)
- ٢- من خصائص سكان البيئة الصناعية ارتفاع نسبة (الهجرة - الأمية - البطالة - التعليم)
- ٣- تمدنا البيئة بالمعادن المختلفة . (الزراعية - الصحراوية - الصناعية - الساحلية)
- ٤- من الصناعات الحرفية في مصر صناعة (حفر الخشب - حلج القطن - تصنيع الجلود - السيارات)

(ب) ماذا يحدث إذا...؟

- ١- قامت الدولة بوضع قوانين تجرّم تجريف التربة .
- ٢- توسعت الدولة في استخدام الطاقة الشمسية وطاقة الرياح في إدارة المصانع .

ثانياً التاريخ

السؤال الثالث: (١) اكتب كلمة (صواب) أمام العبارة الصحيحة وكلمة (خطأ) أمام العبارة غير الصحيحة:

- ١- نجحت الحملة الفرنسية في جعل مصر قاعدة للإمبراطورية الفرنسية في الشرق . ()
- ٢- تدهورت الحياة العلمية والثقافية في مصر أثناء الحكم العثماني . ()
- ٣- أعطى إسماعيل باشا امتياز حفر قناة السويس للمهندس الفرنسي فرديناند دليسبس . ()

(ب) ما النتائج المترتبة على...؟

- ١- هزيمة المماليك في معركة الريدانية عام ١٥١٧م .
- ٢- تحطيم الأسطول الفرنسي في موقعة أبي قير البحرية ١٧٩٨م .

السؤال الرابع: (١) صوّب ما تحته خط:

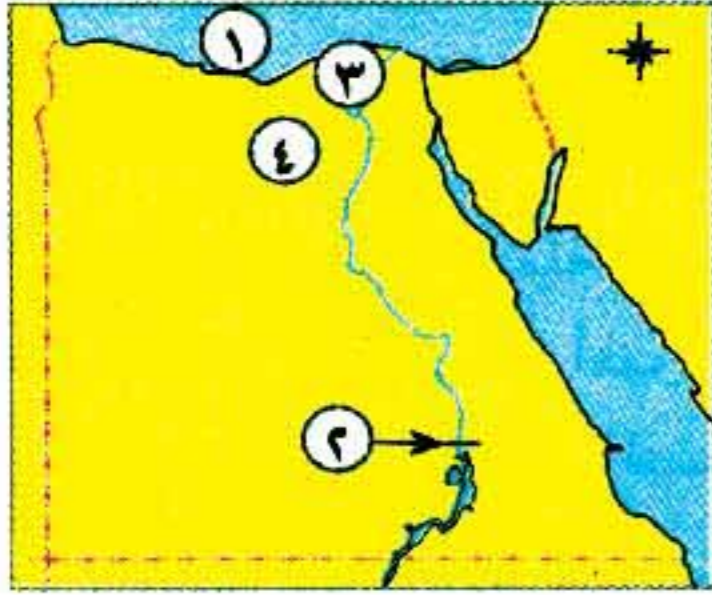
- ١- قام السلطان سليم الأول بفتح القسطنطينية في عام ١٤٥٣م .
- ٢- أنشأ محمد علي ترسانة لصناعة السفن في الإسماعيلية .
- ٣- اعتمد العثمانيون على الإنجليز في حكم الأقاليم .
- ٤- تزعم محمد كريم ثورة القاهرة الثانية ضد الفرنسيين .

(ب) «كشف الاحتلال الفرنسي عن أطماعه الحقيقية مما أدى إلى قيام الشعب بثورات ضده» في ضوء هذه العبارة أجب:

- ١- ما المقصود بكلمة احتلال؟
- ٢- ما أسباب قيام ثورة القاهرة الأولى؟
- ٣- ما رأيك في دور أهالي رشيد والحماد في مقاومة القوات الإنجليزية بقيادة فريزر عام ١٨٠٧م؟

٤- محافظة الاسكندرية - ادارة وسط التعليمية

أولاً الجغرافيا



السؤال الأول: (١) أمامك خريطة صماء لمصر، اكتب مدلول الأرقام الموقعة عليها:

- ١- البحر
- ٢- السد
- ٣- منطقة تركيز السكان
- ٤- منطقة صناعية

(ب) أكمل العبارات الآتية بما يناسبها من كلمات:

- ١- نظام الري الدائم والإسراف في المياه يؤديان إلى تدهور.....
- ٢- التهرب..... من المشكلات التي تواجه الصناعة في مصر.

(ج) ما المقصود بالمفهومين الآتيين...؟

- ١- السهل الفيضي.
- ٢- الاستنزاف.

السؤال الثاني: (١) اختر الإجابة الصحيحة من بين الأقواس:

- ١- تظهر الأراضي الزراعية على شكل مدرجات واسعة في..... (الوادي - الفيوم - الدلتا - الواحات)
- ٢- قامت الدولة بزيادة أعداد المدارس في الريف لحل مشكلة..... (الصحة - الأمية - نقص الغذاء - المياه)
- ٣- لزيادة الإنتاج السمكي تم إنشاء..... (القرى - المصانع - المزارع السمكية - وزارة البيئة)
- ٤- توفير فرص عمل للشباب يساعد على تقليل..... (البطالة - العشوائيات - التدخين - التلوث)
- ٥- تصنيع الجلود من الصناعات..... (الييدوية - الحديثة - البسيطة - الغذائية)

(ب) بهم تفسر...؟

- ١- لا توجد الزراعة في الأطراف الشمالية للدلتا.
- ٢- إنشاء الدولة المناطق الصناعية.

(ج) ماذا يحدث إذا...؟

- لم تتم مراعاة اتجاه الرياح عند إقامة المصانع.

ثانياً التاريخ

السؤال الثالث: (١) اكتب كلمة (صواب) أمام العبارة الصحيحة وكلمة (خطأ) أمام العبارة غير الصحيحة:

- ١- اكتشف البريطانيون طريق رأس الرجاء الصالح. ()
- ٢- الديوان أحد هيئات الحكم العثماني مهامه الدفاع عن الوطن. ()
- ٣- تهديد إنجلترا في الشرق أحد الأسباب الحقيقية للحملة الفرنسية. ()
- ٤- إيقاظ الوعي القومي لدى المصريين من النتائج الحربية للحملة الفرنسية. ()
- ٥- نفي محمد علي نقيب الأشراف عمر مكرم إلى دمياط. ()

(ب) ما النتائج المترتبة على...؟

- ١- ثورة القاهرة الثانية.
- ٢- اهتمام محمد علي بالصناعة.

السؤال الرابع: (١) صوب ما تحته خط في العبارات الآتية:

- ١- أسس محمد الثاني الدولة العثمانية. ٢- كانت معركة مرج دابق الحد الفاصل لنهاية دولة المماليك.
- ٣- أصدر محمد علي صحيفة اللواء المصرية.

(ب) اكتب اسم الشخصية التي تتحدث عن نفسها:

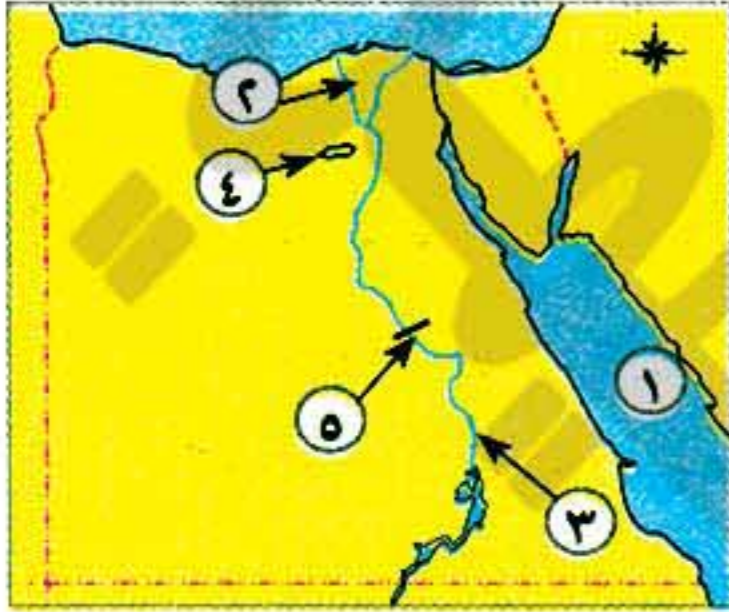
- ١- قاومت الحملة الفرنسية على مصر ١٧٩٨م في الإسكندرية.
- ٢- قمتُ بترحيل أمهر الصناعات والحرفيين من مصر إلى الآستانة.
- ٣- أنشأتُ ترسانة لصناعة السفن في الإسكندرية.

(ج) ما رأيك في...؟ - دخول الفرنسيين الأزهر بخيولهم.

٥- محافظة القليوبية - إدارة بنها التعليمية

اولاً الجغرافيا

السؤال الأول: (١) أمامك خريطة صماء لمصر، اكتب مدلول الأرقام الموقعة عليها:



- ١- بحر
- ٢- فرع
- ٣- محافظة
- ٤- منطقة زراعية
- ٥- قناطر

(ب) أكمل العبارات الآتية بما يناسبها من كلمات:

- ١- يظهر السطح في منخفض الفيوم على شكل واسعة .
- ٢- بنيت مناطق دون تخطيط حول أطراف المدن تسمى
- ٣- يعد قصب السكر والبنجر من أهم المحاصيل المنتجة ل..... في مصر .
- ٤- تعتبر بحيرة قارون من المعالم السياحية في محافظة
- ٥- يجب عند إقامة المصانع مراعاة اتجاهات
- ٦- يقصد بالسوق طلب السكان المحليين للمنتجات الصناعية .

(ج) ما المقصود بالمفهومين الآتيين...؟

- ١- تجريف التربة .
- ٢- الاستنزاف .

السؤال الثاني: (١) اختر الإجابة الصحيحة من بين الأقواس:

- ١- تعتمد الزراعة في الواحات على مياه (النيل - الأمطار - الآبار والعيون - البحيرات المالحة)
- ٢- يعد من العادات السلبية لسكان البيئة الزراعية .
- (التعاون - احترام الكبير - التزاور فيما بينهم - زيادة الإنجاب)
- ٣- أنشأت الدولة قرى بديلة لسكان النوبة مثل (إبريم - أبو سمبل - وادي الغرب - كل ما سبق)
- ٤- تعد من مصادر الطاقة النظيفة . (البتترول - الغاز الطبيعي - الطاقة الشمسية - الفحم)
- ٥- أنشأت الدولة وزارة لإصدار القوانين وحماية البيئة من الأخطار . (الصناعة - الزراعة - البيئة - الصحة)

(ب) صف الصناعات التالية حسب درجة تطورها في الجدول الآتي:

(تصنيع الجلود - صناعة حلج الأقطان - صناعة الآلات والسيارات - صناعة الفخار)

صناعات حديثة	صناعات بسيطة	صناعات حرفية
.....
.....

(ب) بم تفسر...؟

- ١- ندرة النباتات الطبيعية والحيوانات البرية في البيئة الزراعية.
- ٢- تناقص الأراضي الزراعية بمصر.
- ٣- أهمية البيئة الصناعية.

للتاريخ

السؤال الثالث: (١) اكتب كلمة (صواب) أمام العبارة الصحيحة وكلمة (خطأ) أمام العبارة غير الصحيحة:

- ١- كانت مصر قبل الحكم العثماني تحت حكم الصفويين. ()
- ٢- يشرف الوالي على تنفيذ القرارات الصادرة من السلطان العثماني. ()
- ٣- اقتصر التعليم في مصر على الأزهر أيام الحكم العثماني. ()
- ٤- استيلاء دولة على دولة أخرى قهراً يسمى احتلالاً. ()
- ٥- اجتمع زعماء الشعب ونقباء الطوائف بدار الحكمة في مايو ١٨٠٥م وقرروا عزل خسرو باشا. ()
- ٦- قام محمد علي بنفي نقيب الأشراف السيد الشرقاوى إلى دمياط. ()

(ب) رتب الأحداث التاريخية التالية من القديم إلى الحديث:

(مذبحة القلعة - ثورة القاهرة الأولى - فتح القسطنطينية - معاهدة لندن - اكتشاف طريق رأس الرجاء الصالح).

(ج) ما النتائج المترتبة على...؟

- ١- الحكم العثماني على مصر.
- ٢- ثورة القاهرة الثانية ١٨٠٠م.

السؤال الرابع: (١) إلى من تنسب الأعمال التالية...؟

- ١- سلطان المماليك في مصر الذي هزم على يد سليم الأول في موقعة الريدانية.
- ٢- قاد الحملة الفرنسية على مصر.
- ٣- قاوم الحملة الفرنسية في الإسكندرية وكان حاكمها في ذلك الوقت.
- ٤- أنشأ عدة مجالس ودواوين لتعاونه في مختلف شئون الحكم ومنها الديوان العالي.
- ٥- أعطى امتياز حفر قناة السويس للمهندس ديليسبس الفرنسي.

(ب) قارن بين معركتي أبي قير البحرية وأبي قير البرية من حيث الأطراف المشاركة والنتائج:

أبو قير البرية	أبو قير البحرية	وجه المقارنة
.....	الأطراف المشاركة
.....	النتائج

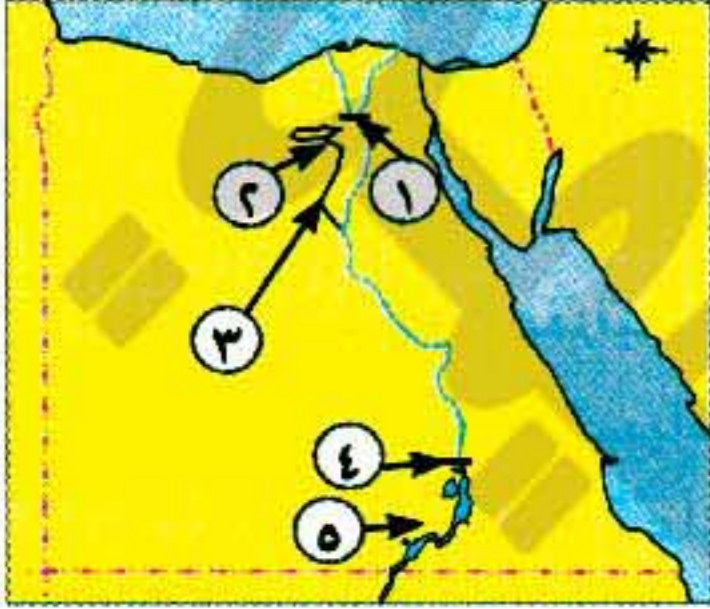
(ج) برهن على صحة العبارتين الآتيتين:

- ١- لم تحقق الحملة الفرنسية أهدافها الحربية.
- ٢- اهتمام محمد علي بالجيش.

٦- محافظة المنوفية - إدارة بركة السبع التعليمية

أولاً - الجغرافيا

السؤال الأول: (١) أمامك خريطة صماء لمصر، اكتب مدلول الأرقام الموقعة عليها:



- ١ - القناطر
- ٢ - منخفض
- ٣ - ترعة
- ٤ - السد
- ٥ - بحيرة

(ب) أكمل العبارات الآتية بما يناسبها من كلمات:

- ١- من خصائص البيئات المصرية التنوع و..... و.....
- ٢- ظهر العديد من المشكلات في البيئة الزراعية نتيجة الاستخدام السيئ للموارد منها..... و.....
- ٣- يجب أن تكون المصانع قريبة من مصادر..... و.....

(ج) ما المقصود بكل من...؟

- ١- الترع.
- ٢- الاستنزاف.
- ٣- السهل الفيضي.

(د) ماذا يحدث إذا...؟

- لم تهتم مصر بتطوير المصانع وتنويعها.

السؤال الثاني: (١) اختر الإجابة الصحيحة من بين الأقواس:

- ١- عادة إيجابية في البيئة الزراعية (التعاون - تفضيل الذكور - زيادة الإنجاب - عمل الأطفال)
- ٢- من الصناعات الحرفية اليدوية في مصر (الفخار - السيارات - الأجهزة الكهربائية - السكر)
- ٣- توفر البيئة الزراعية للبيئة الصناعية (الأسمدة - الآلات الزراعية - المواد الخام - الأدوية)
- ٤- ترتب على الهجرة من الريف إلى المدن (زيادة العمال في الريف - ظهور العشوائيات - قلة العمالة - زيادة الإنتاج الزراعي)
- ٥- من الصناعات الهندسية (الفخار - حلج القطن - حفظ الفواكه - السيارات)

(ب) صنف العوامل الطبيعية والبشرية لقيام الصناعة:

(مصادر الطاقة - رأس المال - وسائل النقل - المواد الخام)

العوامل البشرية	العوامل الطبيعية
.....
.....

(ج) بم تفسر...؟

- ١- قلة عدد السكان في وادي النيل عن الدلتا.
- ٢- اهتمام مصر بزيادة الصادرات من الصناعة.

ثانياً التاريخ

السؤال الثالث: (١) اكتب كلمة (صواب) أمام العبارة الصحيحة وكلمة (خطأ) أمام العبارة غير الصحيحة:

- ١- ازدهرت الحياة الثقافية والعلمية في مصر في أثناء الحكم العثماني. ()
- ٢- فر المماليك إلى الصعيد بعد هزيمتهم في معركة شبراخيت وإمبابة. ()
- ٣- أعطى عباس باشا امتياز حفر قناة السويس للمهندس الفرنسي ديليسبس. ()

(ب) رتب الأحداث الآتية من القديم إلى الحديث:

١- موقعة مرج دابق - فتح القسطنطينية - موقعة الريدانية - اكتشاف طريق رأس الرجاء الصالح.

(ج) ما النتائج المترتبة على...؟

- ١- إخضاع مصر للسيادة العثمانية.
- ٢- السياسة الاقتصادية التي اتبعها محمد علي.
- ٣- النتائج المترتبة على الحملة الفرنسية من الناحية السياسية.

السؤال الرابع: (١) صوب ما تحته خط في العبارات الآتية:

- ١- تولى الخديو توفيق حكم مصر عام ١٨٦٣م. ٢- اكتشف الإنجليز طريق رأس الرجاء الصالح عام ١٤٩٨م.
- ٣- عقد كليبر اتفاقية مع ممثل الجيش الإنجليزي لخروج الحملة الفرنسية بكامل معداتها.

(ب) لمن تنسب الأعمال الآتية...؟

- ١- قائد فرنسي تولى قيادة الحملة الفرنسية بعد سفر نابليون إلى فرنسا.
- ٢- قائد الأسطول الإنجليزي الذي قام بتحطيم الأسطول الفرنسي.
- ٣- نجح في إقامة إمبراطورية مصرية امتدت إلى مديرية خط الاستواء.

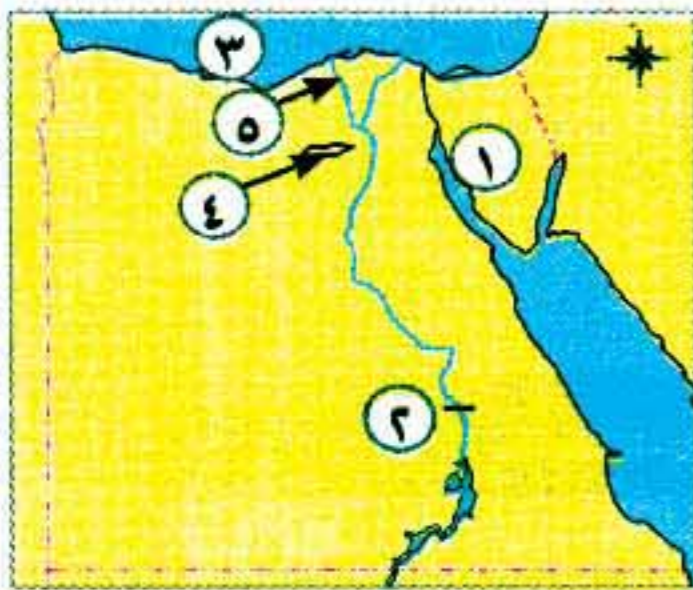
(ج) ما رأيك في...؟

- ١- موقف الشعب المصري من دخول نابليون الجامع الأزهر بخيوله.
- ٢- موقف إنجلترا وفرنسا من توسعات محمد علي.

٧- محافظة الغربية - إدارة كفر الزيات التعليمية

أولاً الجغرافيا

السؤال الأول: (١) أمامك خريطة صماء لمصر، اكتب مدلول الأرقام الموقعة عليها:



- ١- شبه جزيرة
- ٢- قناطر
- ٣- البحر
- ٤- منخفض
- ٥- من أهم مراكز صناعة الغزل والنسيج

(ب) بم تفسر...؟

- ١- لا توجد الزراعة في الأطراف الشمالية للدلتا.
- ٢- معدل الزيادة السكانية في المناطق الريفية أعلى من معدلها في المناطق الحضرية.

٣- الاهتمام بتطوير الصناعة وتعديل خطوط الإنتاج.

السؤال الثاني: (١) اكتب كلمة (صواب) أمام العبارة الصحيحة، وكلمة (خطأ) أمام العبارة غير الصحيحة:

- () ١- يراعى عند بناء المصانع أن تكون بعيدة عن المناطق السكنية وقريبة لمصادر الطاقة.
 () ٢- يقتصر صيد الأسماك في البيئة الزراعية على مصايد نهر النيل.
 () ٣- الانفتاح على العالم الخارجى يشجع العرب والأجانب على الاستثمار فى مجال الصناعة.
 () ٤- يعتبر منخفض الفيوم أقرب المنخفضات الصحراوية لوادى النيل.
 () ٥- من الخصائص التعليمية لسكان البيئة الزراعية زيادة نسبة الأمية فى المدن.
 () ٦- من الصناعات المعدنية صناعة الحديد والصلب وصناعة الأسمدة.

(ب) ما المقصود بكل من...؟

- ١- العشوائيات. ٢- السوق الخارجية. ٣- الاستنزاف.

ثانياً التاريخ

السؤال الثالث: (١) اختر الإجابة الصحيحة من بين الأقواس:

- ١- تم فتح القسطنطينية عاصمة الدولة البيزنطية فى عهد السلطان
 (سليم الأول - محمد الفاتح - بايزيد الثانى - طومان باى)
 ٢- قام السلطان سليم الأول بترحيل أمهر الصناع والحرفيين إلى (فرنسا - بريطانيا - الأستانة - السودان)
 ٣- أرسلت إنجلترا حملة إلى مصر فى مارس ١٨٠٧م بقيادة (كليبر - فريزر - مينو - نابليون)
 ٤- فر المماليك الناجون من مذبحه القلعة إلى (العريش - السودان - الشام - الإسكندرية)
 ٥- امتدت الإمبراطورية المصرية فى عهد إسماعيل إلى
 (المغرب - مديرية خط الاستواء - فرنسا - مالطة)
 ٦- ألغى نابليون ديوان القاهرة بعد
 (ثورة القاهرة الأولى - ثورة القاهرة الثانية - اتفاقية العريش - موقعة أبى قير البرية)

(ب) ما النتائج المترتبة على...؟

- ١- موقعة أبى قير البحرية أغسطس عام ١٧٩٨م. ٢- الفتح العثمانى لمصر.
 ٣- معاهدة لندن ١٨٤٠م.

السؤال الرابع: (١) تخير من القائمة (ب) ما يناسبها فى القائمة (١) وضع ذلك فى المكان المناسب:

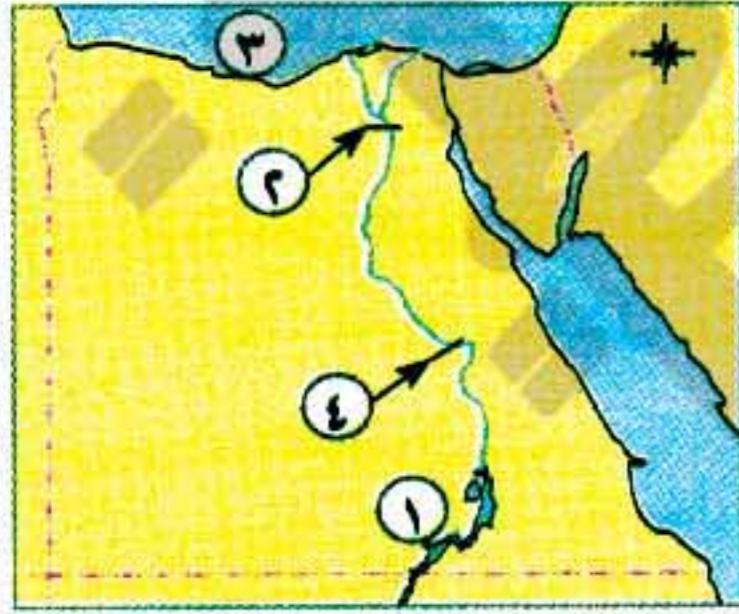
(ب)	(١)
أ- الوالى. ب- محمد سعيد باشا. ج- طوسون باشا. د- سليم الأول. هـ- عمر مكرم. و- كليبر. ز- طولون.	١- ساهمت الزعامة الشعبية فى تولية محمد على بقيادة ٢- عندما عجز عن إخماد ثورة القاهرة الثانية دمر حى بولاق ٣- أبحرت منه الحملة الفرنسية عام ١٧٩٨م ٤- أعطى امتياز حفر قناة السويس للمهندس ديليسبس ٥- انتصر على المماليك فى موقعة الريدانية ٦- كانت مدة حكمه تتراوح بين عام وثلاثة أعوام

(ب) ماذا كان يحدث لو...؟

- ١- لم يتم اكتشاف طريق رأس الرجاء الصالح.
- ٢- رحبت الحكومة البريطانية بعقد اتفاقية العريش ١٨٠٠م.
- ٣- تخاذلت الزعامة الشعبية عن تأييد محمد علي.

٨- محافظة الدقهلية - إدارة المطرية التعليمية

أولاً - الجغرافيا



السؤال الأول: (١) أمامك خريطة صماء لمصر، اكتب مدلول الأرقام الموقعة عليها:

- ١- بحيرة
- ٢- القناطر
- ٣- البحر
- ٤- منطقة صناعية

(ب) أعط مفهومًا جغرافيًا يدل على العبارات الآتية:

- ١- صناعة تعتمد على العمل اليدوي وتحتاج إلى رأس مال قليل.
- ٢- معنى إزالة الطبقة السطحية من التربة مما يؤدي إلى تدهورها.
- ٣- قناة مائية يتم حفرها لتوصيل المياه من نهر النيل إلى الأراضي الزراعية.
- ٤- المناطق التي بنيت بدون تخطيط من الدولة عن طريق وضع اليد حول أطراف المدن.

(ج) اذكر السبب:

- ١- منخفض الفيوم بيئة زراعية رغم وقوعه في الصحراء الغربية.
- ٢- التلوث البيئي أحد مشكلات البيئة الصناعية في مصر.

السؤال الثاني: (١) اختر الإجابة الصحيحة مما بين الأقواس:

- ١- تتمثل الخصائص الاقتصادية للبيئة الزراعية في (الزواج المبكر - انتشار البطالة - الانفتاح - التعاون)
- ٢- حلج القطن من الصناعات (الحرفية - الاستخراجية - البسيطة - المعدنية)
- ٣- حضارة تل بسطة توجد في محافظة (دمياط - القاهرة - الدقهلية - الشرقية)
- ٤- من محاصيل الحبوب الغذائية في مصر (القطن - القمح - البنجر - الكتان)
- ٥- تنوع البيئات المصرية يرجع إلى (اتساع مساحة مصر - تنوع مظاهر السطح - تنوع الموارد - كل ما سبق)

(ب) وضح العلاقة بين البيئة الزراعية والبيئة الصناعية.

ثانياً - التاريخ

السؤال الثالث: (١) أكمل العبارات الآتية بما يناسبها من كلمات:

- ١- أصبحت مصر ولاية عثمانية بعد موقعة
- ٢- فشلت الحملة الفرنسية على الشام في فتح مدينة
- ٣- اكتشف طريق رأس الرجاء الصالح عام ١٤٩٨م.

٤- تولى حكم مصر عام ١٨٦٣م الخديو

٥- أرسلت إنجلترا حملة على مصر ١٨٠٧م بقيادة

(ب) ما النتائج المترتبة على...؟

١- تحطيم الأسطول الفرنسي في موقعة أبي قير البحرية عام ١٧٩٨م.

٢- الحكم العثماني في مصر.

السؤال الرابع: (أ) «تعاضمت الروح الوطنية ضد الاحتلال الفرنسي، فقام الشعب المصري بثورته» في ضوء تلك العبارة أجب عما يأتي:

١- ما المقصود بالاحتلال؟

٢- ما أسباب اندلاع ثورة القاهرة الثانية؟

(ب) صوب ما تحته خط في العبارات الآتية:

١- تولى المماليك حكم مصر عقب انهيار الدولة الفاطمية.

٢- قام محمد علي بنى عمر مكرم إلى الإسكندرية.

٣- تأثرت مشروعات محمد علي الإصلاحية نتيجة معاهدة الجلاء ١٨٤٠م.

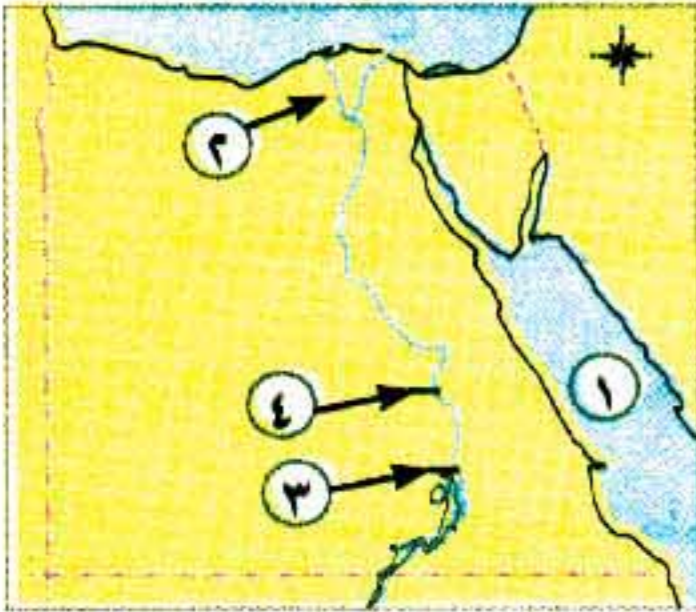
(ج) رتب الأحداث التاريخية التالية من القديم إلى الحديث:

(ثورة القاهرة الثانية - نهاية حكم محمد علي - الحملة الفرنسية على مصر - فتح القسطنطينية).

٩- محافظة كفر الشيخ - إدارة بيلا التعليمية

أولاً الجغرافيا

السؤال الأول: (أ) أمامك خريطة صماء لمصر، اكتب مدلول الأرقام الموقعة عليها:



١- البحر

٢- فرع

٣- السد

٤- قناطر

(ب) بم تفسر...؟

١- يختلف منخفض الفيوم عن باقي منخفضات مصر.

٢- إنشاء الدولة العديد من المناطق الصناعية.

السؤال الثاني: (أ) اكتب كلمة (صواب) أمام العبارة الصحيحة وكلمة (خطأ) أمام العبارة غير الصحيحة:

١- تتنوع الثروات المعدنية والإنتاج الاقتصادي لتنوع البيئات المصرية. ()

٢- تروى ترعة الإسماعيلية الأراضي الزراعية في غرب الوادي. ()

- ٣- تضم محافظة الفيوم معالم سياحية متعددة منها عين السيليين .
٤- تعد صناعة السيارات والآلات من الصناعات المعدنية .

(ب) ما المقصود بالمفاهيم الجغرافية الآتية...؟

- ١- تجريف التربة .
٢- البطالة .
٣- السهل الفيضي .
٤- الصناعة .

ثانياً التاريخ

السؤال الثالث: (١) اختر الإجابة الصحيحة من بين الأقواس:

- ١- أصبحت مصر ولاية عثمانية عام ١٥١٧م بعد موقعة
(ديو البحرية - جالديران - أبي قير البحرية - الريدانية)
٢- قام الأسطول الإنجليزي بتحطيم الأسطول الفرنسي في موقعة
(ديو البحرية - مرج دابق - أبي قير البحرية - أبي قير البرية)
٣- أرسلت بريطانيا حملة إلى مصر في مارس ١٨٠٧م بقيادة (فريزر - كرومر - مينو - ديليسبس)
٤- اهتم محمد علي بالتعليم فأرسل بعثات إلى الخارج وخاصة إلى دولة
(إنجلترا - فرنسا - إيطاليا - إسبانيا)

(ب) لمن تنسب الأعمال الآتية...؟

- ١- فتح القسطنطينية عام ١٤٥٣م واتخذها العثمانيون عاصمة لهم .
٢- عقد مع العثمانيين اتفاقية العريش عام ١٨٠٠م .
٣- تزعم ثورة القاهرة الثانية في عام ١٨٠٠م .
٤- منح امتياز حفر قناة السويس للمهندس الفرنسي ديليسبس .
٥- اهتم بالعمارة وأنشأ القصور مثل قصر الجوهرة .

السؤال الرابع: (١) صوب ما تحته خط في العبارات الآتية:

- ١- اكتشف الإنجليز طريق رأس الرجاء الصالح عام ١٤٩٨م .
٢- انهزم المماليك في موقعة مرج دابق بقيادة السلطان طومان باي .
٣- تولى محمد علي حكم مصر بعد عزل خسرو باشا .
٤- قام محمد علي بنفى عمر مكرم إلى الإسكندرية عام ١٨٠٩م .
٥- قسم محمد علي مصر إلى تسع مديريات .
٦- تقلصت مشروعات محمد علي الإصلاحية نتيجة معاهدة الجلاء ١٨٤٠م .

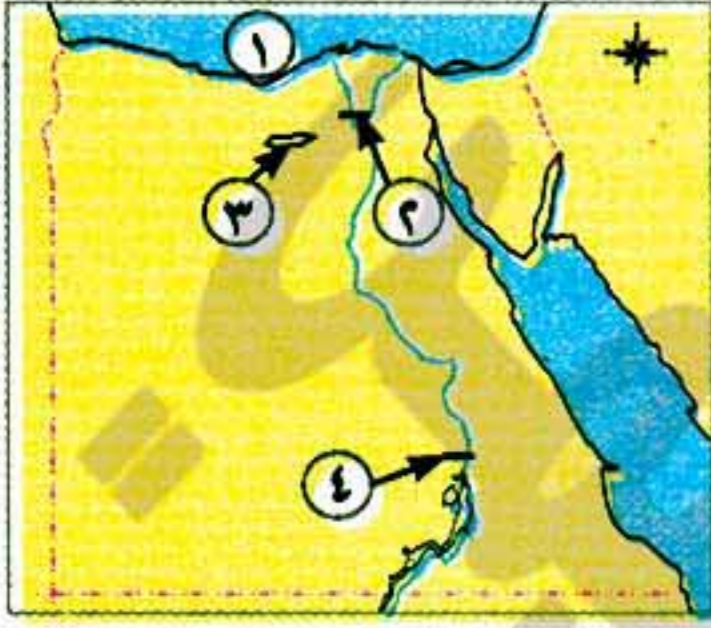
(ب) ما النتائج المترتبة على...؟

- ١- الحكم العثماني لمصر .
٢- ثورة القاهرة الأولى أكتوبر ١٧٩٨م .

١٠- محافظة الشرقية - إدارة مشتل السوق التعليمية

(مجاب على ص ٢٧٨)

أولاً - الجغرافيا



السؤال الأول: (١) أمامك خريطة صماء لمصر، اكتب مدلول الأرقام الموقعة عليها:

- ١- البحر.....
- ٢- القناطر.....
- ٣- مدينة.....
- ٤- السد.....

(ب) بم تفسر...؟

- ١- أهمية الثروة الحيوانية في مصر.
- ٢- تكامل البيئات مع بعضها البعض.
- ٣- الزيادة الطبيعية للسكان في الريف أعلى من الحضر.
- ٤- قلة عدد السكان في المناطق القريبة من الصحارى.

(ج) أعط تعريفاً صحيحاً لكل من:

- ١- إزالة الطبقة السطحية من التربة مما يؤدي لتدهور إنتاجيتها.
- ٢- يقصد بها الأفراد الذين في سن العمل ولا يعملون.

السؤال الثاني: (١) اذكر نتيجة واحدة لكل من:

- ١- إنشاء المزارع السمكية.
- ٢- هجرة سكان الريف إلى البيئة الصناعية.
- ٣- الإكثار من المساحات الخضراء في البيئة الصناعية.

(ب) اكتب كلمة (صواب) أمام العبارة الصحيحة وكلمة (خطأ) أمام العبارة غير الصحيحة:

- ١- تنتشر الزراعة المطرية على الساحل الشمالى بالبيئة الساحلية. ()
- ٢- تنمو النباتات الطبيعية في البيئة الزراعية. ()
- ٣- عرف المصريون القدماء صناعة السفن والمواد الكيماوية. ()
- ٤- يتصل منخفض الفيوم بنهر النيل عن طريق ترعة بحريوسف. ()
- ٥- من العادات الإيجابية للبيئة الزراعية تفضيل الذكور على الإناث. ()

ثانياً - التاريخ

السؤال الثالث: (١) أكمل العبارات الآتية بما يناسبها:

- ١- أنشأ محمد على قصر.....
- ٢- كان نائب السلطان العثمانى ومقره القلعة.
- ٣- وقعت أحداث موقعة بين الأسطول الإنجليزي والفرنسى ١٧٩٨م.
- ٤- تولى حكم مصر بعد عزل الخديو إسماعيل.

(ب) اختر الإجابة الصحيحة من بين الأقواس:

- ١- انتصر العثمانيون على المماليك في موقعة (إمبابة - مرج دابق - أبى قير - العريش)

٢- نفي محمد على نقيب الأشراف إلى دمياط .

(خورشيد باشا - عبد الله الشرقاوى - عمر مكرم - فريزر)

٣- أبحرت الحملة الفرنسية من ميناء جنوب فرنسا . (كريت - الإسكندرية - العريش - طولون)

٤- أعطى للمهندس الفرنسى امتياز حفر قناة السويس . (إسماعيل - سعيد - طوسون - إبراهيم)

السؤال الرابع : (ا) اذكر نتيجة واحدة لكل من:

١- ثورة القاهرة الأولى ١٧٩٨ م .

٢- فرمان يونيو ١٨٤١ م .

٣- حكم العثمانيين لمصر .

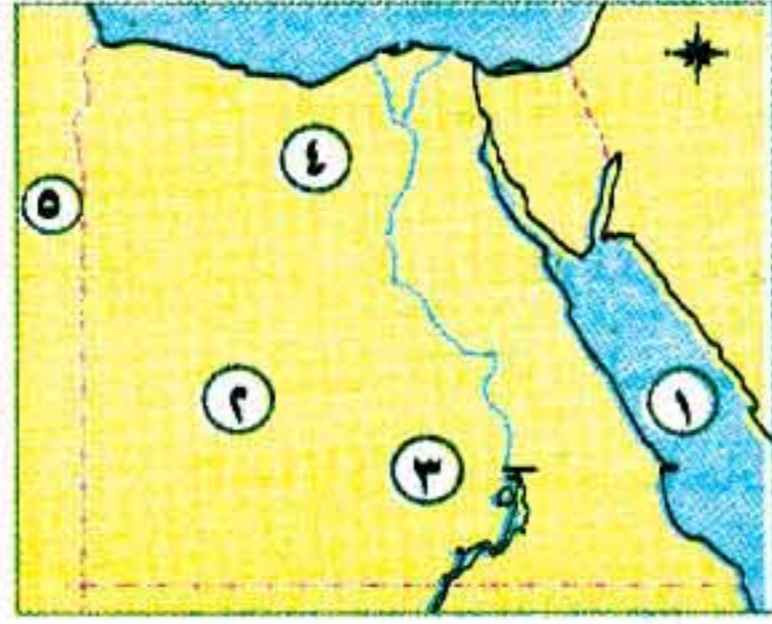
(ب) رتب الأحداث التاريخية الآتية من الأقدم إلى الأحدث:

اكتشاف حجر رشيد - موقعة الريدانية - ثورة القاهرة الثانية - موقعة شبراخيت

١١- محافظة مطروح - إدارة مطروح التعليمية

أولاً - الجغرافيا

السؤال الأول: (ا) أمامك خريطة صماء لمصر، اكتب مدلول الأرقام الموقعة عليها:



١- البحر

٢- الصحراء

٣- السد

٤- منخفض

٥- دولة

(ب) بم تفسر...؟

١- لا تجود الزراعة فى الأطراف الشمالية للدلتا .

٢- تعد وسائل النقل والمواصلات من العوامل المهمة فى الصناعة .

(ج) اكتب ما تشير إليه العبارة الآتية:

- الإفراط وسوء الاستخدام للموارد الطبيعية بشكل يؤدي إلى نفاذها .

السؤال الثانى: (ا) اكتب كلمة (صواب) أمام العبارة الصحيحة وكلمة (خطأ) أمام العبارة غير الصحيحة:

١- تتميز الأراضى الزراعية فى منخفض الفيوم باستواء السطح . ()

٢- يرتفع التركيز السكانى فى الدلتا ويقل فى الوجه القبلى . ()

٣- اهتمت الدولة بحل مشكلة البطالة بإنشاء مراكز لتعليم الكبار . ()

٤- تؤثر الظروف المناخية على مناطق إقامة المصانع . ()

٥- تعد صناعة السجاد اليدوى والفخار من الصناعات الحرفية . ()

(ب) ما الفرق بين كل من...؟ - الأمية والبطالة .

(ج) ماذا يحدث إذا...؟ - لم يتم إلقاء المخلفات السائلة للمصانع فى نهر النيل .

ثالثاً التاريخ

السؤال الثالث: (ا) اختر الإجابة الصحيحة من بين الأقواس:

- ١- دخل العثمانيون القاهرة بعد هزيمة المماليك في موقعة (مرج دابق - الريدانية - إمبابة - رشيد)
- ٢- قاوم أهالي الإسكندرية الحملة الفرنسية بقيادة (محمد كريم - عمر مكرم - الشيخ السادات - الشرقاوى)
- ٣- تولى الحكم في مصر بعد عزل إسماعيل الخديو (إبراهيم - توفيق - عباس - سعيد)

(ب) أكمل العبارات الآتية بما يناسبها من كلمات:

- ١- يرجع ازدهار دولة المماليك في مصر والشام لموقعها
- ٢- أرسلت بريطانيا حملة إلى مصر في مارس ١٨٠٧م بقيادة
- ٣- انطلقت ثورة القاهرة الثانية من حي

(ج) ما النتائج المترتبة على...؟

- ١- تحطم الأسطول الفرنسى عند أبى قير.
- ٢- سياسة محمد على الخارجية التوسعية.

السؤال الرابع: (ا) إلى من تنسب الأعمال التاريخية التالية...؟

- ١- السلطان الذى قام بترحيل أمهرالصناع والحرفيين إلى الآستانة.
- ٢- تولى قيادة الحملة الفرنسية بعد رحيل نابليون.
- ٣- تخلص من الزعامة الشعبية ودبر مذبحه القلعة للقضاء على المماليك.
- ٤- أعطى امتياز حفر قناة السويس للمهندس ديليسبس.

(ب) رتب الأحداث التاريخية التالية من القديم إلى الحديث:

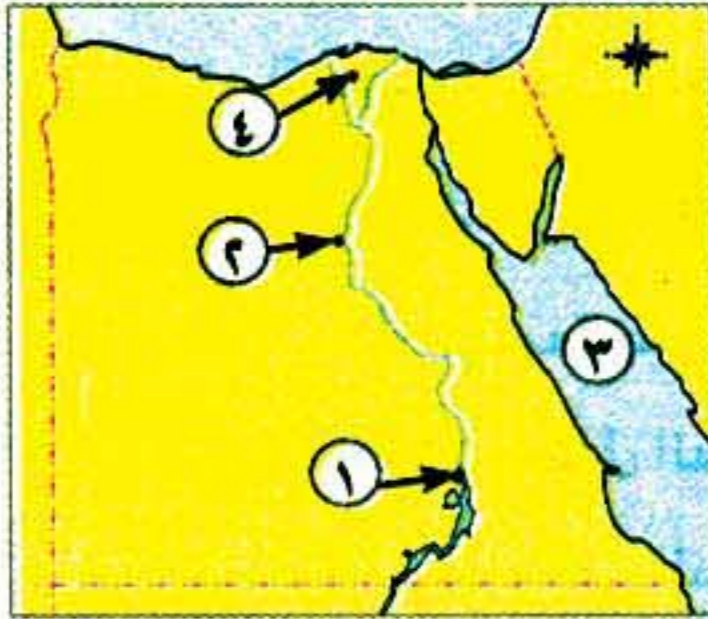
- (موقعة شبراخيت - معاهدة لندن - موقعة مرج دابق - موقعة أبى قيرالبرية)

(ج) ما المقصود ب...؟ - الثورة.

١٢- محافظة الفيوم - ادارة شرق الفيوم التعليمية

أولاً الجغرافيا

السؤال الأول: (ا) أمامك خريطة صماء لمصر، اكتب مدلول الأرقام الموقعة عليها:



- ١- السد
- ٢- قناطر
- ٣- البحر
- ٤- منطقة صناعية

(ب) اكتب المصطلح الذى تحل عليه العبارات الآتية:

- ١- الأفراد الذين فى سن العمل ولا يعملون.

- ٢- المناطق التي تقوم فيها الصناعة ويعمل سكانها بالصناعة .
٣- قناة يتم حفرها عند منسوب أقل من منسوب الترع والأراضي الزراعية .
(ج) ماذا يحدث إذا...؟ - لم يتم اتصال منخفض الفيوم بنهر النيل .

السؤال الثاني: (١) اختر الإجابة الصحيحة من بين الأقواس:

- ١- من أهم القناطر في الفيوم
٢- توجد آثار حضارة تل بسطة في محافظة
٣- صناعة حلج الأقطان من الصناعات
٤- توفر البيئة الصناعية للبيئة الزراعية (المواد الخام - الآلات الزراعية - الأيدي العاملة - المنتجات الغذائية)

(ب) صف العادات في البيئة الزراعية:

(احترام الكبير - الزواج المبكر - تفضيل الذكور على الإناث - التزاوير بين الناس)

عادات سلبية	عادات ايجابية
.....
.....

ثانياً التاريخ

السؤال الثالث: (١) اكتب كلمة (صواب) أمام العبارة الصحيحة وكلمة (خطأ) أمام العبارة غير الصحيحة:

- ١- اندلعت ثورة القاهرة الأولى من حي بولاق. ()
٢- أبحرت الحملة الفرنسية من ميناء طولون. ()
٣- فرضت الدولة العثمانية سيطرتها على مصر عام ١٥١٧م. ()
٤- تولى الجنرال مينو قيادة الحملة الفرنسية بعد مقتل كليبر. ()

(ب) من أكون...؟

- ١- بنيت قصر الجوهرة والدفترخانه. ()
٢- قادت الحملة الإنجليزية عام ١٨٠٧م. ()
٣- اتجهت بغزواتي نحو المشرق العربي في القرن الـ ١٦. ()

السؤال الرابع: (١) أكمل العبارات الآتية بما يناسبها من كلمات:

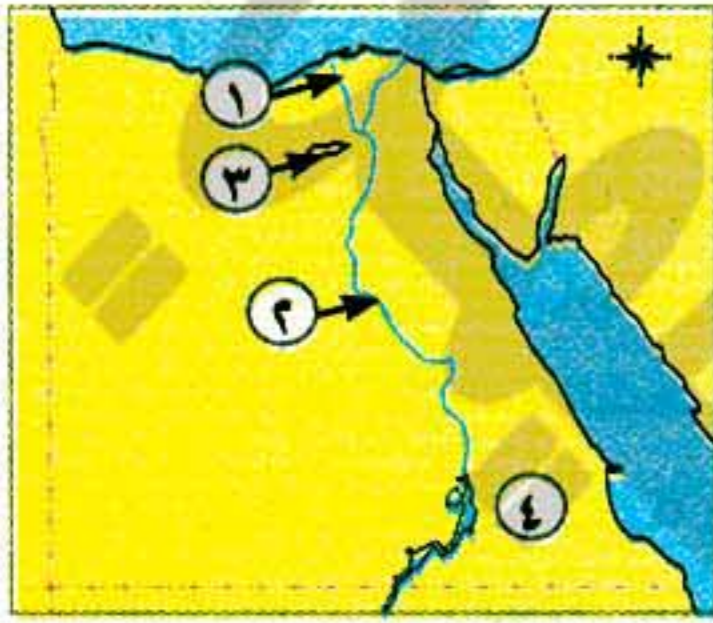
- ١- فتحت القسطنطينية في عهد السلطان
٢- تحطم الأسطول الفرنسي عام ١٧٩٨م في موقعة
٣- أنشأ محمد علي الديوان العالي ومقره
٤- أعدم نابليون ستة من زعماء ثورة القاهرة الأولى باستثناء
٥- أعطى سعيد باشا امتياز حفر قناة السويس للمهندس الفرنسي

(ب) بم تفسر...؟

- ١- ازدهار دولة المماليك في مصر والشام.
٢- فشل اتفاقية العريش بين العثمانيين والفرنسيين ١٨٠٠م.

١٢- محافظة بنى سويف - إدارة ناصر التعليمية

أولاً الجغرافيا



السؤال الأول: (١) أمامك خريطة صماء لمصر، اكتب مدلول الأرقام الموقعة عليها:

- ١- فرع
٢- وادى
٣- منخفض
٤- الصحراء

(ب) أكمل العبارات الآتية بما يناسبها من كلمات:

- ١- يعتمد الإنسان في البيئة الزراعية بالوادي والدلتا ومنخفض الفيوم على مياه في حين يعتمد في الواحات على مياه
٢- من مناطق الجذب السياحي في البيئة الزراعية و
٣- من العوامل الطبيعية لقيام الصناعة و
٤- تعد صناعة السكر من الصناعات بينما صناعة الألمنيوم من الصناعات

(ج) بم تفسر...؟

- ١- قيام الزراعة بالساحل الشمالى فى البيئة الساحلية.
٢- الاهتمام بالتعليم الفنى الصناعى.

السؤال الثانى: (١) اكتب كلمة (صواب) أمام العبارة الصحيحة وكلمة (خطأ) أمام العبارة غير الصحيحة:

- ١- يمكن أن نجد داخل البيئة الزراعية بيئة صناعية. ()
٢- من محاصيل الحبوب القمح والأرز والكتان. ()
٣- يراعى عند بناء المصانع أن تكون بعيدة عن المناطق السكنية. ()
٤- أهم مشكلات البيئة الصناعية فى مصر الاهتمام بالتعليم الفنى. ()
٥- الانفتاح على العالم الخارجى يشجع على الاستثمار فى مجال الصناعة. ()

(ب) ما النتائج المترتبة على...؟

- ١- الزحف العمرانى على الأرض الزراعية.
٢- هجرة سكان الريف إلى البيئة الصناعية.

ثانياً التاريخ

السؤال الثالث: (١) اختر الإجابة الصحيحة من بين الأقواس:

- ١- هزمت الجيوش المملوكية بقيادة السلطان فى معركة الريدانية .
(طومان باى - قنصوه الغورى - سليم الأول - محمد الفاتح)
٢- كان مقر الحكومة المركزية فى عهد محمد على فى (الإسكندرية - الغربية - القاهرة - الجيزة)

(ب) أكمل العبارات الآتية بما يناسبها من كلمات:

- ١- نتج عن أنظمة الحكم والإدارة العثمانية لمصر تدهور.....
- ٢- اتخذ المصريون من مركزاً للمقاومة أثناء ثورة القاهرة الأولى.

(ج) بم تفسر...؟

- ١- ازدهار الدولة المملوكية في مصر والشام.
- ٢- تكتم الفرنسيين نبأ الإعداد للحملة على مصر.

السؤال الرابع: (١) اكتب كلمة (صواب) أمام العبارة الصحيحة وكلمة (خطأ) أمام العبارة غير الصحيحة:

- ١- اكتشف البرتغاليون طريق رأس الرجاء الصالح. ()
- ٢- نشطت التجارة وازدهرت الصناعة أثناء الحكم العثماني. ()
- ٣- كان للزعامة الشعبية والعلماء دور في تولية محمد علي. ()

(ب) ما النتائج المترتبة على...؟

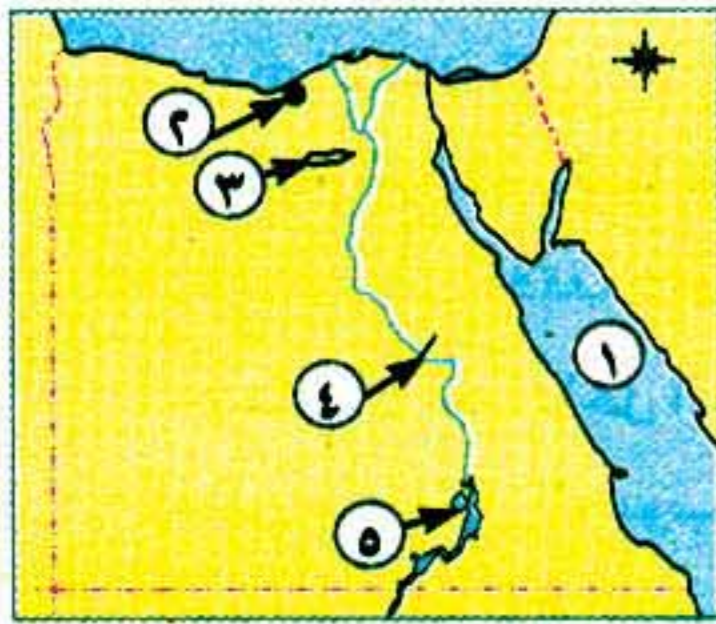
- ١- السياسة الاقتصادية التي اتبعها محمد علي في مصر.
- ٢- إخضاع مصر للسيادة العثمانية.

(ج) ما المقصود بالمفهوم التاريخي التالي...؟ - مستعمرة.

١٤- محافظة المنيا - إدارة بنى مزار التعليمية

أولاً الجغرافيا

السؤال الأول: (١) أمامك خريطة صماء لمصر، اكتب مدلول الأرقام الموقعة عليها:



- ١- البحر.....
- ٢- محافظة حضرية.....
- ٣- منخفض.....
- ٤- مدينة لصناعة الألومنيوم.....
- ٥- بحيرة.....

(ب) بم تفسر...؟

- ١- تنوع البيئات المصرية.
- ٢- لا توجد الزراعة في الأطراف الشمالية للدلتا.
- ٣- أهمية البيئة الصناعية في مصر.

السؤال الثاني: (١) اختر الإجابة الصحيحة من بين الأقواس:

- ١- الزراعة التي تقوم على المياه الجوفية توجد في (الوادي - الدلتا - الواحات - الساحل الشمالي)
- ٢- من الصناعات الكيميائية في مصر (الأدوية - السيارات - المنسوجات - الألومنيوم)
- ٣- من خصائص سكان البيئة الصناعية (البطالة - الأمية - انخفاض مستوى المعيشة - مشاركة المرأة في العمل)
- ٤- من العادات السلبية للبيئة الزراعية (التعاون - كثرة الإنجاب - احترام الكبير - التزاور فيما بينهم)

(ب) اكتب المفهوم الذي تشير إليه العبارات الآتية:

- ١- قناة مائية يتم حفرها لتوصيل المياه من نهر النيل إلى الأراضي الزراعية.

٢٥٠

- ٢- إزالة الطبقة السطحية من التربة مما يؤدي إلى تدهور إنتاجها.
٣- الإفراط وسوء استخدام الموارد الطبيعية بشكل يؤدي إلى نفاذها.

ثانياً التاريخ

السؤال الثالث: (١) اكتب كلمة (صواب) أمام العبارة الصحيحة وكلمة (خطأ) أمام العبارة غير الصحيحة:

- ١- قام السلطان سليم الأول بترحيل أمهر الصناع والحرفيين إلى الآستانة. ()
٢- نجح الفرنسيون في احتلال الإسكندرية بعد مقاومة حاكمها عمر مكرم. ()
٣- كان مركز ثورة القاهرة الثانية حى بولاق. ()
٤- تولى سعيد باشا حكم مصر بعد وفاة إبراهيم باشا. ()
٥- فشلت حملة فريزر بسبب مقاومة أهل رشيد الباسلة. ()

(ب) ما النتائج المترتبة على...؟

- ١- هزيمة المماليك في موقعة الريدانية عام ١٥١٧م.
٢- موقعة أبي قير البحرية عام ١٧٩٨م.
٣- سياسة محمد على الخارجية التوسعية.

السؤال الرابع: (١) صوب ما تحته خط في العبارات الآتية:

- ١- اكتشف الفرنسيون طريق رأس الرجاء الصالح عام ١٤٩٨م.
٢- أبحرت الحملة الفرنسية سراً من ميناء مارسيليا بفرنسا.
٣- كان مقر الحكومة المركزية في عهد محمد على مدينة الإسكندرية.
٤- طبق محمد على نظام الالتزام في الاقتصاد المصرى.

(ب) من هو...؟

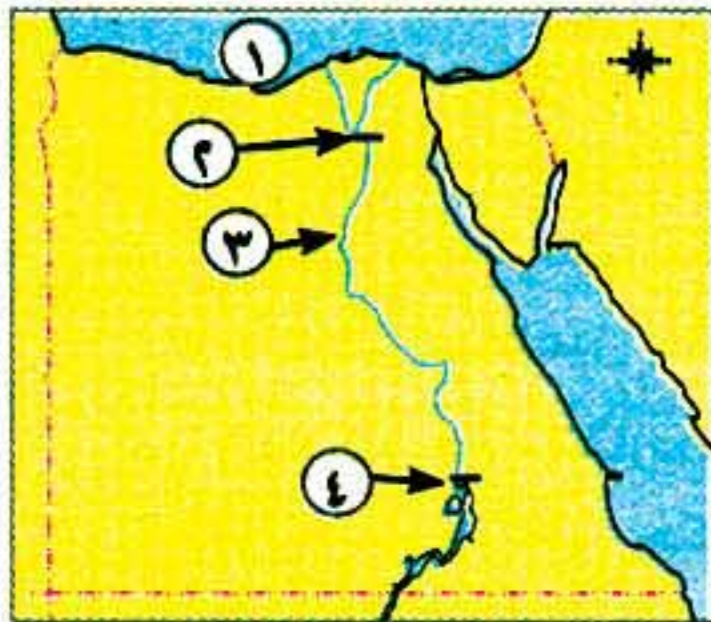
- ١- قام بفتح القسطنطينية عاصمة الدولة البيزنطية عام ١٤٥٣م.
٢- عقد مع العثمانيين اتفاقية العريش عام ١٨٠٠م.
٣- نجح في إقامة إمبراطورية امتدت إلى مديريةية خط الاستواء.

١٥- محافظة أسيوط - إدارة أسيوط التعليمية

(مجاب عليه ص ٢٧٨)

أولاً الجغرافيا

السؤال الأول: (١) أمامك خريطة صماء لمصر، اكتب مدلول الأرقام الموقعة عليها:



- ١- البحر.....
٢- القناطر.....
٣- ترعة.....
٤- السد.....

٢٥١



هذا العمل حصري على موقع ذاكروولى التعليمى ولا يسمح بنشره فى أى مواقع أخرى
لمزيد من أعمالنا تفضل بزيارة موقعنا على الانترنت <https://www.zakrooly.com>

(ب) اكتب المصطلح الذى تدل عليه العبارات الآتية:

- ١- بيئة تتوفر فيها مقومات الزراعة من تربة خصبة ومياه عذبة.
- ٢- الإفراط وسوء استخدام الموارد الطبيعية بشكل يؤدي إلى نفادها.

السؤال الثانى: (١) اختر الإجابة الصحيحة من بين الأقواس:

- ١- تربة وادى النيل ودلتاه تربة جلبها نهر النيل من منابعه . (طينية - رملية - صفراء - صخرية)
 - ٢- من الخصائص الاقتصادية لسكان البيئة الزراعية فى مصر
 - ٣- أنشأت الدولة وزارة لإصدار القوانين والتشريعات لحماية البيئة من الأخطار. (الأمية - التعاون - انتشار البطالة - التمسك بالأراضى الزراعية)
 - ٤- من العادات السلبية للعاملين بالبيئة الصناعية
 - ٥- صناعة الأسمدة والأدوية من الصناعات (الغذائية - الكيميائية - المعدنية - الهندسية)
- (ب) بم تفسر...؟ - اهتمام الدولة بإنشاء المناطق الصناعية .

ثانياً التاريخ

السؤال الثالث: (١) أكمل العبارات الآتية بما يناسبها:

- ١- اكتشف طريق رأس الرجاء الصالح عام ١٤٩٨ م .
- ٢- أصبحت مصر ولاية بعد هزيمة المماليك فى الريدانية عام ١٥١٧ م .
- ٣- تدهورت الحياة الفنية فى مصر أثناء الحكم العثمانى بسبب ترحيل أمهر والحرفيين .
- ٤- الوالى أو الباشا هونائب ومقره القلعة ومدة حكمه من عام إلى ثلاثة أعوام .
- ٥- قامت ثورة القاهرة الثانية ضد الفرنسيين بزعامة فى حى بولاق عام ١٨٠٠ م .
- ٦- أدرك محمد على أن نجاح مشروعاته يرتبط ببناء قوى ومنظم ومدرّب .

(ب) ما النتائج المترتبة على...؟

- تحطم الأسطول الفرنسى فى موقعة أبى قير البحرية عام ١٧٩٨ م .

السؤال الرابع: (١) اكتب كلمة (صواب) أمام العبارة الصحيحة وكلمة (خطأ) أمام العبارة غير الصحيحة:

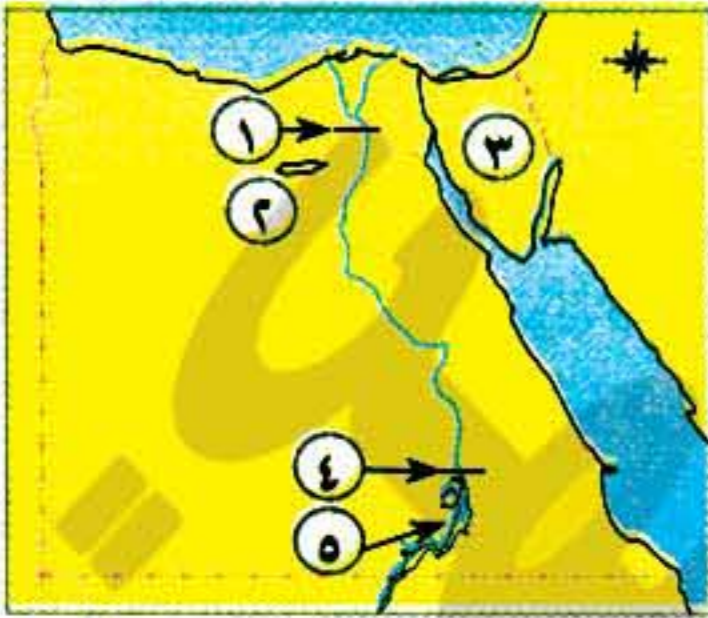
- ١- من أسباب هزيمة المماليك أمام العثمانيين النظم الحربية التقليدية . ()
- ٢- اكتشاف حجر رشيد من أبرز النتائج السياسية للحملة الفرنسية . ()
- ٣- دبر محمد على مذبحه القلعة للقضاء على العثمانيين عام ١٨١١ م . ()
- ٤- طبق محمد على نظام الاحتكار للسيطرة على الاقتصاد المصرى . ()
- ٥- أعطى إسماعيل باشا امتياز حفر قناة السويس للفرنسى ديليسبس . ()

(ب) رتب الأحداث التاريخية الآتية ترتيباً تصاعدياً:

- (تولية محمد على حكم مصر - مجيء الحملة الفرنسية إلى مصر - فتح القسطنطينية - الحملة الإنجليزية بقيادة فريزر).

١٦ - محافظة قنا - إدارة قنا التعليمية

أولاً - الجغرافيا



السؤال الأول: (١) أمامك خريطة صماء لمصر، اكتب مدلول الأرقام الموقعة عليها:

- ١ - القناطر
- ٢ - منخفض
- ٣ - شبه جزيرة
- ٤ - السد
- ٥ - بحيرة

(ب) أكمل العبارات الآتية بكلمة مناسبة مما بين الأقواس:

(سوداء - الدلتا - الحديثة - الحرفية - بيضاء)

- ١- توجد الزراعة المروية بمياه النيل بمصر في
- ٢- تتميز التربة الطينية بأنها خصبة و اللون .
- ٣- تعتمد الصناعة على العمل اليدوي وتحتاج إلى رأس مال قليل .

السؤال الثاني: (١) اكتب كلمة (صواب) أمام العبارة الصحيحة وكلمة (خطأ) أمام العبارة غير الصحيحة:

- ١- تنوع البيئات المصرية أدى إلى تنوع الثروات الطبيعية. ()
- ٢- يقوم نشاط صيد الأسماك في البيئة الزراعية على مصايد نهر النيل فقط. ()
- ٣- يجب عند إقامة المصانع مراعاة اتجاهات الرياح. ()
- ٤- شهدت مصر نهضة صناعية في عهد محمد علي مؤسس الحضارة المصرية القديمة. ()

(ب) بم تفسر...؟

- ١- تناقص مساحة الأراضي الزراعية.
- ٢- حاجة المناطق الصناعية إلى رؤوس الأموال.

ثانياً - التاريخ

السؤال الثالث: (١) اختر الإجابة الصحيحة من بين الأقواس:

- ١- نشأت الدولة أواخر القرن الثالث عشر الميلادي. (المملوكية - العثمانية - التركية - الفرنسية)
- ٢- أبحرت الحملة الفرنسية من ميناء بجنوب فرنسا في عام ١٧٩٨م. (رشيد - الإسكندرية - طولون - دمياط)
- ٣- فر المماليك إلى بعد هزيمتهم في معركة شبراخيت وإمبابة. (فرنسا - إنجلترا - الإسكندرية - الصعيد)
- ٤- ساهمت الزعامة الشعبية في تولية محمد علي بقيادة (عمر مكرم - محمد كريم - خورشيد باشا - فريزر)
- ٥- أنشأ محمد علي ترسانة لصناعة بالإسكندرية. (الطائرات - القطارات - السفن - السيارات)

(ب) اكتب المفهوم الذي تشير إليه العبارات الآتية:

- ١- تجهيز الجيش وتوجيهه للأهداف الحربية.
- ٢- حركة شعبية شاملة تهدف إلى التغيير الجذري الشامل.
- ٣- نجاح في إقامة إمبراطورية مصرية امتدت إلى مديريةية خط الاستواء.

السؤال الرابع: (أ) اختر من القائمة (ب) العبارة المناسبة لعبارة القائمة (أ):

(ب)	(أ)
- في موقعة أبي قير البحرية - وعين كليبر قائدًا للحملة - لتأمين طرق المواصلات إلى الهند - الديوان للانعقاد - ظهرت بسالة أهل رشيد في رد الحملة	١- كان الوالى يدعو ٢- هاجم نلسون الأسطول الفرنسى ٣- اتخذ نابليون قرار العودة إلى فرنسا ٤- طمع الإنجليز فى بسط نفوذهم على مصر

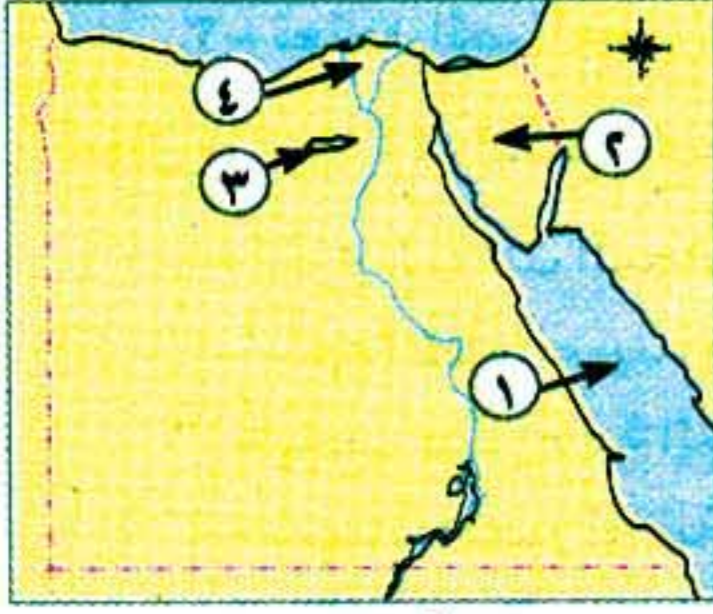
(ب) رتب الأحداث التاريخية التالية ترتيبًا تصاعديًا:

(موقعة مرج دابق - فتح القسطنطينية - اكتشاف طريق رأس الرجاء الصالح).

١٧ - محافظة سوهاج - إدارة طهطا التعليمية

أولاً الجغرافيا

السؤال الأول: (أ) أمامك خريطة صماء لمصر، اكتب مدلول الأرقام الموقعة عليها:



- ١ - بحر
- ٢ - شبه جزيرة
- ٣ - منخفض
- ٤ - منطقة تركيز السكان

(ب) بم تفسر...؟

- ١- تندر النباتات الطبيعية فى البيئة الزراعية.
- ٢- حاجة المناطق الصناعية إلى رؤوس الأموال.
- ٣- قلة السكان فى وادى النيل عن السكان فى الدلتا.

السؤال الثانى: (أ) صوب ما تحته خط:

- ١- تعتمد الزراعة فى سواحل مصر الشمالية على المياه الجوفية.
- ٢- صيد الأسماك هو النشاط الاقتصادى الأول لسكان البيئة الزراعية.
- ٣- عند إقامة المصانع تراعى اتجاهات المطر حتى لا تتجه الأدخنة والملوثات للمدن.
- ٤- من أهم المشكلات التى تواجه الصناعة فى مصر انخفاض أسعار المواد الخام.

(ب) اذكر نتيجة واحدة لكل من:

- ١- استواء السطح فى الوادى والدلتا.
- ٢- كثرة المشكلات الاقتصادية فى البيئة الزراعية كالبطالة.
- ٣- الاهتمام بزراعة الأشجار والحدائق فى المدن الصناعية.

(ج) اذكر مشكلتين من مشاكل كل من:

- ١- السكان فى البيئة الزراعية فى مصر.
- ٢- البيئة الصناعية فى مصر.

ثانياً التاريخ

السؤال الثالث: (أ) أكمل العبارات الآتية بما يناسبها من كلمات:

- ١- انتصر العثمانيون على المماليك في معركة عام ١٥١٦م .
- ٢- كانت مدة حكم الوالي العثماني في مصر من سنة إلى سنوات .
- ٣- من أهم الصعوبات التي واجهت محمد علي في بداية حكمه حملة ١٨٠٧م .
- ٤- فشلت حملة نابليون على الشام بسبب فشله في فتح مدينة

(ب) ما النتائج المترتبة على...؟

- ١- هزيمة المماليك في الريدانية .
- ٢- موقعة أبي قير البحرية أغسطس ١٧٩٨م .
- ٣- معاهدة لندن ١٨٤٠م .

السؤال الرابع: (أ) اكتب كلمة (صواب) أمام العبارة الصحيحة وكلمة (خطأ) أمام العبارة غير الصحيحة:

- ١- تم فتح القسطنطينية عاصمة الدولة البيزنطية على يد السلطان محمد الفاتح. ()
- ٢- استولت الحملة الفرنسية في طريقها إلى مصر على جزيرة كريت أولاً ثم مالطة. ()
- ٣- من أهم النتائج العلمية للحملة الفرنسية فك رموز حجر رشيد ومعرفة الكتابة الهيروغليفية. ()
- ٤- ساءت أحوال مصر الاقتصادية بعد اكتشاف الفرنسيين لطريق رأس الرجاء الصالح. ()
- ٥- تولى محمد علي حكم مصر عام ١٨٠٥م بعد اختيار السلطان العثماني له. ()
- ٦- اقتصر دور الأزهر على العلوم الدينية فقط على حساب العلوم العقلية في العصر العثماني. ()

(ب) من أكون...؟

- ١- تزعمت ثورة القاهرة الثانية وشاركت في اختيار محمد علي والياً على مصر ثم نفيت إلى دمياط.
- ٢- عينت قائداً للحملة الفرنسية عند عودة نابليون إلى فرنسا وقمت بتوقيع اتفاقية العريش مع العثمانيين.
- ٣- اتجهت في غزواتي نحو المشرق العربي وفتحت بلاد الشام ١٥١٦م ومصر عام ١٥١٧م بعد الانتصار على المماليك.

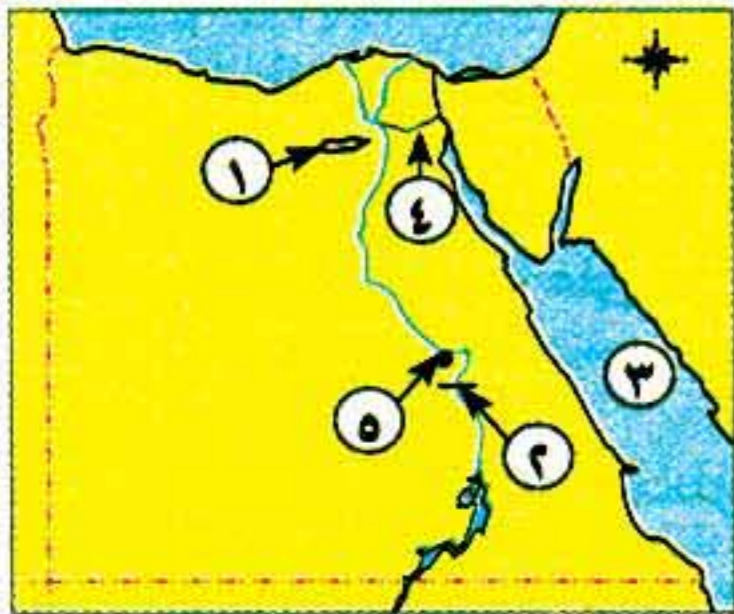
(ج) رتب الأحداث الآتية ترتيباً تصاعدياً:

(تولية محمد علي - الحملة الفرنسية - فتح القسطنطينية).

١٨ - محافظة أسوان - إدارة أسوان التعليمية

أولاً الجغرافيا

السؤال الأول: (أ) أمامك خريطة صماء لمصر، اكتب مدلول الأرقام الموقعة عليها:



- ١- منخفض
- ٢- قناطر
- ٣- البحر
- ٤- ترعة
- ٥- منطقة صناعية

(ب) ما النتائج المترتبة على...؟

- ١- تنوع البيئات المصرية.
- ٢- إلقاء المخلفات السائلة للمصانع في المجارى المائية.

(ج) عبر عن رأيك في المواقف التالية بكتابة كلمة (موافق - غير موافق):

- ١- البناء على الأراضي الزراعية. ٢- تفضيل الذكور على الإناث. ٣- احترام مواعيد العمل.

السؤال الثاني: (١) اكتب كلمة (صواب) أمام العبارة الصحيحة، وكلمة (خطأ) أمام العبارة غير الصحيحة:

- ١- توجد حدود فاصلة بين البيئات المصرية. ()
٢- يقل عدد السكان في الوجه القبلي عن الدلتا. ()
٣- يعد الكتان من محاصيل الحبوب الغذائية. ()
٤- تحتاج الصناعة الحديثة إلى عدد كبير من العمال. ()
٥- النقل والمواصلات من العوامل البشرية لقيام الصناعة. ()

(ب) اكتب ما تشير إليه العبارات الآتية:

- ١- أرض مستوية تتكون على جانبي النهر نتيجة الرواسب الطينية.
٢- بناء هندسي يشيد على الأنهار لتجنب أخطار الفيضانات.
٣- مناطق بنيت بدون تخطيط من الدولة عن طريق وضع اليد.
٤- إزالة الطبقة السطحية من التربة مما يؤدي إلى تدهورها.
٥- الإفراط وسوء استخدام الموارد الطبيعية بشكل يؤدي إلى نفاذها.

ثانياً التاريخ

السؤال الثالث: (١) اختر الإجابة الصحيحة مما بين الأقواس:

- ١- تولى المماليك حكم مصر عقب انهيار الدولة (العباسية - الأيوبية - الفاطمية - الأموية)
٢- أرسل السلطان سليم الأول أمهر الصناع والحرفيين المصريين إلى (الشام - الأستانة - قولة - السودان)
٣- قام محمد علي بنفي عمر مكرم نقيب الأشراف إلى مدينة (دمياط - رشيد - الإسكندرية - أسوان)
٤- تولى القيادة العامة لحملة الحجاز عام ١٨١١م باشا. (خسرو - إبراهيم - طوسون - سعيد)
٥- أرسل محمد علي البعثات التعليمية إلى الخارج وخاصة لدولة (إنجلترا - فرنسا - ألمانيا - روسيا)

(ب) إلى من تنسب الأعمال التاريخية التالية...؟

- ١- قاد المماليك في معركة الريدانية عام ١٥١٧م. ٢- تزعم حركة المقاومة ضد الفرنسيين في الإسكندرية.
٣- قام بقتل القائد الفرنسي كليبر. ٤- قاد الحملة الإنجليزية على مصر عام ١٨٠٧م.
٥- أقام إمبراطورية مصرية امتدت إلى مديرية خط الاستواء.

السؤال الرابع: (١) أكمل العبارات الآتية بما يناسبها من كلمات:

- ١- يعد الوالي نائباً للسلطان ومقره
٢- اعتمد العثمانيون في حكم الأقاليم على
٣- أبحرت الحملة الفرنسية إلى مصر من ميناء
٤- من النتائج العلمية للحملة الفرنسية تأليف كتاب
٥- اهتم محمد علي في سياسته الاقتصادية بتطبيق نظام

(ب) بم تفسر...؟

- ١- هزيمة القوات المملوكية أمام القوات العثمانية. ٢- تدهور الحياة الاقتصادية في مصر أثناء الحكم العثماني.
٣- فشل الحملة الفرنسية على الشام.

(ج) رتب الأحداث التاريخية التالية من القديم إلى الحديث:

- (مذبحة القلعة - فتح القسطنطينية - معاهدة لندن - ثورة القاهرة الثانية).

امتحانات بعض المدارس والإدارات للفصل الدراسي الأول لعام ٢٠١٩



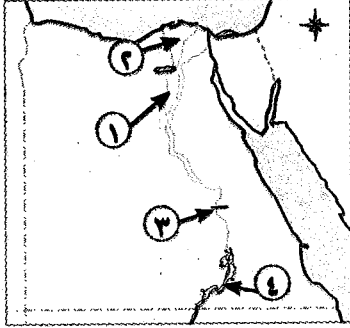
(مجاب عن بعضها ص ٢٥٤)

• تم تعديل هذه الامتحانات وفقاً لتعديلات الوزارة للعام الدراسي ٢٠١٩ / ٢٠٢٠

١- محافظة القاهرة - إدارة المرح التعليمية

(مجاب عنه ص ٢٥٤)

أولاً الجغرافيا



السؤال الأول: (١) أمامك خريطة صماء لمصر، اكتب مدلول الأرقام الموقعة عليها:

- ١- ترعة
- ٢- منطقة زراعية فيضية
- ٣- قناطر
- ٤- بحيرة

(ب) بهم تفسر...؟

١- ندرة النبات الطبيعي في البيئة الزراعية. ٢- أهمية وسائل النقل والمواصلات في الصناعة.

السؤال الثاني: (١) اكتب المصطلح المناسب لكل من:

- ١- زراعة الأرض وإنتاج المحاصيل وتربية الحيوان.
- ٢- يقصد بها الأفراد الذين في سن العمل ولا يعملون.
- ٣- قناة يتم حفرها عند منسوب أقل من منسوب الترع والأراضي لصرف المياه الزائدة عن حاجة التربة.

(ب) أكمل العبارات الآتية بكلمات مناسبة:

- ١- تعتمد الزراعة في على المياه الجوفية.
- ٢- توفر لنا البيئة الساحلية
- ٣- انتشار المناطق العشوائية يسهم في ارتفاع

(ج) اذكر المشكلات التي تواجه الصناعة في مصر.

ثانياً التاريخ

السؤال الثالث: (١) أكمل العبارات الآتية بكلمات مناسبة:

- ١- تنسب الدولة العثمانية إلى مؤسسها
- ٢- انطلقت ثورة القاهرة الثانية من حي
- ٣- من مهام الوالى إرسال المفروضة على البلاد.
- ٤- تدهورت الحالة الاقتصادية لدولة المماليك بعد اكتشاف طريق

(ب) رتب الأحداث التاريخية الآتية من القديم إلى الحديث:

(نهاية حكم محمد على - اتفاقية العريش - موقعة أبي قير البحرية - الحملة الفرنسية على مصر)

السؤال الرابع: (١) اختر الإجابة الصحيحة من بين الأقواس:

- ١- تولى القيادة العامة لحملة الحجاز عام ١٨١١م
- (محمد على - إبراهيم باشا - طوسون باشا - خورشيد باشا)
- ٢- أصبحت مصر ولاية عثمانية بعد معركة
- (إمبابة - الريدانية - شبراخيت - مرج دابق)
- ٣- فشل الفرنسيون في أثناء حملتهم على الشام في فتح
- (دمشق - عكا - بيروت - حمص)

(ب) ما النتائج المترتبة على...؟

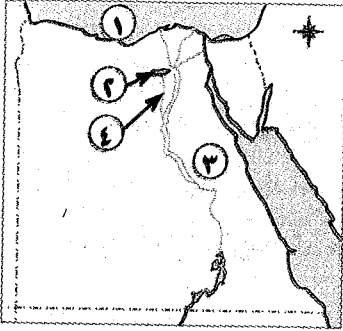
- ١- ثورة القاهرة الأولى.
- ٢- رغبة محمد على في الانفراد بحكم مصر.

٢- محافظة الجيزة - إدارة أكتوبر التعليمية

(مجاب عنه ص ٢٥٤)

أولا - الجغرافيا

السؤال الأول: (١) أمامك خريطة صماء لمصر اكتب مدلول الأرقام الموقعة عليها:



- ١- البحر
- ٢- منخفض
- ٣- الصحراء
- ٤- ترعة

(ب) اكتب ما تشير إليه العبارات الآتية:

- ١- المكان الذي نعيش فيه ويضم مظاهر طبيعية ومظاهر حضارية.
 - ٢- حاجز مائي بغرض رفع منسوب المياه لتوزيعها في الترع المتفرعة أمامها.
 - ٣- تحويل المادة الخام إلى سلع ومنتجات لسد احتياجات السكان.
 - ٤- يقصد بها طلب السكان المحليين المنتجات الصناعية.
- السؤال الثاني: (١) اكتب كلمة (صواب) أمام العبارة الصحيحة، وكلمة (خطأ) أمام العبارة غير الصحيحة:

- ١- تبدو الدلتا على شكل مثلث كبير. ()
- ٢- تقل نسبة الأمية في الريف مقارنة بالمدن. ()
- ٣- تصنف الصناعة على حسب تطورها لصناعة حرفية وبسيطة وحديثة. ()
- ٤- أهم المشكلات التي تواجه الصناعة هي التلوث البيئي. ()

(ب) بم تفسر...؟

- ١- تنوع البيئات المصرية.
- ٢- محافظة الفيوم منطقة جذب سياحي.
- ٣- إنشاء المناطق الصناعية بمصر.

السؤال الثالث: (١) اختر الإجابة الصحيحة من بين الأقواس:

- ١- الذى قام بفتح مدينة القسطنطينية (سليم الأول - عثمان بن أرطغرل - محمد الثانى - محمد على)
- ٢- أهم الأسباب المعلنة للحملة الفرنسية على مصر
- (تأديب المماليك - تهديد مصالح إنجلترا - إقامة مستعمرة فرنسية فى الشرق - تأييد المماليك)
- ٣- القائد الذى قام بمفاوضة العثمانيين فى اتفاقية العريش (كليبى - نابليون - مينو - نلسون)
- ٤- تم إنشاء ترسانة لصناعة السفن فى (القاهرة - الإسكندرية - دهايط - العريش)

(ب) لمن تنسب الأعمال الآتية...؟

- ١ - نائب السلطان العثمانى ومقره القلعة .
- ٢- قبض على زعماء الثورة وأعدم ستة أبرياء باستثناء الشيخ السادات .
- ٣- أنشأ المطبعة الأميرية ببولاق .
- ٤- أقام أول وأقدم إمبراطورية امتدت لمديرية خط الاستواء .

السؤال الرابع: (١) أكمل العبارات الآتية بكلمات مناسبة:

- ١- أصبحت مصر ولاية عثمانية بعد معركة
- ٢- أبحرت الحملة الفرنسية من ميناء
- ٣- قسم محمد على البلاد إلى
- ٤- تم عزل الخديو إسماعيل وتولية ابنه بدلاً منه .

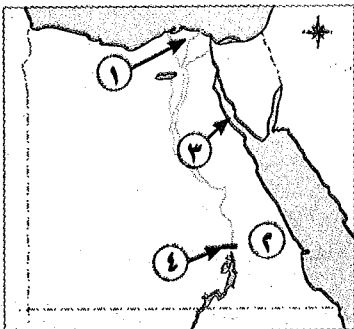
(ب) ما النتائج المترتبة على...؟

- ١- اكتشاف البرتغاليين رأس الرجاء الصالح .
- ٢- تخلص محمد على من المماليك فى مذبحه القلعة .
- ٣- توسعات محمد على الداخلية والخارجية .

٢- محافظة الإسكندرية - إدارة شرق التطيلية

(مجاب عنه ص ٢٥٥)

السؤال الأول: (١) أمامك خريطة صماء لمصر اكتب مدلول الأرقام الموقعة عليها:



- ١ - منطقة زراعية مروية
- ٢- الصحراء
- ٣- خليج
- ٤- السد

(ب) بهم تفسر...؟

١- حدوث التلوث البيئي في البيئة الزراعية.

٢- ازدحام المدن وانتشار المناطق العشوائية.

السؤال الثاني: (١) اكتب كلمة (صواب) أمام العبارة الصحيحة، وكلمة (خطأ) أمام العبارة غير الصحيحة:

- () ١- تتميز الأراضي الزراعية بمنخفض الفيوم باستواء سطحها.
- () ٢- تقوم الترع بصرف المياه الزائدة عن التربة.
- () ٣- يراعى عند إقامة المصانع أن تكون قريبة من المناطق السكنية.
- () ٤- مشاركة المرأة في العمل من خصائص سكان البيئة الصناعية.
- () ٥- يعد التهرب الجمركي من مشكلات الصناعة في مصر.

(ب) ما المقصود بالمفهومين الآتيين...؟

١- البطالة. ٢- تجريف التربة.

السؤال الثالث: (١) اختر الإجابة الصحيحة مما بين القوسين:

١- اكتشف طريق رأس الرجاء الصالح عام ١٤٩٨م.

(العثمانيون - الفرس - البرتغاليون - العرب)

٢- سيطرت الدولة العثمانية على بلاد الشام بعد معركة

(مرج دابق - الريدانية - إمبابة - شبراخيت)

٣- عقد كليبر مع العثمانيين اتفاقية يناير ١٨٠٠م.

(الجلاء - العريش - أوصلو - كامب ديفيد)

٤- أعطى امتياز حفر قناة السويس للمهندس الفرنسي ديليسبس ١٨٥٤م.

(إسماعيل باشا - سعيد باشا - عباس باشا - توفيق باشا)

(ب) ما النتائج المترتبة على...؟

١- هزيمة القوات الإنجليزية في رشيد والحماد.

٢- سياسة محمد علي الخارجية التوسعية.

السؤال الرابع: (١) صوب ما تحته خط:

١- أبحرت الحملة الفرنسية من ميناء طولون واستولت على جزيرة سيشل ومنها إلى كريت.

٢- من مظاهرها اهتمام محمد علي بالرى إنشاء مشروع قناطر إسنّا.

٣- أصدر محمد علي صحيفة المصرى اليوم.

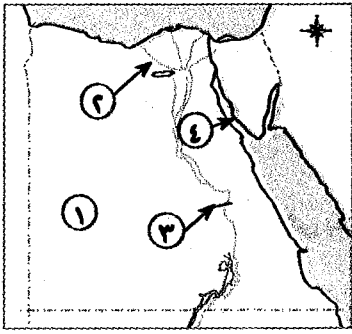
(ب) «كانت مصر قبل مجيء العثمانيين تحت حكم المماليك». فى ضوء هذه العبارة أجب:

١- اذكر أسباب ازدهار دولة المماليك.

٢- لماذا اعتمد العثمانيون فى حكم الأقاليم على المماليك؟

٤- محافظة القليوبية - إدارة الخانكة التعليمية

أولاً الجغرافيا



السؤال الأول: (١) أمامك خريطة صماء لمصر، اكتب مدلول الأرقام الموقعة عليها:

- ١- الصحراء
- ٢- ترعة غرب الدلتا
- ٣- قناطر
- ٤- خليج

(ب) صوّب ما تحته خط:

- ١- توجد الزراعة المروية بمياه النيل في الوادي والدلتا ومنخفض القطارة.
- ٢- لا توجد الزراعة في الأطراف الشمالية للدلتا بسبب ارتفاع الأمواج.
- ٣- من مناطق النشاط السياحي في البيئة الزراعية الفيوم وبها بحيرة ناصر.
- ٤- من العوامل الطبيعية لقيام الصناعة رأس المال.

(ج) بم تفسر...؟

- ١- تنوع البيئات المصرية.
- ٢- إنشاء الدولة للمناطق الصناعية.

السؤال الثاني: (١) اكتب المصطلح العلمى لكل مما يأتى:

- ١- قناة مائية تم حفرها لتوصيل المياه من النيل لرى الأراضى الزراعية.
- ٢- الأفراد الذين فى سن العمل ولا يعملون.
- ٣- استخدام الإنسان للموارد المتاحة لسد احتياجاته.
- ٤- صناعة تعتمد على العمل اليدوى وتحتاج لرأس مال قليل.
- ٥- الإفراط وسوء استخدام الموارد الطبيعية بشكل يؤدي إلى نفاذها.

(ب) «تعانى البيئة الصناعية فى مصر من العديد من المشكلات» فى ضوء هذه العبارة أجب:

- ١- ما أهم المشكلات فى البيئة الصناعية فى مصر؟
- ٢- ما جهود الدولة لحل مشكلات البيئة الصناعية؟

ثانياً التاريخ

السؤال الثالث: (١) اكتب كلمة (صواب) أمام العبارة الصحيحة، وكلمة (خطأ) أمام العبارة غير الصحيحة:

- ١- تم فتح القسطنطينية على يد محمد الثانى (الفتاح). ()
- ٢- أصبحت مصر ولاية عثمانية بعد معركة مرج دابق. ()
- ٣- يشرف الوالى على تنفيذ القرارات الصادرة من السلطان العثمانى. ()
- ٤- ازدهرت أحوال مصر الاقتصادية والعلمية فى ظل الحكم العثمانى. ()
- ٥- تحطم الأسطول الفرنسى فى موقعة أبى قير البحرية. ()

(ب) ما النتائج المترتبة على...؟

١- ترحيل السلطان سليم الأول الصانع المهرة إلى الأستانة.

٢- الحملة الفرنسية على مصر (العلمية والثقافية فقط).

السؤال الرابع: (١) تخير الإجابة الصحيحة مما بين القوسين:

١- أقام الخديو إمبراطورية مصرية امتدت لمديرية خط الاستواء.

(توفيق - إسماعيل - سعيد - إبراهيم)

٢- طمع الإنجليز في بسط نفوذهم على مصر لتأمين مستعمراتهم في

(سوريا - لبنان - الهند - مصر)

٣- أبحرت الحملة الفرنسية من ميناء

(السويس - العقبة - طولون - الإسكندرية)

٤- اجتمع زعماء الشعب والعلماء في دار المحكمة وقرروا عزل

(محمد علي - خورشيد باشا - طوسون - توفيق)

(ب) برهن على صحة العبارتين الآتيتين:

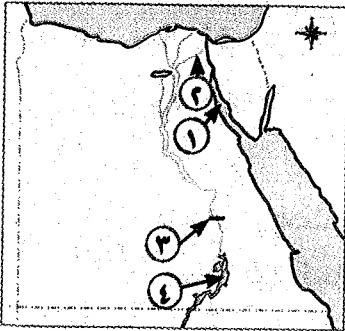
١- اهتمام محمد علي بمشروعات الري.

٢- فشل الحملة الفرنسية في فتح عكا.

٥- محافظة الغربية - إدارة كثر الزيات التعليمية

أولا < الصغرافيا

السؤال الأول: (١) أمامك خريطة لمصر، اكتب مدلول الأرقام الموقعة عليها:



١ - خليج

٢- ترعة

٣- قنطرة

٤- بحيرة

(ب) ما النتائج المترتبة على...؟

١- كثافة النشاط الزراعي في البيئة الزراعية.

٢- انفتاح الدولة على العالم الخارجي.

(ج) ما العلاقة بين...؟

- الهجرة والبطالة.

السؤال الثاني: (١) اكتب كلمة (صواب) أمام العبارة الصحيحة، وكلمة (خطأ) أمام العبارة غير الصحيحة:

()

١- تعتمد الصناعة في مناطق الزراعة الفيضية على مياه الأمطار.

()

٢- من المشكلات التي يعاني منها سكان البيئة الصناعية نقص الكوادر الفنية.

()

٣- تتنوع الصناعات الحرفية فى البيئة الزراعية بسبب تنوع الموارد الطبيعية.

()

٤- صناعة حلج الأقطان من الصناعات الحرفية.

(ب) اكتب ما تشير إليه عبارتتان الآتيتان:

١- صناعات تعتمد على الآلات الحديثة ويقل الاعتماد فيها على الأيدى العاملة.

٢- حاجز مائى أنشئ بغرض رفع منسوب المياه لتوزيعها فى الترع المتفرعة أمامها.

(ج) ماذا يحدث إذا...؟

- لم تتنوع البيئات المصرية.

ثانياً التاريخ

السؤال الثالث: (١) اختر الإجابة الصحيحة مما بين الأقواس:

١- فتحت القسطنطينية فى عهد السلطان

(سليمان القانونى - محمد الثانى - طومان باى - بايزيد الثانى)

٢- فشلت الحملة الفرنسية على الشام فى فتح مدينة

(العريش - حيفا - يافا - عكا)

٣- تخلص محمد على من الزعامة الشعبية بنفى عمر مكرم إلى

(دمياط - الصعيد - القاهرة - الإسكندرية)

٤- نجح فى إقامة إمبراطورية مصرية امتدت إلى مديرية خط الاستواء

(سعيد - عباس - إبراهيم - إسماعيل)

(ب) بهم تفسر...؟

١- الصدام بين محمد على والدول الأوروبية.

٢- اختيار المماليك لحكم الأقاليم أثناء الحكم العثمانى لمصر.

(ج) ما رأيك فى...؟

- أحوال مصر الداخلية أثناء حكم محمد على .

السؤال الرابع: (١) صوب ما تحته خط فى العبارات الآتية:

١- أبحرت الحملة الفرنسية من ميناء طولون بشمال فرنسا.

٢- اندلعت ثورة القاهرة الثانية بسبب الإجراءات التى اتخذها مينو.

٣- سيطر العثمانيون على بلاد الشام بعد هزيمة المماليك عند الريدانية.

٤- الحامية العثمانية فرق عسكرية من مهامها الدفاع عن الحاكم.

(ب) برهن على صحة العبارتين الآتيتين:

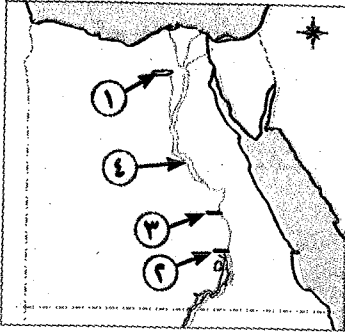
١- انتصرت الإرادة الشعبية المصرية انتصاراً رائعاً عام ١٨٠٥م.

٢- تسبب السلطان سليم الأول فى تدهور الحياة الفنية فى مصر.

٦- محافظة الدقهلية - إدارة طاحا التعليمية

أولا الجغرافيا

السؤال الأول: (١) أمامك خريطة لمصر، اكتب ما تشير إليه الأرقام الموضحة عليها:



- ١- منخفض
- ٢- السد
- ٣- قناطر
- ٤- منطقة زراعة مروية

(ب) أكمل ما يأتي:

- ١- تهدف الدولة من إنشاء المناطق الصناعية إلى
- ٢- من المشكلات المرتبطة باستخدام موارد البيئة الزراعية

(ج) ما المقصود بالمفاهيم الآتية...؟

- ١- السهل الفيضي.
- ٢- الاستنزاف.

السؤال الثاني: (١) ضع علامة (صواب) أمام العبارة الصحيحة، وعلامة (خطأ) أمام العبارة غير الصحيحة مع التصويب:

- ١- الدلتا تبدو في شكل مثلث رأسه شمال مدينة الإسكندرية. ()
- ٢- رأس المال من العوامل الطبيعية لقيام الصناعة. ()
- ٣- محافظة بورسعيد من محافظات دلتا نهر النيل. ()
- ٤- الانفتاح على العالم الخارجي يشجع على الاستثمار في المجال الصناعي. ()
- ٥- تنوع الثروات الطبيعية والإنتاج الاقتصادي نتيجة لتنوع البيئات المصرية. ()

(ب) بهم تفسر...؟

- ١- تستخدم السواقي لرى أراضى منخفض الفيوم.
- ٢- أهمية البيئة الصناعية للبيئة الزراعية.

ثانيا التاريخ

السؤال الثالث: (١) اختر الإجابة الصحيحة مما بين القوسين:

- ١- عقدت اتفاقية العريش بين كل من كليبرو..... (العثمانيين - الإنجليز - المماليك - الفرنسيين)
- ٢- خرجت الحملة الفرنسية من مصر عام ١٨٠١م بقيادة..... (كليبر - مينو - نلسون - نابليون)
- ٣- أصدر السلطان العثماني فرماناً بضم حكم..... لمحمد على عام ١٨٤١م. (السودان - الحجاز - اليونان - الشام)
- ٤- أعطى..... باشا امتياز حفر قناة السويس للمهندس ديليسبس. (عباس - سعيد - إسماعيل - إبراهيم)

(ب) ما النتائج المترتبة على...؟

- ١- الحملة الفرنسية من الناحية السياسية.
- ٢- تشجيع عمر مكرم المصريين على مواجهة حملة فريزر ١٨٠٧م.
- (ج) رتب الأحداث الآتية من القديم إلى الحديث:
حملة نابليون على الشام - مقتل كليبر - دخول العثمانيين القاهرة - فرار المماليك إلى السودان.

السؤال الرابع: (١) إلى من تنسب الأعمال الآتية...؟

- ١- قيادة مقاومة الحملة الفرنسية بالإسكندرية ١٧٩٨م.
- ٢- تولى قيادة الحملة التي أرسلها محمد على إلى بلاد الحجاز.
- ٣- الإشراف على تنفيذ القرارات الصادرة من السلطان العثماني.
- (ب) صوب ما تحته خط:

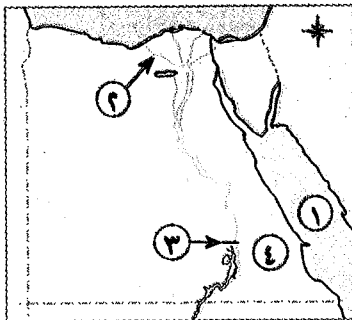
- ١- أنشأ محمد على ترسانة لصناعة السفن بالقاهرة.
- ٢- اندلعت ثورة القاهرة الثانية من الأزهر الشريف.
- (ج) قارن بين كل من:

- موقعة أبي قير البحرية وأبي قير البرية من حيث نتائج كل منهما.

٧- محافظة كفر الشيخ - إدارة الرياض التعليمية

أولاً الجغرافيا

السؤال الأول: (١) أكمل نقاط الخريطة التالية:



- ١ - البحر
- ٢ - ترعة غرب الدلتا
- ٣ - السد
- ٤ - الصحراء

(ب) بهم تفسر...؟

- ١- تناقص مساحة الأراضي الزراعية.
- ٢- إنشاء الدولة المناطق الصناعية.

السؤال الثاني: (١) اكتب كلمة (صواب) أمام العبارة الصحيحة، وكلمة (خطأ) أمام العبارة غير الصحيحة فيما يلي:

- ١- تعتمد الزراعة في الساحل الشمالي على مياه نهر النيل. ()
- ٢- تظهر الأراضي الزراعية في منخفض الفيوم على شكل مدرجات. ()
- ٣- الانفتاح على العالم الخارجى يشجع على الاستثمار فى المجال الصناعى. ()
- ٤- ترتفع نسبة الأمية بين سكان البيئة الصناعية. ()

(ب) ما المقصود بكل من...؟

- ١- القناطر.
- ٢- العشوائيات.

السؤال الثالث: (١) أكمل العبارات الآتية بكلمات مناسبة:

- ١- أصبحت القسطنطينية عاصمة الدولة العثمانية في عهد السلطان
- ٢- أصبحت مصر ولاية عثمانية بعد معركة
- ٣- فشلت الحملة الفرنسية على الشام بسبب فشلها في دخول مدينة
- ٤- تخلص محمد علي من السيد عمر مكرم بنفيه إلى مدينة

(ب) ما النتائج المترتبة على...؟

- ١- معركة مرج دابق عام ١٥١٦م.
- ٢- سياسة محمد علي التوسعية.

السؤال الرابع: (١) إلى من تنسب الأعمال التالية...؟

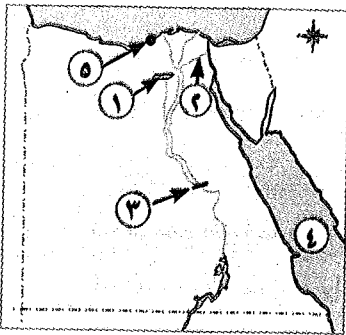
- ١- تزعم مقاومة أهل الإسكندرية ضد الحملة الفرنسية.
- ٢- دمر حى بولاق بالمدافع وفرض الضرائب والإتاوات.
- ٣- تولى حكم مصر عام ١٨٠٥م.
- ٤- أقام إمبراطورية مصرية امتدت إلى مديريةية خط الاستواء.

(ب) ماذا كان يحدث إذا...؟

- ١- لم يكتشف البرتغاليون طريق رأس الرجاء الصالح.
- ٢- وافقت إنجلترا على اتفاقية العريش يناير ١٨٠٠م.

٨- محافظة البحيرة - إدارة ابو حمص التعليمية

السؤال الأول: (١) أمامك خريطة لمصر، اكتب ما تشير إليه الأرقام الموضحة عليها:



- ١- منخفض
- ٢- ترعة
- ٣- قناطر
- ٤- البحر
- ٥- مدينة

(ب) بهم تفسر...؟

- ١- أهمية البيئة الصناعية في مصر.
- ٢- تلوث الهواء بالبيئة الصناعية.
- ٣- تهجير سكان النوبة بعد بناء السد العالي.

السؤال الثاني: (أ) اكتب ما تشير إليه كل عبارة من العبارات الآتية:

- ١- الإفراط وسوء استخدام الموارد الطبيعية بشكل يؤدي إلى نفاذها.
- ٢- إزالة الطبقة السطحية من التربة مما يؤدي إلى تدهورها.
- ٣- صناعات يتم فيها تحويل المواد الخام إلى صورة أخرى لتقليل حجمها ووزنها.
- ٤- الأفراد الذين في سن العمل ولا يعملون.

(ب) ما النتائج المترتبة على...؟

- ١- تنوع البيئات المصرية.
- ٢- استخدام مصادر الطاقة النظيفة في الصناعة.
- ٣- وفرة وسائل النقل والمواصلات للصناعة.

ثانياً التاريخ

السؤال الثالث: (أ) اكتب كلمة (صواب) أمام العبارة الصحيحة، وكلمة (خطأ) أمام العبارة غير الصحيحة:

- ١- كان من مهام الوالى الإشراف على تنفيذ القرارات الصادرة من السلطان العثماني. ()
- ٢- احترم نابليون حرمة ومكانة الجامع الأزهر أثناء الحملة الفرنسية على مصر. ()
- ٣- تخلص محمد على من الزعامة الشعبية في مذبحه القلعة في مارس ١٨١١م. ()
- ٤- اهتم محمد على بمشروعات الري فشق الترع والقنوات كترعة المحمودية. ()
- ٥- نجح إبراهيم باشا في إقامة إمبراطورية مصرية امتدت إلى مديرية خط الاستواء. ()

(ب) إلى من تنسب الأعمال الآتية...؟

- ١- قائد القوات المملوكة في معركة الريدانية ضد العثمانيين.
- ٢- حاكم الإسكندرية الذى قاوم الحملة الفرنسية عام ١٧٩٨م.
- ٣- شاب سورى تمكن من قتل كليبر قائد الحملة الفرنسية في يونيو ١٨٠٠م.

السؤال الرابع: (أ) اختر الإجابة الصحيحة مما بين القوسين:

- ١- اتخذ مدينة القسطنطينية عاصمة لدولتهم عام ١٤٥٣م. (الأيوبيون - المماليك - العثمانيون - الفرنسيون)
- ٢- فشلت الحملة الفرنسية على الشام بسبب عدم قدرتها على فتح (عكا - يافا - سوريا - العريش)
- ٣- تولى محمد على حكم مصر عام ١٨٠٥م بعد عزل الوالى (عباس - إسماعيل - خورشيد - توفيق)
- ٤- أرسل محمد على البعثات التعليمية إلى دولة (إنجلترا - فرنسا - تركيا - الحجاز)

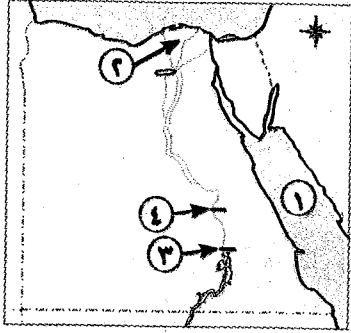
(ب) ماذا يحدث إذا لم...؟

- ١- يكتشف البرتغاليون طريق رأس الرجاء الصالح عام ١٤٩٨م.
- ٢- يهمل العثمانيون العلوم العقلية مثل الرياضيات والطبيعة.
- ٣- يتحطم الأسطول الفرنسى فى موقعة أبى قير البحرية عام ١٧٩٨م.

٩- محافظة دمياط - ادارة السرو التعليمية

اولا الجغرافيا

السؤال الأول: (١) أمامك خريطة لمصر، اكتب ما تدل عليه الأرقام:



- ١- البحر.....
- ٢- من مناطق الزراعة المروية.....
- ٣- السد.....
- ٤- قناتر.....

(ب) اكتب سببا واحدا لكل مما يأتي:

- ١- تنوع البيئات المصرية.
- ٢- يقل عدد سكان الوجه القبلى عن الدلتا.
- ٣- ازدحام المدن وانتشار المناطق العشوائية فى البيئة الصناعية.
- ٤- الإكثار من المساحات الخضراء فى البيئة الصناعية.

السؤال الثانى: (١) اكتب كلمة (صواب) أمام العبارة الصحيحة، وكلمة (خطأ) أمام العبارة غير الصحيحة مما يأتي:

- ١- استقر المصريون القدماء على ضفتى النيل وعلى أراضي الدلتا. ()
- ٢- تقوم الزراعة فى الساحل الشمالى على مياه نهر النيل. ()
- ٣- من خصائص سكان البيئة الصناعية ارتفاع نسبة الأمية. ()
- ٤- تهدف الدولة من إنشاء المناطق الصناعية زيادة الدخل القومى. ()

(ب) اكتب المفهوم العلمى أو المصطلح الجغرافى الدال على كل عبارة من العبارات التالية:

- ١- حاجز مائى بغرض رفع منسوب المياه لتوزيعها فى الترع المتفرعة أمامها.
- ٢- يقصد بها الأفراد الذين فى سن العمل ولا يعملون.
- ٣- إزالة الطبقة السطحية من التربة مما يؤدى إلى تدهور إنتاجها.
- ٤- الإفراط وسوء استخدام الموارد الطبيعية بشكل يؤدى إلى نفادها.

ثانيا التاريخ

السؤال الثالث: (١) صوب الكلمات التى فوق الخط مما يأتي:

- ١- كانت مصر قبل مجئ العثمانيين تحت حكم البرتغاليين.
- ٢- الوالى أو الباشا هو نائب السلطان ومقره القاهرة.
- ٣- أبحرت الحملة الفرنسية من ميناء طولون بجنوب إنجلترا.
- ٤- تولى طوسون باشا القيادة العامة لحملة الشام.

(ب) انسب كل عمل من الأعمال التالية إلى صاحبه:

- ١- قام بترحيل أمهر الصناعات المصريين إلى الآستانة.
- ٢- عاد سراً إلى فرنسا بعد أن عين قائداً للحملة في مصر.
- ٣- أنشأ قصر الجوهرة.

السؤال الرابع: (١) اختر الإجابات الصحيحة مما بين القوسين:

- ١- لفتت الحملة الفرنسية أنظار العالم الغربي لمصر وموقعها الجغرافي من النتائج
(الحربية - السياسية - العلمية - الثقافية)
- ٢- أرسلت إنجلترا حملة إلى مصر في مارس ١٨٠٧م بقيادة
(فريزر - نلسون - كليبر - مينو)
- ٣- اهتم (محمد علي) بتنظيم الإدارة فقسم البلاد إلى
(٥ مديريات - ٦ مديريات - ٧ مديريات - ٨ مديريات)
- ٤- تولى حكم مصر بعد عزل إسماعيل باشا ابنه
(عباس - سعيد - إبراهيم - توفيق)

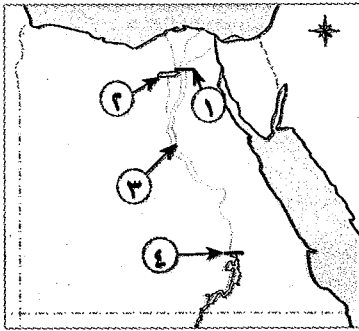
(ب) «اتجه الزحف العثماني نحو مصر، وفي صحراء العباسية دارت معركة فاصلة بين العثمانيين والمماليك في عام ١٥١٧م، وهزمت فيها القوات المملوكية». في ضوء العبارة السابقة أجب عن الأسئلة التالية:

- ١- لماذا اتجه الزحف العثماني نحو مصر؟
- ٢- ما اسم المعركة التي دارت بين العثمانيين والمماليك في صحراء العباسية؟
- ٣- اكتب نتيجة واحدة ترتبت على هزيمة المماليك في هذه المعركة.

١٠ محافظة الشرقية - إدارة العاشر من رمضان التعليمية

(مجاب عنه ص ٢٥٥)

أولا الصحراوية



السؤال الأول: (١) أمامك خريطة صماء لمصر، اكتب مدلول الأرقام عليها:

- ١- القناطر.....
- ٢- منخفض.....
- ٣- ترعة.....
- ٤- السد.....

(ب) بهم تفسر...؟

- ١- ندرة النباتات الطبيعية في البيئة الزراعية.
- ٢- إنشاء الدولة وزارة البيئة.

السؤال الثاني: (١) اختر الإجابة الصحيحة مما بين الأقواس:

- ١- من العوامل البشرية الهامة لقيام الصناعة
(المواد الخام - الظروف المناخية - السوق - مصادر الطاقة)
- ٢- تقوم الزراعة في الواحات اعتماداً على مياه
(النيل - الأمطار - الآبار والعيون - الري)
- ٣- من العادات السلبية في البيئة الزراعية
(التعاون - احترام الكبير - التزاور فيما بينهم - زيادة الإنجاب)
- ٤- من الصناعات البسيطة صناعة
(حفر الخشب - حلج القطن - الفخار - الآلات)

(ب) اكتب ما تشير إليه كل عبارة:

- ١- النبات الذي ينمو تلقائياً دون تدخل الإنسان.
- ٢- تحويل المواد الخام إلى سلع ومنتجات لسد حاجات السكان.
- ٣- انتقال الأفراد من مكان إلى مكان داخل حدود الدولة.

ثانياً التاريخ

السؤال الثالث: (١) إلى من تنسب الأعمال الآتية...؟

- ١- تولى قيادة الحملة الفرنسية في مصر بعد مقتل كليبر.
- ٢- كان حاكماً للإسكندرية وقاد أهلها في مقاومة الحملة الفرنسية على مصر.
- ٣- دبر مذبحه القلعة للتخلص من المماليك.
- ٤- فتح القسطنطينية عاصمة الدولة البيزنطية ١٤٥٣م.

(ب) أكمل العبارات الآتية:

- ١- نفى (محمد على) السيد عمر مكرم إلى
- ٢- أصبحت مصر ولاية عثمانية بعد هزيمة المماليك في موقعة
- ٣- أعدم نابليون ستة من زعماء ثورة القاهرة الأولى باستثناء
- ٤- قام بترحيل أمهر الصناع والحرفيين إلى الأستانة السلطان

السؤال الرابع: (١) اكتب كلمة (صواب) أمام العبارة الصحيحة، وكلمة (خطأ) أمام العبارة غير الصحيحة:

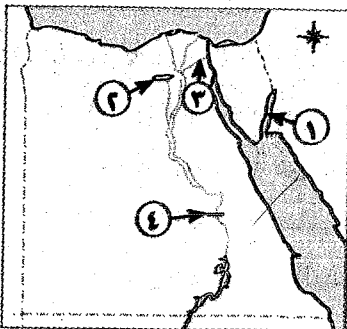
- ١- قام السلطان سليم الأول بترحيل أمهر الصناع والحرفيين إلى الأستانة. ()
- ٢- كان نظام الحكم العثماني لمصر عادلاً. ()
- ٣- نجح الفرنسيون في احتلال مدينة الإسكندرية ١٧٩٨م بعد مقاومة حاكمها السيد عمر مكرم. ()
- ٤- تولى مينو قيادة الحملة بعد مقتل كليبر. ()
- ٥- قام (محمد على) بنفى (عمر مكرم) إلى خارج مصر. ()

(ب) ما النتائج المترتبة على...؟ - موقعة أبي قير البحرية أغسطس ١٧٩٨م.

١١- محافظة الإسمايلية - توجيه الدراسات الاجتماعية

أولاً الجغرافيا

السؤال الأول: (١) أمامك خريطة صماء لمصر اكتب مدلول الأرقام عليها:



- ١- خليج
- ٢- منخفض
- ٣- ترعة
- ٤- قناة

(ب) اكتب ما تشير إليه العبارات التالية:

- ١- قناة يتم حفرها لتوصيل المياه من نهر النيل لرى الأراضى الزراعية.
- ٢- انتقال الأفراد من مكان لآخر داخل الدولة أو خارجها.
- ٣- إزالة الطبقة السطحية من التربة مما يؤدي إلى تدهور إنتاجها.

السؤال الثانى: (١) أكمل العبارات الآتية بكلمات مناسبة:

- ١- تعتمد الزراعة فى الساحل الشمالى على مياه
- ٢- تتميز البيئة الزراعية فى الوادى والدلتا باستواء
- ٣- يتصل منخفض الفيوم بنهر النيل عن طريق
- ٤- تزداد نسبة الأمية فى مقارنة بالمدن.

(ب) بهم تفسر...؟

- ١- تنوع البيئات المصرية.
- ٢- أهمية النقل والمواصلات فى الصناعة.

ثالثا التاريخ

السؤال الثالث: (١) اختر الإجابة الصحيحة مما بين الأقواس:

- ١- تم فتح القسطنطينية فى عهد السلطان
- (سليم الأول - محمد الفاتح - يزيد الثانى - طومان باى)
- ٢- تولى المماليك حكم البلاد عقب انهيار الدولة
- (الفاطمية - الأيوبية - العباسية - الأموية)
- ٣- وصلت الحملة الفرنسية يوليو ١٧٩٨م إلى ميناء
- (دمياط - الإسكندرية - رشيد - بورسعيد)
- ٤- اجتمع زعماء الشعب والعلماء وقرروا عزل
- (محمد على - خورشيد باشا - إبراهيم باشا - طوسون باشا)

(ب) ما النتائج المترتبة على...؟

- ١- اكتشاف طريق رأس الرجاء الصالح عام ١٤٩٨م.
- ٢- سياسة محمد على الخارجية التوسعية.

السؤال الرابع: (١) أكتب كلمة (صواب) أمام العبارات الصحيحة، وكلمة (خطأ) أمام غير الصحيحة:

- ١- قام السلطان العثمانى بترحيل أمهر الصنائع والحرفيين إلى الآستانة. ()
- ٢- نجح الفرنسيون فى احتلال الإسكندرية بعد مقاومة حاكمها السيد عمر مكرم. ()
- ٣- تولى الجنرال مينو قيادة الحملة بعد مقتل كليبر. ()
- ٤- أصبحت مدينة الإسكندرية مقر الحكومة المركزية فى عصر (محمد على). ()

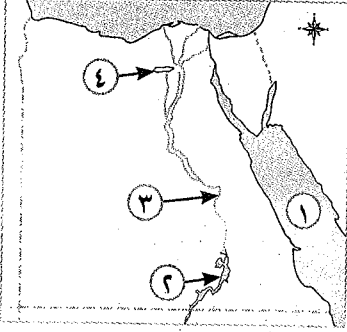
(ب) «وصلت رسالة من القائد كليبر بالإسكندرية إلى قائد الحملة الفرنسية بمصر نابليون بونابرت تفيد بتحطيم الأسطول الفرنسى على يد الأسطول الإنجليزى بقيادة نلسون»، فى ضوء هذه العبارة أجب:

- ١- اذكر اسم الموقعة.
- ٢- النتائج التى ترتبت على الموقعة.

١٢- محافظة السويس - إدارة جنوب السويس التعليمية

أولاً الجغرافيا

السؤال الأول: (١) أمامك خريطة صماء لمصر اكتب مدلول الأرقام عليها:



- ١- البحر.....
٢- بحيرة.....
٣- وادى.....
٤- منخفض.....

(ب) اختر الإجابة الصحيحة من بين الأقواس:

- ١- قناة يتم حفرها عند منسوب أقل من منسوب الترع والأرض الزراعية
(الترعة - المصرف - القناطر - السد)
٢- تعد صناعة العطور من الصناعات
(الكيميائية - الكهربائية - المعدنية - الغذائية)

(ج) اكتب المصطلح الذى تشير إليه العبارات الآتية:

- ١- انتقال الأفراد من مكان إلى مكان داخل أو خارج حدود الدولة.
٢- صناعة لتقليل حجم ووزن المواد الخام وتحتاج لعدد كبير من العمال.

السؤال الثانى: (١) اكتب كلمة (صواب) أمام العبارة الصحيحة، وكلمة (خطأ) أمام العبارة غير الصحيحة:

- ١- الزواج المبكر من العادات الإيجابية لسكان البيئة الزراعية. ()
٢- يعتمد نشاط صيد الأسماك فى البيئة الزراعية على نهر النيل والترع. ()
٣- الانفتاح على العالم الخارجى يشجع على الاستثمار فى مجال الصناعة. ()
٤- السوق من العوامل الطبيعية لقيام الصناعة.
٥- الاستنزاف يعنى تقليل الاستهلاك والاستخدام الأمثل للموارد.

(ب) بهم تفسر...؟

- ١- قلة عدد السكان فى وادى النيل عن الدلتا.
٢- الاهتمام بالتعليم الفنى والصناعى.

ثانياً التاريخ

السؤال الثالث: (١) أكمل العبارات التالية بكلمات مناسبة:

- ١- اقتصر التعليم فى مصر أثناء الحكم العثمانى على حفظ ودروس الفقه والتشريع.
٢- كان يدعو الديوان للانعقاد فى الولايات العثمانية.

٣- من الأسباب المعلنة للحملة الفرنسية تأديب

٤- قسم محمد على البلاد إلى مديريات.

(ب) صوب ما تحت خط من الكلمات:

١- تولى المماليك حكم مصر عقب انهيار الدولة الفاطمية.

٢- نفى محمد على عمر مكرم خارج البلاد.

(ج) ما النتائج المترتبة على...؟

١- اكتشاف طريق رأس الرجاء الصالح.

٢- سياسة محمد على الخارجية والتوسعية.

السؤال الرابع: (١) اختر الإجابة الصحيحة مما بين القوسين:

١- هزمت الجيوش المملوكية ١٥١٧م عند (الريدانية - مرج دابق - جالديران - ديوالبحرية)

٢- قاد الحملة الفرنسية على مصر (مينو - نابليون بوناپرت - كليبر - نلسون)

٣- اجتمع زعماء الشعب في دار المحكمة وقرروا عزل

(محمد على - خورشيد باشا - إبراهيم باشا - طوسون باشا)

٤- وصلت الحملة الفرنسية ميناء في يوليو ١٧٨٩م. (دمياط - الإسكندرية - رشيد - بورسعيد)

(ب) لمن تنسب الأعمال الآتية...؟

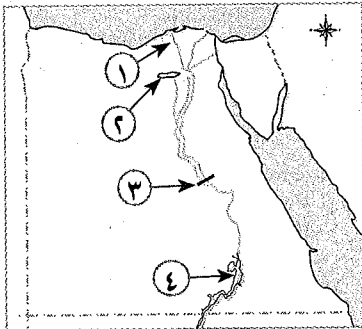
١- قام بترحيل أمهر الصناع والحرفيين من مصر إلى الأستانة.

٢- تولى قيادة الحملة الفرنسية في مصر بعد مقتل كليبر.

٣- تخلص من المماليك في مذبحه القلعة.

١٢- محافظة الدقى الجديد - إدارة الداخلية التعليمية

اولاً الجغرافيا



السؤال الأول: (١) أمامك خريطة صماء لمصر، اكتب مدلول الأرقام عليها:

١- فرع

٢- منطقة بيئة زراعية

٣- قناطر

٤- بحيرة

(ب) بهم تفسر...؟

١- تنوع البيئات المصرية.

٢- اهتمام الدولة بإنشاء المناطق الصناعية.

السؤال الثاني : (أ) اكتب كلمة (صواب) أمام العبارة الصحيحة وكلمة (خطأ) أمام العبارة غير الصحيحة مع تصويب الخطأ:

- ١- من الخصائص الاقتصادية لسكان البيئة الزراعية ارتفاع مستوى دخل الفرد. ()
- ٢- يمكن أن نجد البيئة الزراعية داخل البيئة الصحراوية. ()
- ٣- تم تهجير سكان النوبة بعد بناء السد العالي. ()
- ٤- تتنوع الصناعات بتنوع المواد الخام. ()
- ٥- الاستنزاف يعنى تقليل الاستهلاك والاستخدام الأمثل للموارد. ()

(ب) ما النتائج المترتبة على...؟

- ١- الهجرة من الريف إلى المدن.
- ٢- الإكثار من المساحات الخضراء في البيئة الصناعية.

ثانياً التاريخ

السؤال الثالث : (أ) اختر الإجابة الصحيحة مما بين الأقواس:

- ١- هزمت الجيوش المملوكية بقيادة السلطان عند الريدانية.
(طومان باى - قنصوه الغورى - سليم الأول - محمد الفاتح)
- ٢- تولى المماليك حكم البلاد بعد انهيار الدولة
(العباسية - الأموية - الفاطمية - الأيوبية)
- ٣- وصلت الحملة الفرنسية ميناء فى يوليو عام ١٧٩٨م. (دمياط - الإسكندرية - رشيد - بورسعيد)
- ٤- تحطم الأسطول الفرنسى فى موقعة
(ديو البحرية - أبى قير البحرية - طولون باى - عكا)
- ٥- اجتمع زعماء الشعب والعلماء فى دار المحكمة وقرروا عزل
(محمد على - خورشيد باشا - إبراهيم باشا - طوسون باشا)

(ب) ماذا كان يحدث إذا...؟

- ١- اهتمت الدولة العثمانية بالعلوم العقلية والطبيعية.
- ٢- تخاذلت الزعامة الشعبية عن تأييدها لمحمد على.

السؤال الرابع : (أ) أكمل العبارات الآتية بكلمات مناسبة:

- ١- اتجه السلطان العثمانى فى غزواته نحو المشرق العربى.
- ٢- من الأسباب المعلنة للحملة الفرنسية
- ٣- اتخذ المصريون من مركزاً للمقاومة أثناء ثورة القاهرة الأولى.
- ٤- تخلص محمد على من المماليك فى عام ١٨١١م.

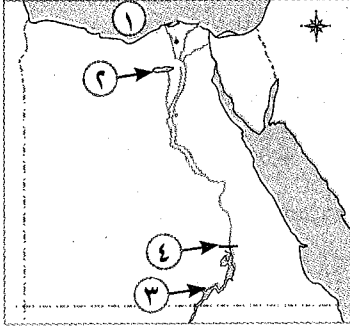
(ب) اذكر سبباً واحداً لكل من:

- ١- قيام ثورة القاهرة الثانية.
- ٢- تدهور الحياة الفنية أثناء الحكم العثمانى لمصر.
- ٣- نفى محمد على للسيد عمر مكرم.

١٤- محافظة مطروح - ادارة مطروح التعليمية

اولا < المصغرا ميا

السؤال الأول: (١) أمامك خريطة صماء لمصر اكتب مدلول الأرقام عليها:



- ١- البحر
- ٢- منخفض
- ٣- بحيرة
- ٤- السد

(ب) بم تفسر...؟

١- تندرالنباتات الطبيعية فى البيئة الزراعية .

٢- تعد وسائل النقل والمواصلات من العوامل المهمة فى الصناعة .

السؤال الثانى: (١) اكتب كلمة (صواب) أمام العبارة الصحيحة، وكلمة (خطأ) أمام العبارة غير الصحيحة:

- ١- تم شق ترعة الإسماعيلية لخدمة الأراضى الزراعية فى غرب الدلتا . ()
- ٢- تعد صناعة الفخار والأثاث من الصناعات الحرفية فى البيئة الزراعية . ()
- ٣- من جهود الدولة لحل مشكلات البيئة الزراعية استخدام الأسمدة العضوية . ()
- ٤- احترام مواعيد العمل من العادات السلبية للعاملين بالبيئة الصناعية . ()
- ٥- تعتمد صناعة الكمبيوتر والسيارات على الآلات الحديثة . ()

(ب) ما المقصود بالمفاهيم الآتية...؟

١- العشوائيات .

٢- الصناعة .

ثانيا < التاريخ

السؤال الثالث: (١) اختر الإجابة الصحيحة مما بين الأقواس:

- ١- تم فتح القسطنطينية عاصمة الدولة البيزنطية فى عهد السلطان
(سليمان الأول - محمد الفاتح - طومان باى - بايزيد الثانى)
- ٢- هُزمت الجيوش المملوكية فى عام ١٥١٧م عند (مرج دابق - شبراخت - الريدانية - ديوان البحرية)
- ٣- نجح الفرنسيون فى احتلال الإسكندرية بعد مقاومة حاكمها
(عمر مكرم - محمد كريم - الشيخ السادات - الشيخ الشرقاوى)
- ٤- كان مقر الحكومة المركزية فى عهد محمد على بمدينة (الإسكندرية - الغربية - القاهرة - الجيزة)

(ب) ما النتائج التي تترتبت على...؟

١- الحكم العثماني لمصر.

٢- الحملة الفرنسية على مصر من الناحية السياسية.

السؤال الرابع: (١) لمن تنسب الأعمال التاريخية التالية...؟

١- السلطان الذي قام بترحيل أمهر الصناعات والحرفيين إلى الآستانة.

٢- القائد الذي تمكن من تحطيم الأسطول الفرنسي عند أبي قير البحرية.

٣- أقام المشروعات العمرانية والاقتصادية ونهض بالتعليم وأقام إمبراطورية مصرية.

٤- يعد من أقدم ضباط الحملة الفرنسية وتولى بعد مقتل كليبر.

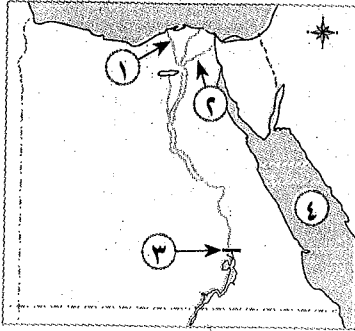
٥- أعطى امتياز حفر قناة السويس للمهندس الفرنسي فرديناند ديليبس عام ١٨٥٤م.

(ب) رتب الأحداث التاريخية التالية من القديم إلى الحديث:

(اتفاقية العريش - محمد علي والياً على مصر - حملة فريزر - حملة الشام)

١٥- محافظة الفيوم - إدارة يوسف الصديق التعليمية

أولاً الجغرافيا



السؤال الأول: (١) أمامك خريطة صماء لمصر اكتب مدلول الأرقام عليها:

- ١- فرع
- ٢- ترعة
- ٣- السد
- ٤- البحر

(ب) أكمل العبارات الآتية بما يناسبها:

١- تظهر على أطراف المدن وهي التي بنيت بدون تخطيط.

٢- يظهر السطح في منخفض الفيوم على شكل

٣- تعد صناعة العطور من الصناعات

(ج) ما المقصود بـ: - الصناعة.

(د) ماذا يحدث إذا...؟- لم تكن هناك زراعة (يكتفى بنقطة واحدة).

السؤال الثاني: (١) اختر الإجابة الصحيحة مما بين الأقواس:

(السطح - الأيدي العاملة - رأس المال - السوق)

١- من العوامل الطبيعية لقيام الصناعة

(السجاد اليدوي - حفظ الفاكهة - الأسمدة - الكمبيوتر)

٢- من الصناعات البسيطة

(المياه الجوفية - الأمطار - نهر النيل - البحر المتوسط)

٣- تعتمد الزراعة في الواحات على

(ب) صنف العبارات الآتية فى الجدول التالى:

(السطح - الأيدى العاملة - رأس المال - المناخ)

عوامل طبيعية لقيام الزراعة	عوامل بشرية لقيام الزراعة	١
.....	١
.....	٢

(ج) بهم تفسر...؟

- ١- هجرة السكان من الريف إلى المدينة.
- ٢- اهتمام مصر بزيادة الصادرات.
- ٣- تعد محافظة الفيوم محافظة جذب سياحى.

ثانياً التاريخ

السؤال الثالث: (١) اكتب كلمة (صواب) أمام العبارة الصحيحة، وكلمة (خطأ) أمام العبارة غير الصحيحة:

- ١- اكتشف البريطانيون طريق رأس الرجاء الصالح. ()
- ٢- نجحت الحملة الفرنسية فى جعل مصر قاعدة للإمبراطورية الفرنسية فى الشرق. ()
- ٣- كان للزعامة الشعبية دور فى تولية محمد على حكم مصر. ()

(ب) رتب الأحداث التاريخية من القديم إلى الحديث:

(موقعة أبى قير البحرية - مذبحه القلعة - موقعة مرج دابق - ثورة القاهرة الثانية)

(ج) ما النتائج المترتبة على...؟

- ١- موقعة أبى قير البحرية.
- ٢- ترحيل السلطان العثمانى لأمهر الصناع والحرفيين إلى الآستانة.

السؤال الرابع: (١) صوب ما تحته خط فى العبارات الآتية:

- ١- أصبحت مصر ولاية عثمانية بعد موقعة إمبابة.
- ٢- جاءت الحملة الفرنسية بقيادة فريزر على مصر.
- ٣- قاد مينو الحملة الفرنسية بعد رحيل نابليون.

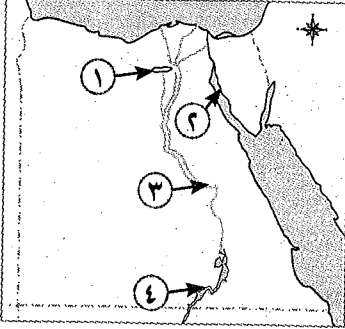
(ب) اكتب اسم الشخصية التى تتحدث عن نفسها:

- ١- كان لى دور كبير فى تولية محمد على حكم مصر، وكنت نقيب الأشراف.
- ٢- كنت قائد المماليك فى موقعة الريدانية.

(ج) ما رأيك فى: - الحكم العثمانى لمصر؟

١٦- محافظة بني سويف - إدارة بني سويف التعليمية

أولاً الجغرافيا



السؤال الأول: (١) أمامك خريطة صماء لمصر اكتب مدلول الأرقام عليها:

- ١- منخفض
- ٢- خليج
- ٣- نهر
- ٤- بحيرة

(ب) اكتب المصطلح العلمي الدال على العبارات الآتية:

- ١- المناطق التي بُنيت بدون تخطيط وعادة ما تظهر على أطراف المدن.
- ٢- عدم معرفة القراءة والكتابة.
- ٣- تحويل المادة الخام إلى سلع ومنتجات لسد احتياجات السكان.
- ٤- إزالة الطبقة السطحية من التربة مما يؤدي إلى تدهورها.

السؤال الثاني: (١) اكتب كلمة (صواب) أمام العبارات الصحيحة، وكلمة (خطأ) أمام العبارات الخاطئة:

- () ١- من محاصيل الحبوب القمح والأرز والكتان.
- () ٢- تم تهجير سكان النوبة بعد بناء السد العالي.
- () ٣- تتنوع الصناعات بتنوع المواد الخام.
- () ٤- تعد صناعة الأسمدة والأدوية من الصناعات المعدنية.
- () ٥- يفضل نقل المصانع التي تضر بالبيئة خارج المناطق السكنية.

(ب) بهم تفسر...؟

- ١- تداخل البيئات المصرية.
- ٢- إنشاء الدولة ووزارة البيئة.

ثانياً التاريخ

السؤال الثالث: (١) أكمل العبارات التالية بكلمة مناسبة:

- ١- قام السلطان بترحيل أمهر الصنائع والحرفيين إلى الآستانة.
- ٢- من الأسباب المعلنة للحملة الفرنسية على مصر تآديب
- ٣- أبحرت الحملة الفرنسية من ميناء في مايو ١٧٩٨م.
- ٤- قاوم حاكم الإسكندرية الحملة الفرنسية.

(ب) ما النتائج المترتبة على...؟

- ١- اكتشاف طريق رأس الرجاء الصالح عام ١٤٩٨م.
- ٢- الحملة الفرنسية على مصر.

السؤال الرابع: (١) اختر الإجابة الصحيحة مما بين القوسين:

- ١- تولى المماليك حكم البلاد بعد انتهاء الدولة (الفاطمية - الأيوبية - العباسية - الأموية)
 ٢- أنشأ محمد على ترسانة لبناء السفن فى (بورسعيد - السويس - الإسكندرية - دمياط)
 ٣- استيلاء دولة على دولة أخرى قهراً يسمى (اجتلالاً - مستعمرة - حملة - حرية)

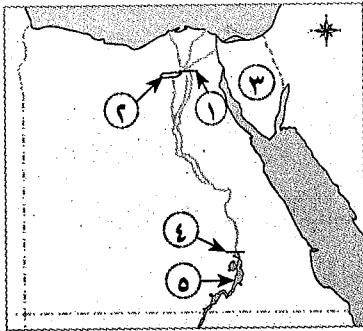
(ب) رتب الأحداث التاريخية التالية من القديم إلى الحديث:

(معاهدة لندن - موقعة الريدانية - مذبحه القلعة - تولية محمد على حكم مصر)

١٧- محافظة المنيا - ادارة المنيا التعليمية

أولاً الجغرافيا

السؤال الأول: (١) أمامك خريطة صماء لمصر اكتب مدلول الأرقام عليها:



- ١- القناطر
 ٢- منخفض
 ٣- شبه جزيرة
 ٤- السد
 ٥- بحيرة

(ب) اكتب ما تشير إليه كل عبارة من العبارات الآتية:

- ١- سهل يتكون على جانبي النهر نتيجة الرواسب الطينية.
 ٢- بناء هندسى يشيد على الأنهار لتجنب أخطار الفيضانات.
 ٣- إزالة الطبقة السطحية من التربة مما يؤدي إلى تدهورها.

السؤال الثانى: (١) أكمل العبارات الآتية مما بين القوسين:

(الفيوم - النوبارية - الحرفية - سوداء - بيضاء - الدلتا - الواحات)

- ١- توجد الزراعة المروية بمياه النيل بمصر فى
 ٢- تتميز التربة الطينية بأنها خصبة و اللون.
 ٣- تعتمد الصناعة على العمل اليدوى وتحتاج إلى رأس مال قليل.
 ٤- توجد ترعة غرب الدلتا.
 ٥- عين السيلين من المعالم السياحية فى محافظة

(ب) بم تفسر...؟

- ١- تناقص الأراضى الزراعية بمصر.
 ٢- أهمية البيئة الصناعية.

ثانياً التاريخ

السؤال الثالث: (١) اكتب كلمة (صواب) أمام العبارة الصحيحة وكلمة (خطأ) أمام العبارة غير الصحيحة:

- ١- استطاع سليم الأول هزيمة المماليك فى مصر والشام. ()
 ٢- ازدهرت النواحي العلمية والثقافية فى ظل الحكم العثمانى. ()

- ٣- جاءت الحملة الفرنسية على مصر بحجة تأديب العثمانيين.
٤- اكتشف البريطانيون طريق رأس الرجاء الصالح.
٥- دبر (محمد علي) في مارس ١٨١١م مكيده للقضاء على المماليك.
(ب) تخير من أرقام القائمة (ب) بما يناسبها من القائمة (أ):

(ب)	(أ)
١- كليبر.	() كانت مدة حكمه تتراوح بين عام وثلاثة أعوام.
٢- طوسون باشا.	() أعطى امتياز حفر قناة السويس للمهندس ديليسبس.
٣- سعيد باشا.	() عندما عجز عن إخماد ثورة القاهرة الثانية دمر حى بولاق.
٤- الوالى.	

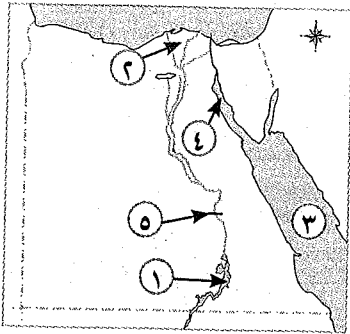
السؤال الرابع: (أ) اختر الإجابة الصحيحة من بين الأقواس:

- ١- أصبحت مصر ولاية عثمانية عام ١٥١٧م بعد موقعة
(ديو البحرية - جالديران - أبى قير البحرية - الريدانية)
٢- قام الأسطول الإنجليزي بتحطيم الأسطول الفرنسى فى موقعة
(ديو البحرية - مرج دابق - أبى قير البحرية - أبى قير البرية)
٣- أرسلت بريطانيا حملة إلى مصر فى مارس ١٨٠٧م بقيادة
(فريزر - كرومر - مينو - ديليسبس)
٤- اهتم (محمد علي) بالتعليم فأرسل بعثات إلى الخارج وخاصة إلى دولة
(إنجلترا - إيطاليا - إسبانيا - فرنسا)
(ب) رتب الأحداث التاريخية التالية من القديم إلى الحديث: (موقعة شبراخيت - معاهدة لندن - موقعة مرج دابق).

١٨- محافظة أسيوط - إدارة أسيوط التعليمية

أولا < الصحراء

السؤال الأول: (أ) أمامك خريطة صماء لمصر اكتب مدلول الأرقام عليها:



- ١- بحيرة
٢- منطقة ضمن البيئة الزراعية
٣- البحر
٤- خليج
٥- قناطر

(ب) ما المقصود بالمفهومين التاليين...؟

- ١- الأمية. ٢- الاستنزاف.

السؤال الثاني: (أ) اختر الإجابة الصحيحة من بين الأقواس:

- ١- تعتمد الزراعة في الواحات بمصر على مياه (نهر النيل - الأمطار - الآبار والعيون - الثلوج)
- ٢- توجد عين السيلين وبحيرة قارون في محافظة (الفيوم - المنوفية - القاهرة - القليوبية)
- ٣- من العوامل البشرية لقيام الصناعة (الموقع الجغرافي - المناخ - رأس المال - المواد الخام)
- ٤- من خصائص سكان البيئة الصناعية (ارتفاع نسبة البطالة - مشاركة المرأة في العمل - ارتفاع نسبة الأمية - انخفاض مستوى الدخل)
- ٥- من الصناعات الكيماوية صناعة (الحديد والصلب - السيارات - الأسمدة - البلاستيك)

(ب) اذكر سببًا واحدًا لكل مما يأتي:

- ١- تندر النباتات الطبيعية في البيئة الزراعية.
- ٢- التلوث البيئي في البيئة الصناعية في مصر.

ثالثًا التاريخ

السؤال الثالث: (أ) اكتب كلمة (صواب) أمام العبارة الصحيحة، وكلمة (خطأ) أمام العبارة غير الصحيحة:

- ١- أدى تنوع البيئات المصرية إلى تنوع الثروات الطبيعية. ()
- ٢- أنشأت الدولة وزارة البيئة لإصدار القوانين والتشريعات لحماية البيئة من الأخطار. ()
- ٣- اكتشف البريطانيون طريق رأس الرجاء الصالح عام ١٤٩٨م. ()
- ٤- أصبحت مصر ولاية عثمانية بعد معركة الريدانية ١٥١٧م. ()
- ٥- قام السلطان سليم الأول بترحيل أمهر الصناعات والحرفيين إلى الأستانة. ()
- ٦- تخلص (محمد علي) من الزعامة الشعبية في مذبحه القلعة. ()

(ب) اذكر نتيجة واحدة لكل مما يأتي:

- ١- الهجرة من الريف إلى المدن.
- ٢- النتائج العلمية والثقافية للحملة الفرنسية على مصر.

السؤال الرابع: (أ) أكمل العبارات الآتية بما يناسبها:

- ١- أبحرت الحملة الفرنسية على مصر سنة ١٧٩٨م من ميناء
- ٢- أمر نابليون بإعدام ستة من مشايخ الأزهر باستثناء الشيخ
- ٣- عندما عجز كليبر عن إخمد ثورة القاهرة الثانية ١٨٠٠م أمر بتدمير حى
- ٤- جاءت الحملة الإنجليزية على مصر في مارس ١٨٠٧م بقيادة
- ٥- أنشأ (محمد علي) العديد من القصور مثل قصر

(ب) اكتب المصطلح الذي تدل عليه كل عبارة من العبارات الآتية:

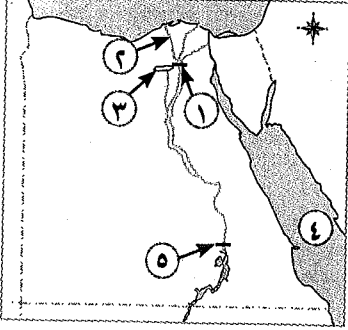
- ١- غلمان تم جلبهم بواسطة التجار، اشتراهم السلاطين والأمراء، وقد تولوا الحكم عقب انهيار الدولة الأيوبية.
- ٢- إقليم يحكمه أجنبي يتوطنه أو يكتفى باستغلاله اقتصاديًا أو عسكريًا.

١٩- محافظة قنا - إدارة نجع حمادى التعليمية

(مجاب عنه ص ٢٥٥)

أولاً الجغرافيا

السؤال الأول: (١) أمامك خريطة صماء لمصر اكتب مدلول الأرقام عليها:



- ١- القناطر.....
- ٢- فرع.....
- ٣- منخفض.....
- ٤- البحر.....
- ٥- السد.....

(ب) بهم تفسر...؟

- تُعد الفيوم محافظة جذب سياحى.

السؤال الثانى : (١) أكمل الفراغات فى العبارات الآتية:

- ١- لجأ كثير من الشباب إلى الهجرة بسبب انتشار.....
- ٢- يقصد ب..... تحويل المادة الخام إلى سلع ومنتجات .
- ٣- أدى التوسع العمرانى وتجريف التربة إلى وجود مشكلة
- ٤- تحتاج الصناعة إلى عدد كبير من العمال .
- ٥- الزراعة تعتمد على مياه نهر النيل وتوجد فى السهول الفيضية الخصبة .

(ب) ما النتائج المترتبة على...؟ - هجرة سكان الريف إلى البيئة الصناعية.

ثانياً التاريخ

السؤال الثالث: (١) ضع كلمة (صواب) أمام العبارة الصحيحة وكلمة (خطأ) أمام العبارة غير الصحيحة:

- ١- فرضت الدولة العثمانية سيطرتها على مصر عام ١٥١٧م. ()
- ٢- أنشأ محمد على قصر الجوهرة بالقلعة. ()
- ٣- كان نظام الحكم العثمانى لمصر عادلاً. ()
- ٤- ضمت الحملة الفرنسية على مصر مجموعة من الرسامين والعلماء والكتّاب. ()

(ب) ما المقصود بالمفاهيم التاريخية التالية...؟

- ١- مستعمرة.
- ٢- الحامية العثمانية.

السؤال الرابع : (١) لمن تنسب هذه الأعمال الآتية...؟

- ١- قام بتحطيم الأسطول الفرنسى عند أبى قير البحرية (أغسطس ١٧٩٨م).
- ٢- قائد الجيش المملوكى فى معركة الريدانية عام ١٥١٧م.
- ٣- تزعم ثورة القاهرة الثانية (١٨٠٠م) فى حى بولاق.

٤- اهتم بالتعليم في مصر اهتمامًا متميزًا وأرسل بعثات التعليم لفرنسا.

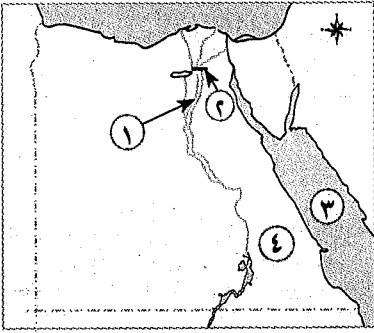
٥- في عهده تم فتح مدينة القسطنطينية عاصمة الدولة البيزنطية في عام ١٤٥٣م.

(ب) كيف تعامل محمد على مع الزعامة الشعبية رغم ما بذلوه في توليته حكم مصر؟ (اذكر رأيك في ذلك)

٢٠- محافظة سوهاج - إدارة ساقطة التعليمية

أولاً الجغرافيا

السؤال الأول: (أ) أمامك خريطة صماء لمصر اكتب مدلول الأرقام عليها:



١- ترعة غرب الوادي.

٢- القناطر على رأس الدلتا.

٣- البحر

٤- الصحراء

(ب) بم تفسر...؟

١- تعد محافظة الفيوم محافظة جذب سياحي.

٢- إنشاء الدولة وزارة البيئة .

(ج) ما المقصود بكل من المفاهيم الجغرافية التالية...؟

١- العشوائيات. ٢- الاستنزاف.

السؤال الثاني: (أ) اكتب كلمة (صواب) أمام العبارة الصحيحة وكلمة (خطأ) أمام العبارة غير الصحيحة.

١- تتميز الأراضي الزراعية بمنخفض الفيوم باستواء السطح. ()

٢- يوجد تكامل بين البيئات المصرية. ()

٣- من محاصيل الحبوب القمح والأرز والكتان. ()

٤- تحرص الدولة على إنشاء المناطق الصناعية لزيادة الصادرات المصرية. ()

(ب) ما النتائج المترتبة على...؟

١- الزحف العمراني على الأرض الزراعية. ٢- إنشاء المزارع السمكية.

(ج) إليك بعض العادات الإيجابية والعادات السلبية في البيئة الزراعية:

(احترام الكبير - الزواج المبكر - التعاون فيما بينهم - تفضيل الذكور على الإناث). صنفها في الجدول الآتي:

العادات السلبية في البيئة الزراعية	العادات الإيجابية في البيئة الزراعية
١-	١-
٢-	٢-

ثانياً التاريخ

السؤال الثالث: (أ) أكمل العبارات الآتية بالكلمات المناسبة فيما يأتي:

- ١- طبق محمد على نظام في الاقتصاد المصري.
- ٢- اكتشف طريق رأس الرجاء الصالح عام ١٤٩٨م.
- ٣- لفتت الحملة الفرنسية أنظار العالم الغربي لموقع مصر الجغرافي خاصة

(ب) لمن تنسب الأعمال الآتية...؟

- ١- حاكم الإسكندرية الذي قاوم الحملة الفرنسية.
- ٢- نجح في إقامة إمبراطورية مصرية امتدت إلى مديريةية خط الاستواء.
- ٣- قاد الحملة الفرنسية على مصر ١٧٩٨م.

(ج) ما النتائج المترتبة على: معركة أبو قبير البحرية ١٧٩٨م؟

السؤال الرابع: (أ) اختر الإجابة الصحيحة من بين الأقواس:

- ١- أنشأ محمد على ترسانة لبناء السفن في (القاهرة - الإسكندرية - رشيد - بورسعيد)
- ٢- أصبحت مصر ولاية عثمانية بعد معركة عام ١٥١٧م. (مرج دابق - الريدانية - عين جالوت - حطين)
- ٣- تم فتح القسطنطينية عام ١٤٥٣م في عهد السلطان (سليم الأول - محمد الثاني - عثمان بن أرطغرل - طومان باي)

(ب) صوب الكلمات التي تحتها خط:

- ١- نفى محمد على نقيب الأشراف عمر مكرم إلى المنصورة.
- ٢- اجتمع زعماء الشعب والعلماء في دارالحكمة وقرروا عزل خورشيد باشا.

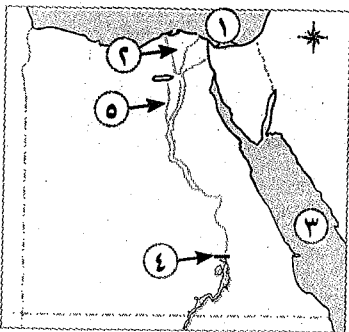
(ج) اكتب ما تشير إليه العبارات الآتية:

- ١- إقليم يحكمه أجنبي يتوطنه أو يكتفى باستغلاله اقتصادياً.
- ٢- مكيدة دبرها (محمد على) للقضاء على المماليك عام ١٨١١م.

٢١- محافظة أسوان - إدارة كوم أمبو التعليمية

أولاً الجغرافيا

السؤال الأول: (أ) أمامك خريطة صماء لمصر اكتب مدلول الأرقام عليها:



- ١- البحر.....
- ٢- منطقة تركيز السكان.....
- ٣- البحر.....
- ٤- السد.....
- ٥- ترعة.....

(ب) بم تفسر...؟

- تعاني البيئة الصناعية من مشكلات التلوث البيئي.

السؤال الثاني: (أ) اكتب كلمة (صواب) أمام العبارة الصحيحة، وكلمة (خطأ) أمام العبارة غير الصحيحة:

- ١- يمكن أن نجد البيئة الزراعية داخل البيئة الصحراوية. ()
- ٢- أهم الحبوب الغذائية في مصر هي القمح والأرز والكتان. ()
- ٣- من الصناعات الحرفية في البيئة الزراعية صناعة الحديد والصلب. ()
- ٤- التدخين من العادات الإيجابية للبيئة الصناعية. ()

(ب) اكتب ما تدل عليه العبارات الآتية:

- ١- المكان الذي نعيش فيه ويضم مظاهر حضارية ومظاهر طبيعية.
- ٢- عدم معرفة القراءة والكتابة.
- ٣- يقصد بها الأفراد الذين هم في سن العمل ولا يعملون.

ثالثاً التاريخ

السؤال الثالث: (أ) اختر الإجابة الصحيحة مما بين القوسين:

- ١- هزمت الجيوش المملوكية بقيادة السلطان طومان باى فى معركة (الريديانية - مرج دابق - ديواالبحرية)
- ٢- أنشأ محمد على ترسانة لبناء السفن فى (بورسعيد - الإسكندرية - أسوان)
- ٣- قاد الحملة الفرنسية على مصر (مينو - نابليون بوناپرت - كليبر)

(ب) ما النتائج المترتبة على...؟

- ١- معركة الريديانية.
- ٢- الحملة الفرنسية من الناحية العلمية الثقافية.

السؤال الرابع: (أ) رتب الأحداث من الأقدم إلى الأحدث:

(مذبحة القلعة - ثورة القاهرة الأولى - فتح القسطنطينية - اتفاقية العريش)

(ب) لمن تنسب هذه الأعمال التاريخية...؟

- ١- السلطان الذى قام بترحيل أمهر الصناعات والحرفيين إلى الآستانة.
- ٢- يعد من أقدم ضباط الحملة الفرنسية وتولى بعد مقتل كليبر.
- ٣- نائب للسلطان فى الولاية ومقره القلعة.